

نوین گام

مرجع آموزش ابتدایی، دبیرستان و کنکور

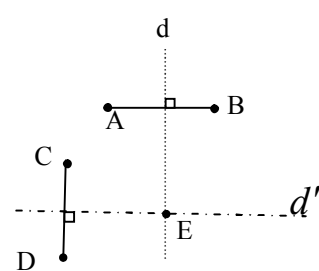


ما توی این مسیر هواتون رو داریم

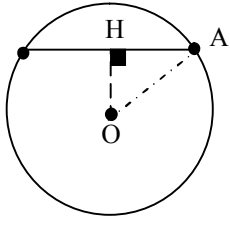
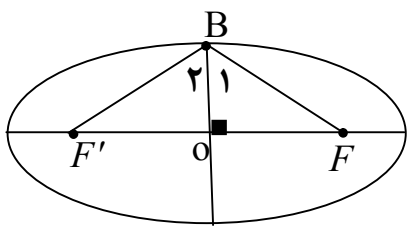
چجوری؟! اینجوری



مدت امتحان: ۱۳۵ دقیقه	ساعت شروع: ۸ صبح	رشته: ریاضی فیزیک	راهنمای تصحیح امتحان نهایی درس: هندسه ۳
تاریخ امتحان: ۱۳۹۹/۴/۱۴		پایه دوازدهم دوره دوم متوسطه	
مرکز سنجش و پایش کیفیت آموزشی http://ace.medu.ir		دانش آموزان روزانه سراسر کشور خرداد ماه سال ۱۳۹۹	

ردیف	راهنمای تصحیح	نمره
۱	الف) ۶- (۰/۲۵) (ب) اسکالر (۰/۲۵) بخش الف) الزامی پ) بیرون (۰/۲۵) (ت) کانون سهمی (۰/۲۵)	۱
۲	الف) نادرست (۰/۲۵) (ب) درست (۰/۲۵) (پ) درست (۰/۲۵) (ت) نادرست (۰/۲۵)	۱
۳	$\begin{cases} m-2=0 \rightarrow m=2 \quad (0/25) \\ n+1=0 \rightarrow n=-1 \quad (0/25) \end{cases}$ $B = \begin{bmatrix} 2 & 1 & 1 \\ 2 & 0 & -1 \\ 3 & -1 & 2 \end{bmatrix} \xrightarrow{(0/25)} B = 2(-1) - 1(7) + 1(-2) = -11 \quad (0/5), A = 2 \quad (0/25)$ $ A + B = 2 + (-11) = -9 \quad (0/25)$	۱/۲۵
۴	الف) (ب) ماتریس A وارون پذیر است و وارون آن برابر است با:	۱/۲۵
	$ A = 5 \quad A ^{-24} \xrightarrow{(0/5)} A = 6 \quad (0/25)$ $A^{-1} = \frac{1}{6} \begin{bmatrix} 5 & -8 \\ -3 & 6 \end{bmatrix} \quad (0/5)$	
۵	$\begin{bmatrix} 1 & x \end{bmatrix} \begin{bmatrix} 2 & 4 \\ 1 & 2 \end{bmatrix} \begin{bmatrix} 2 \\ 1 \end{bmatrix} = 0 \rightarrow \underbrace{\begin{bmatrix} 2+x & 4+2x \end{bmatrix}}_{(0/5)} \begin{bmatrix} 2 \\ 1 \end{bmatrix} = \underbrace{\begin{bmatrix} 4+2x+4+2x \end{bmatrix}}_{(0/5)} = 0 \rightarrow x = -2 \quad (0/25)$	۱/۲۵
۶	<p>مکان هندسی نقاطی که از A و B به یک فاصله اند، عمود منصف پاره خط AB است این خط را d می نامیم (۰/۲۵) و مکان هندسی نقاطی که از نقطه C و D به یک فاصله باشد، عمود منصف پاره خط CD است این خط را d' می نامیم (۰/۲۵)</p> <p>بنابراین نقطه برخورد خطوط d و d' جواب مسئله است. (نقطه E) (۰/۲۵)</p> <p>اگر خطوط d و d' متقاطع باشند مسئله یک جواب دارد. (۰/۲۵)</p> <p>اگر خطوط d و d' منطبق باشند مسئله بی شمار جواب دارد. (۰/۲۵)</p> <p>اگر خطوط d و d' موازی باشند مسئله جواب ندارد. (۰/۲۵)</p>	۱/۵
		
	« ادامه در صفحه دوم »	

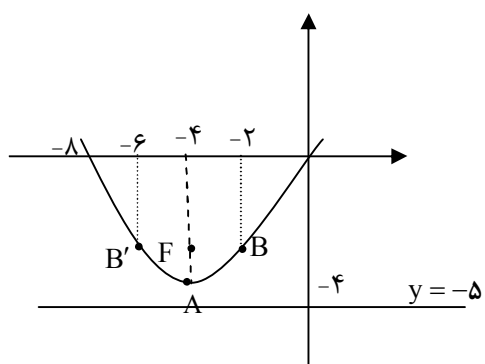
مدت امتحان: ۱۳۵ دقیقه	ساعت شروع: ۸ صبح	رشته: ریاضی فیزیک	راهنمای تصحیح امتحان نهایی درس: هندسه ۳
تاریخ امتحان: ۱۳۹۹/۴/۱۴		پایه دوازدهم دوره دوم متوسطه	
مرکز سنجش و پایش کیفیت آموزشی http://aee.medu.ir		دانش آموزان روزانه سراسر کشور خرداد ماه سال ۱۳۹۹	

ردیف	راهنمای تصحیح	نمره
۷	$OH = \frac{ 2(-1) + 1(-1) - 2 }{\sqrt{2^2 + 1^2}} = \frac{5}{\sqrt{5}} = \sqrt{5} \quad (۰/۲۵)$ $\Delta AOH (H = 90^\circ) : OH^2 + AH^2 = OA^2 \rightarrow (\sqrt{5})^2 + 2^2 = r^2 \quad (۰/۲۵)$ $r = 3 \quad (۰/۲۵) \rightarrow (x+1)^2 + (y+1)^2 = 9 \quad (۰/۲۵)$ 	۱/۲۵
۸	<p>مرکز وشعاع دایره را به دست می آوریم</p> $x^2 + y^2 - 2x + 2y = 0 \rightarrow o(1, -1) \quad , r = \sqrt{2} \quad (۰/۵)$ $OA = 1 \quad (۰/۲۵) \rightarrow OA < r$ <p>نقطه داخل دایره قرار دارد. (۰/۲۵)</p>	۱
۹	$OM = OA = a \quad (۰/۲۵)$ $\Delta OMF : OF^2 + MF^2 = OM^2 \xrightarrow{(۰/۲۵)} c^2 + MF^2 = a^2 \xrightarrow{(۰/۲۵)} MF = b \quad (۰/۲۵)$	۱
۱۰	$2a = \sqrt{2} (2b) \rightarrow a = b\sqrt{2} \xrightarrow{(۰/۲۵)} \cos B_1 = \frac{OB}{BF} = \frac{b}{b\sqrt{2}} = \frac{1}{\sqrt{2}} \rightarrow B_1 = 45^\circ \quad (۰/۲۵)$ $\hat{F}BF' = 2 \times 45 = 90^\circ \quad (۰/۲۵)$ 	۱/۵
۱۱	$2b = 24 \quad , \quad \underbrace{b = 12}_{(۰/۲۵)} \quad , \quad c = 5 \xrightarrow{a^2 = b^2 + c^2} a^2 = 12^2 + 5^2 \rightarrow a = 13 \quad (۰/۲۵) \quad , \quad \frac{c}{a} = \frac{5}{13} \quad (۰/۲۵)$	۱
	« ادامه در صفحه سوم »	

مدت امتحان: ۱۳۵ دقیقه	ساعت شروع: ۸ صبح	رشته: ریاضی فیزیک	راهنمای تصحیح امتحان نهایی درس: هندسه ۳
تاریخ امتحان: ۱۳۹۹/۴/۱۴		پایه دوازدهم دوره دوم متوسطه	
مرکز سنجش و پایش کیفیت آموزشی http://ace.medu.ir		دانش آموزان روزانه سراسر کشور خرداد ماه سال ۱۳۹۹	

ردیف	راهنمای تصحیح	نمره
------	---------------	------

۱۲	<p>الف) فرم استاندارد سهمی به صورت $(x+4)^2 = 4(y+4)$ است (۰/۵)</p> <p>سهمی قائم و دهانه آن رو به بالا باز می شود. (۰/۲۵) رأس سهمی نقطه $A(-4, -4)$ است (۰/۲۵) و $a = 1$ (۰/۲۵)، مختصات کانون آن نقطه $F(-4, -4+1) = (-4, -3)$ است (۰/۲۵). معادله خط هادی سهمی به صورت $y = -4 - 1 = -5$ است (۰/۲۵).</p> <p>ب) نقاط کمکی $B(-2, -3)$ و $B'(-6, -3)$ (۰/۵)</p> <p>رسم سهمی با استفاده از نقاط کمکی (۰/۲۵)</p>	۲/۵
----	---	-----



ب) بخش انتخابی		
-----------------------	--	--

۱۳	<p>الف) $\frac{2m}{2} \neq \frac{3}{-1} \rightarrow m \neq -3$ (۰/۲۵)</p> <p>$A = \begin{bmatrix} 4 & 3 \\ 2 & -1 \end{bmatrix} \rightarrow A = -10 \neq 0$, (۰/۲۵) $A^{-1} = \frac{1}{-10} \begin{bmatrix} -1 & -3 \\ -2 & 4 \end{bmatrix}$ (۰/۲۵)</p> <p>ب) $\begin{bmatrix} x \\ y \end{bmatrix} = \frac{1}{-10} \begin{bmatrix} -1 & -3 \\ -2 & 4 \end{bmatrix} \begin{bmatrix} 1 \\ 3 \end{bmatrix} = \begin{bmatrix} 1 \\ -1 \end{bmatrix} \rightarrow \begin{cases} x=1 \\ y=-1 \end{cases}$ (۰/۵)</p>	۲
----	---	---

۱۴	<p>$y^2 = 4(x-1) \rightarrow S(1, 0)$ (۰/۲۵) , $F(2, 0)$ (۰/۲۵)</p> <p>$(x-2)^2 + y^2 = 9$ (۰/۲۵) , $\begin{cases} y^2 = 4x - 4 \\ y^2 = -x^2 + 4x + 5 \end{cases} \xrightarrow{(۰/۲۵)} \begin{cases} x=3 \text{ (۰/۲۵)} \text{ ق ق} \\ x=-3 \text{ (۰/۲۵)} \text{ غ ق} \end{cases}$</p> <p>$M(3, 2\sqrt{2})$, $M'(3, -2\sqrt{2})$ (۰/۵)</p>	۲
----	---	---

« ادامه در صفحه چهارم »		
-------------------------	--	--

مدت امتحان: ۱۳۵ دقیقه	ساعت شروع: ۸ صبح	رشته: ریاضی فیزیک	راهنمای تصحیح امتحان نهایی درس: هندسه ۳
تاریخ امتحان: ۱۳۹۹/۴/۱۴		پایه دوازدهم دوره دوم متوسطه	
مرکز سنجش و پایش کیفیت آموزشی http://aee.medu.ir		دانش آموزان روزانه سراسر کشور خرداد ماه سال ۱۳۹۹	
نمره	راهنمای تصحیح		ردیف
۲	<p>الف) بردار \vec{a} در ناحیه چهارم (۰/۵)</p> <p>$\vec{a} + 2\vec{b} = (3, -2, 1) + 2(-2, 1, -1) = (-1, 0, -1)$ (۰/۵)</p> <p>ب) $\vec{a} + 2\vec{b} = \sqrt{2}$ (۰/۲۵)</p> <p>پ) ضرب خارجی دو بردار \vec{a} و \vec{b} بر آنها عمود است (۰/۲۵)</p> <p>$\vec{a} \times \vec{b} = (1, 1, -1)$ (۰/۵)</p>		۱۵
۲	<p>$\vec{a} \cdot \vec{b} = (-2, 0, 2) \cdot (0, 2, 2) = 4$ (۰/۲۵) $\vec{a} = \vec{b} = 2\sqrt{2}$ (۰/۲۵)</p> <p>الف) $\cos \theta = \frac{\vec{a} \cdot \vec{b}}{ \vec{a} \vec{b} } = \frac{1}{2}$ (۰/۲۵) $\rightarrow \theta = 60^\circ$ (۰/۲۵)</p> <p>$\vec{a} + \vec{b} = (-2, 0, 2) + (0, 2, 2) = (-2, 2, 4)$ (۰/۲۵)</p> <p>ب) $(\vec{a} + \vec{b})' = \frac{(\vec{a} + \vec{b}) \cdot \vec{b}}{ \vec{b} ^2} \vec{b} = \frac{12}{8} (0, 2, 2) = (0, 3, 3)$</p>		۱۶
۲۴	" مصحح گرامی، به راه حل های درست و منطبق بر کتاب درسی بارم به تناسب منظور شود "		

نوین گام

مرجع آموزش ابتدایی، دبیرستان و کنکور



ما توی این مسیر هواتون رو داریم

چجوری؟! اینجوری

