


نوین گام

مرجع آموزش ابتدایی، دبیرستان و کنکور



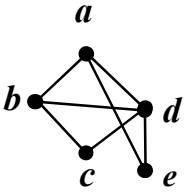
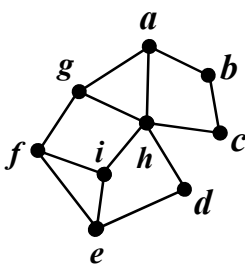
ما توی این مسیر هواتون رو داریم

چجوری؟! اینجوری



سؤالات امتحان نهایی درس : ریاضیات گسسته	رشته : ریاضی فیزیک	نام و نام خانوادگی :	ساعت شروع : ۸ صبح
پایه دوازدهم دوره دوم متوسطه	تعداد صفحه : ۲	تاریخ امتحان : ۱۴۰۱/۰۳/۲۸	مدت امتحان : ۱۲۰ دقیقه
دانش آموزان روزانه، بزرگسال و داوطلبان آزاد سراسر کشور در نوبت خرداد ماه سال ۱۴۰۱		مرکز سنجش و پایش کیفیت آموزشی http://aee.medu.ir	

ردیف	سؤالات پاسخ نامه دارد. (استفاده از ماشین حساب ساده، با چهار عمل اصلی، مجاز است.)	نمره
------	--	------

۱	<p>درست یا نادرست بودن جملات زیر را مشخص کنید.</p> <p>الف) اگر $a b$ و $b \neq 0$، در این صورت $a > b$.</p> <p>ب) برای دو عدد صحیح و ناصفر a و b اگر $(a c, b c)$ و $(\forall m > 0, a m, b m \Rightarrow c \leq m)$ آن گاه $[a, b] = c$.</p> <p>پ) برای هر دو عدد صحیح a و b و عدد طبیعی m، اگر باقی مانده تقسیم a بر m مساوی r باشد، در این صورت $a \equiv r^m$.</p> <p>ت) بزرگترین مقسوم علیه مشترک دو عدد ۴ و ۲- برابر ۲- است.</p>	۱
۲	ثابت کنید برای هر عدد طبیعی زوج n ، $n^2 - 5n + 7$ عددی فرد است.	۱
۳	اگر عددی مانند k در Z باشد، به طوری که $5 4k + 1$ ، ثابت کنید $25 16k^2 + 28k + 6$.	۰/۷۵
۴	باقی مانده تقسیم عدد $A = 27^{20} + 18$ را بر ۱۳ بیابید.	۱
۵	اگر در یک سال، اول مهر شنبه باشد، در این صورت ۱۲ بهمن در همان سال چه روزی است؟	۱/۲۵
۶	<p>جاهای خالی را با عدد یا کلمه مناسب پر کنید.</p> <p>الف) اگر درجه یک رأس فرد باشد، آن را رأس می نامیم.</p> <p>ب) گرافی را که تمام رئوس آن تنها باشد، هیچ یالی نداشته باشد، گراف می نامیم.</p> <p>پ) تعداد یال های گراف K_4، برابر با است.</p> <p>ت) گراف G را می نامیم هرگاه بین هر دو رأس آن حداقل یک مسیر وجود داشته باشد.</p>	۱
۷	<p>به سؤالات زیر کوتاه پاسخ دهید.</p> <p>الف) گراف C_7 را رسم کنید. سپس یک مسیر به طول ۵ بنویسید.</p> <p>ب) در گراف شکل زیر، $N_G(c)$ را با اعضا مشخص کنید.</p>	۱
		
۸	<p>الف) مجموعه احاطه گر مینیمال را تعریف کنید.</p> <p>ب) برای گراف شکل روبه رو، یک مجموعه احاطه گر با ۴ عضو انتخاب کنید.</p>	۱/۲۵
		

ادامه سؤالات در صفحه دوم

سؤالات امتحان نهایی درس: ریاضیات گسسته	رشته: ریاضی فیزیک	نام و نام خانوادگی:	ساعت شروع: ۸ صبح
پایه دوازدهم دوره دوم متوسطه	تعداد صفحه: ۲	تاریخ امتحان: ۱۴۰۱/۰۳/۲۸	مدت امتحان: ۱۲۰ دقیقه
دانش آموزان روزانه، بزرگسال و داوطلبان آزاد سراسر کشور در نوبت خرداد ماه سال ۱۴۰۱		مرکز سنجش و پایش کیفیت آموزشی http://aee.medu.ir	

ردیف	سؤالات پاسخ نامه دارد. (استفاده از ماشین حساب ساده، با چهار عمل اصلی، مجاز است.)	نمره
------	---	------

۹	عدد احاطه‌گری گراف شکل مقابل را با ارائه راه حل، تعیین کنید.	۱/۲۵
۱۰	ابتدا گراف P_4 را رسم کنید. سپس یک مجموعه احاطه‌گر مینیمم از آن را مشخص کنید.	۱
۱۱	گراف شکل مقابل را در نظر بگیرید. الف) یک γ - مجموعه مشخص کنید. ب) یک مجموعه احاطه‌گر مینیمال با ۴ عضو بنویسید.	۱/۵
۱۲	۶ کتاب متفاوت تاریخ و ۵ کتاب متفاوت ادبیات را به چند طریق می‌توان در یک ردیف کنار هم چید به طوری که: الف) کتاب‌های تاریخ همواره کنار هم باشند. ب) به صورت یک در میان قرار بگیرند.	۱
۱۳	با ارقام ۱، ۱، ۱، ۳، ۳، ۵، ۶، ۷، ۹ چند عدد ۹ رقمی می‌توان نوشت؟	۱
۱۴	معادله $x_1 + x_2 + x_3 + x_4 + x_5 + x_6 = 12$ چند جواب صحیح و نامنفی دارد به شرط آن که $x_3 = 4$ و $x_5 > 2$ باشد؟	۱/۵
۱۵	الف) مربع لاتین A را در نظر بگیرید. با اعمال جایگشت $1 \rightarrow 3$ $2 \rightarrow 2$ $3 \rightarrow 4$ $4 \rightarrow 1$ مربع لاتین B را به دست آورید. ب) آیا دو مربع لاتین A و B متعامدند؟ دلیل بیاورید.	۲
۱۶	به چند طریق می‌توان ۵ سیب را بین ۳ نفر توزیع کرد، به طوری که هر نفر حداقل یک سیب داشته باشد؟	۱/۲۵
۱۷	ثابت کنید اگر در یک دبیرستان حداقل ۵۰۵ دانش‌آموز مشغول تحصیل باشند، لاقلاً ۷ نفر از آن‌ها روز هفته و ماه تولدشان یکسان است.	۱/۲۵
	"موفق باشید"	جمع نمره
		۲۰

نوین گام

مرجع آموزش ابتدایی، دبیرستان و کنکور



ما توی این مسیر هواتون رو داریم

چجوری؟! اینجوری

