

نوین گام

مرجع آموزش ابتدایی، دبیرستان و کنکور

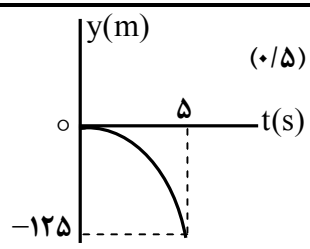
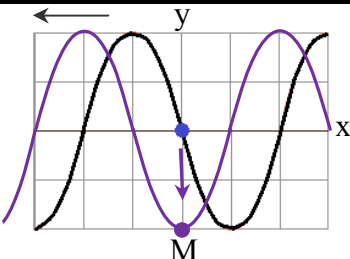


ما توی این مسیر هواتون رو داریم

چجوری؟! اینجوری

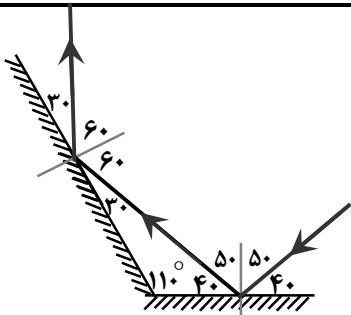
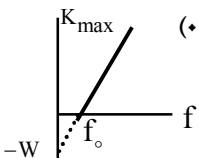


راهنمای تصحیح امتحان نهایی درس فیزیک ۳	رشته: ریاضی فیزیک
پایه دوازدهم دوره دوم متوسطه	تاریخ امتحان: ۱۳۹۹ / ۳ / ۲۵
دانش آموزان روزانه سراسر کشور در نوبت خرداد ماه سال ۱۳۹۹	مرکز سنجش و پایش کیفیت آموزشی http://aee.medu.ir

ردیف	پاسخ ها	نمره
۱	الف) جابجایی ت) مماس ب) تغییر سرعت ث) شتاب لحظه ای پ) با سرعت ثابت (یکنواخت)	۱/۲۵ هر مورد (۰/۲۵) ص ۲ و ۷ و ۱۰ و ۱۱
۲	الف) (۰/۵) $\Delta x = \left(\frac{10 \times 15}{2}\right) = 75 \text{ m}$ ب) (۰/۵) $a_{av} = \frac{0 - 10}{10} = -1 \text{ m/s}^2$	۱/۵ $\Delta x = S$ (۰/۲۵) $a_{av} = \frac{v - v_0}{t}$ (۰/۲۵) ص ۱۱ و ۱۷
۳	الف) (۰/۲۵) $\Delta y = -\frac{1}{2} g t^2$ ب) (۰/۲۵) $-125 = -5 t^2$ ت) (۰/۲۵) $t = 5 \text{ s}$ پ) رسم نمودار (۰/۵)	۱/۲۵ ص ۲۴ 
۴	الف) (د) ب) (د) پ) (ن) ت) (د) ث) (ن)	۱/۲۵ هر مورد (۰/۲۵) ص ۴۹ و ۵۱ و ۵۲ و ۵۴ و ۵۵
۵	الف) ثابت می ماند ب) افزایش می یابد پ) افزایش می یابد	۰/۷۵ هر مورد (۰/۲۵) ص ۵۹
۶	الف) (۰/۲۵) $10x = 24$ ب) (۰/۲۵) $L_2 = 17/4 \text{ cm}$ پ) (۰/۲۵) $x = L_2 - L_1$ ت) (۰/۲۵) $20 - 10x = 2(-2)$	۱/۲۵ ص ۵۸ $mg - F_c = ma$ (۰/۲۵) $x = 2/4 \text{ cm}$ (۰/۲۵)
۷	الف) (۰/۲۵) $F_{av} = 1500 \text{ N}$ ب) (۰/۲۵) $ F_{av} = \left \frac{60 \times (-5)}{0.2} \right $	۱ ص ۵۹ $F_{av} = \frac{\Delta p}{\Delta t} = \frac{m(\Delta v)}{\Delta t}$ (۰/۵)
۸	الف) عرضی ب) بیشتر پ) افزایش ت) سرخ	۱ هر مورد (۰/۲۵) ص ۷۵ و ۷۷ و ۸۲ و ۸۳
۹	الف) (۰/۲۵) $v_{max} = \pi \text{ m/s}$ ب) (۰/۲۵) $E = 0.05 \pi^2 \text{ J}$ پ) (۰/۲۵) $v_{max} = 0.02 \times 50 \pi$ ت) (۰/۲۵) $E = \frac{1}{2} \times 0.1 \times 2500 \times \pi^2 \times 4 \times 10^{-4}$	۱/۵ ص ۶۷ $v_{max} = A\omega$ (۰/۲۵) $E = \frac{1}{2} m\omega^2 A^2$ (۰/۲۵)
۱۰	پایین (۰/۲۵)، رسم درست شکل (۰/۵)	۰/۷۵ ص ۸۶ 
۱۱	الف) (۰/۲۵) $\Delta\beta = 20 \text{ dB}$ ب) (۰/۲۵) $\Delta\beta = 10 \log \frac{100 I_1}{I_1}$ ت) (۰/۲۵) $\Delta\beta = 10 \log \frac{I_2}{I_1}$	۰/۷۵ ص ۸۱

ادامه پاسخ ها در صفحه دوم

راهنمای تصحیح امتحان نهایی درس فیزیک ۳	رشته: ریاضی فیزیک
پایه دوازدهم دوره دوم متوسطه	تاریخ امتحان: ۱۳۹۹ / ۳ / ۲۵
دانش آموزان روزانه سراسر کشور در نوبت خرداد ماه سال ۱۳۹۹	مرکز سنجش و پایش کیفیت آموزشی http://aee.medu.ir

ردیف	پاسخ ها	نمره
۱۲	رسم درست پرتوها (۰/۵) تعیین زاویه بازتاب در هر دو آینه (۰/۵)	۱
		
۱۳	طول موج کاهش می یابد ، بسامد ثابت می ماند و تندی انتشار کاهش می یابد	هر مورد (۰/۲۵) ۰/۷۵
۱۴	الف) بیشتر می شود ب) کمتر می شود	هر مورد (۰/۲۵) ۰/۵
۱۵	الف) $f_2 = 6f_1 = 540 \text{ Hz}$ (۰/۵) ب) $L = 1 \text{ m}$ (۰/۲۵)	$f_{n+1} - f_n = f_1$ (۰/۲۵) $f_1 = 360 - 270 = 90 \text{ Hz}$ (۰/۲۵) $f = \frac{nv}{2L}$ (۰/۲۵) $90 = \frac{1 \times 180}{2L}$
۱۶	$x = 5t - 20$ (۰/۲۵) $x = vt + x_0$ (۰/۲۵)	$v = \frac{\Delta x}{\Delta t} = \frac{60 - (-20)}{16} = 5 \text{ m/s}$ (۰/۵)
۱۷	$a = 7/5 \text{ m/s}^2$ (۰/۲۵) $T - f_k = ma$ (۰/۲۵)	$f_k = \mu_k F_N = 0/25 \times 400 = 100 \text{ N}$ (۰/۵)
۱۸	$t = \frac{50 \times 2/4}{60} = 2 \text{ min}$ (۰/۵)	$T = 2\pi \sqrt{\frac{L}{g}} = 2 \times 3 \sqrt{\frac{1/6}{10}} = 2/4 \text{ s}$ (۰/۵)
۱۹	تجزیه نور سفید در منشور به نورهای رنگی مختلف (۰/۵) ، ضریب شکست هر محیط (به جز خلأ) به طول موج نور بستگی دارد ، بنابراین پرتوها هنگام عبور از مرز دو محیط در زاویه های مختلفی ، شکسته می شوند . (۰/۵)	۱
۲۰	کمترین انرژی لازم برای خارج کردن الکترون ها از سطح فلز (۰/۵) ، رسم نمودار (۰/۵)	
۲۱	$\Delta E = 2/55 \text{ eV}$ (۰/۲۵)	$\Delta E = E_R \left(\frac{1}{n_1^2} - \frac{1}{n_2^2} \right)$ (۰/۲۵) $\Delta E = 13/6 \times \left(\frac{1}{4} - \frac{1}{16} \right)$ (۰/۵)
۲۲	سوخت هسته ای ، ماده گندساز ، میله های کنترل ، شاره ای برای خنک کردن	هر مورد (۰/۲۵) ۱۵۱ص
۲۳	$N = \frac{N_0}{2^n} = \frac{N_0}{2^5} = \frac{1}{32} N_0$ (۰/۵)	$n = \frac{t}{T} = \frac{40}{8} = 5$ (۰/۵)
۲۴	همکاران محترم ، ضمن عرض خسته نباشید لطفاً برای پاسخ های درست دیگر ، نمره لازم را در نظر بگیرید .	۲۴

نوین گام

مرجع آموزش ابتدایی، دبیرستان و کنکور



ما توی این مسیر هواتون رو داریم

چجوری؟! اینجوری

