

# نوین گام

## مرجع آموزش ابتدایی، دبیرستان و کنکور



ما توی این مسیر هواتون رو داریم

چجوری؟! اینجوری



آزمون عملکردی مطالعات آذر ماه ۹۷

نام و نام خانوادگی:  
ای

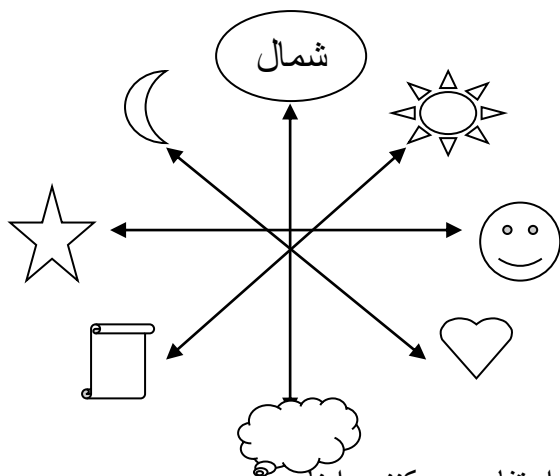
دبستان بانک سپه کلانکش

آموزگار: حمزه

- ۱- در زیر نقشه ی کشور عزیز ما ایران آمده است. موارد خواسته شده در زیر را روی نقشه انجام بده.
    - الف- نام دریاها را بنویس و آن ها را با مداد آبی رنگ بزن.
    - ب- استان خود را روی نقشه پیدا کن و آن را با مداد سبز رنگ بزن.
    - پ- جا خالی های زیر را با کلمات مناسب پر کن.
- نام استان ما ..... و مرکز این استان شهر ..... است.



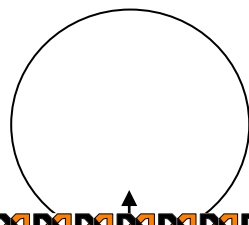
۲) جهت هر کدام از موارد زیر را بنویس.

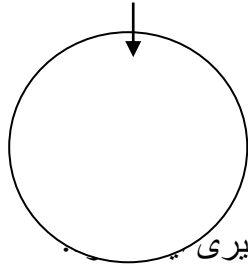


- خورشید: .....
- ستاره: .....
- ایر: .....
- ماه: .....

۳) چهار مورد از وسایلی که جغرافی دانان برای کار خود استفاده می کنند را نام ببر.

۲- هر تمدن ویژگی هایی دارد که با آن ها شناخته می شود. این ویژگی ها را در دایره های زیر بنویس.





کشف آتش در هر یک از موارد زیر چه تغییری

مسکن

غذا



موفق باشیدو

حمزه ای



نظر معلم

# نوین گام

## مرجع آموزش ابتدایی، دبیرستان و کنکور



ما توی این مسیر هواتون رو داریم

چجوری؟! اینجوری

