


# نویسن گام

## مرجع آموزش ابتدایی، دبیرستان و کنکور



ما توی این مسیر هواتون رو داریم

چجوری؟! اینجوری



برترین کانال کلاس چهارم

# کانال کلاس چهارم قشم

نمونه سوالات استاندارد همراه با پاسخنامه

برترین و با کیفیت ترین تدریس ها

آموزش تولید محتوا

درسنامه، طرح درس

تکالیف روزانه و هفتگی

و...



09179574756

میلاذ دریانورد

جهت پیوستن به کانال کلاس چهارم قشم  
کلمه درخواست عضویت را به شماره بالا واتساپ نمایید

به نام خدا

ارزشیابی درس ریاضی

دبستان .....

نام و نام خانوادگی:

پایه ی چهارم



نام پدر:

پاسخنامه کاربرگ شماره (۳)

آموزگار:

تاریخ:

آزمونک ریاضی (ماشین ورودی- خروجی)

۱. به سوالات زیر پاسخ دهید.

الف) محیط مربع را چگونه به دست می آوردید؟ محیط مربع: .....

ب) با توجه محیط مربع جدول زیر را کامل کنید.

طول ضلع مربع	۶	۷		۱
محیط مربع	۲۴		۳۶	

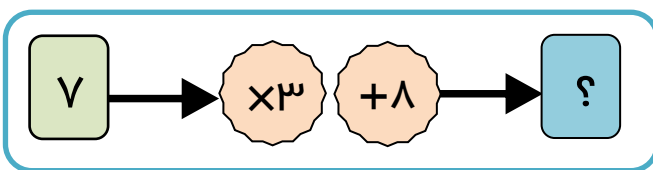
۲. جاهای خالی را پر کنید.

۱۵	
۴۵	÷ ۵
	۶

۵	
	× ۶
۳	۴۸

۲	
۸	× ۹
	- ۹
	۳۶

۳. کار ماشین رو به رو را توضیح دهید.



هر عددی که وارد ماشین می شود ابتدا .....

۴. اگر پول مریم سه برابر پول محسن باشد، جدول را کامل کنید.

	پول محسن	پول مریم
	۱۰	
	۳۰	
		۶۰



## به نام خدا

ارزشیابی درس ریاضی  
پایه ی چهارم  
کاربرگ شماره (۳)  
تاریخ:

دبستان .....



آزمونک ریاضی (ماشین ورودی- خروجی)

نام و نام خانوادگی:  
نام پدر:  
آموزگار:

۱. به سوالات زیر پاسخ دهید.

الف) محیط مربع را چگونه به دست می آوردید؟ محیط مربع: **طول یک ضلع  $\times ۴$** .....

ب) با توجه محیط مربع جدول زیر را کامل کنید.

طول ضلع مربع	۶	۷	۹	۱
محیط مربع	۲۴	۲۸	۳۶	۴

۲. جاهای خالی را پر کنید.

۱۵	۳
۴۵	۹
۳۰	۶

$\div ۵$

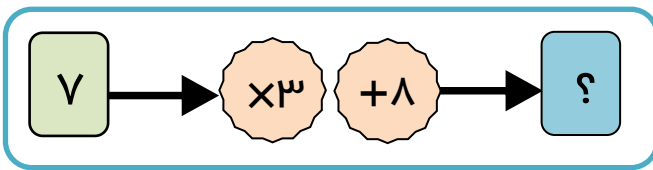
۵	۳۰
۸	۴۸
۳	۱۸

$\times ۶$

۲	۹
۸	۶۳
۵	۳۶

$\times ۹$     $- ۹$

۳. کار ماشین رو به رو را توضیح دهید.



هر عددی که وارد ماشین می شود ابتدا **در عدد ۳ ضرب شده و بعد با عدد ۸ جمع بسته می شود**.....

۴. اگر پول مریم سه برابر پول محسن باشد، جدول را کامل کنید.

	پول محسن	پول مریم
$\times ۳$	۱۰	۳۰
	۳۰	۹۰
	۲۰	۶۰

# نوین گام

## مرجع آموزش ابتدایی، دبیرستان و کنکور



ما توی این مسیر هواتون رو داریم

چجوری؟! اینجوری

