


نوین گام

مرجع آموزش ابتدایی، دبیرستان و کنکور



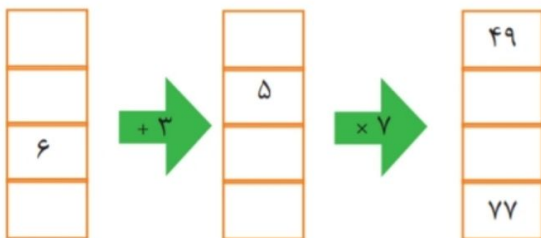
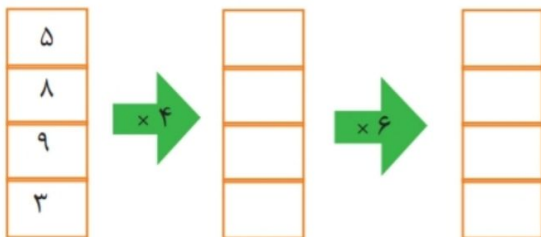
ما توی این مسیر هواتون رو داریم

چجوری؟! اینجوری





۱- جاهای خالی را کامل کنید.

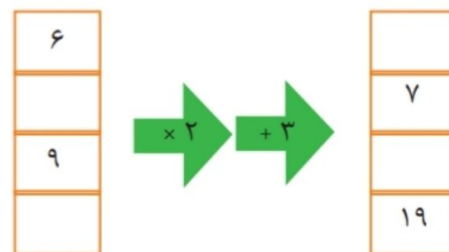
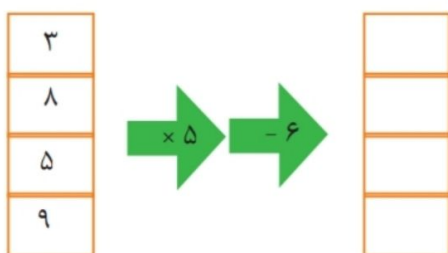


۲- جاهای خالی را کامل کنید.

طول ضلع مربع	۵		۹	
محیط مربع		۲۸		۵۲


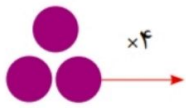
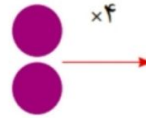
طول ضلع مثلث متساوی الاضلاع	۴		۹	
محیط		۲۱		۱۵

۳- جاهای خالی را پر کنید.



ریاضی چهارم ابتدایی کاربرد ۳- ماشین های ورودی و خروجی

۴- با توجه به کاری که ماشین انجام می دهد، شکل بعد را رسم کنید. به نمونه توجه کنید.



۵- تساوی های زیر را کامل کنید.

$$۸۰۰۰۰ + ۵۰۰۰۰ + ۳۰۰۰ + ۵۰۰ + ۷۰ + ۸ = \text{-----}$$

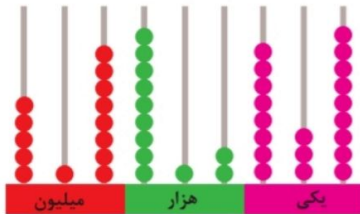
$$۴۵۲۸۰۹ = \text{.....} + \text{.....} + \text{.....} + \text{.....} + \text{.....}$$

$$۳۱۵۹۸۶ = \text{.....} + \text{.....} + \text{.....} + \text{.....} + \text{.....} + \text{.....}$$

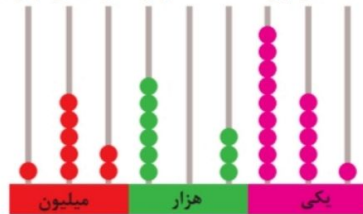
$$۷۰۰۰۰ + ۲۰۰۰ + ۵۰۰ + ۳ = \text{-----}$$



۱- با توجه به هر چرتکه، عدد مربوطه را به رقم و حروف بنویسید.



رقم: _____
حروف: _____



رقم: _____
حروف: _____

۲- با توجه به جدول، عدد آن را به رقم و حروف بنویسید.

میلیون	هزار	یکی
۵۸	۱۲۳	۷۶۵

رقم: _____
حروف: _____

میلیون	هزار	یکی
۳۱۹	۸۰۰	۱۸۵

رقم: _____
حروف: _____

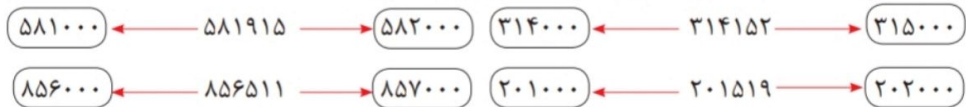
۳- ارزش پول‌ها را به ریال و تومان بنویسید.



ریال _____
تومان _____

ریال _____
تومان _____

۴- عددهای داده شده به کدام عدد نزدیک‌تر است؟ آن را رنگ کنید.



۵- الگوهای عددی را ادامه دهید.

۵۰۰۰۰۰ و ۶۰۰۰۰۰ و _____ و _____ و _____

۹۲۰۰۰۰ و ۹۳۰۰۰۰ و ۹۴۰۰۰۰ و ۹۵۰۰۰۰ و _____ و _____ و _____

۹۹۴۰۰۰ و ۹۹۵۰۰۰ و ۹۹۶۰۰۰ و _____ و _____ و _____

۶- رقم‌های طبقه‌ی یکی (یکان، دهگان، صدگان) عددهای زیر را حذف کنید و به جای آن‌ها صفر بگذارید. سپس آن‌ها را به رقم و حروف بنویسید.

۵۴۸۹۱۲ → _____ حروف: _____ رقم: _____

۹۱۶۲۵۲ → _____ حروف: _____ رقم: _____

کاربرگ ۴- معرفی میلیون

ریاضی چهارم ابتدایی

۴۷۲۳۱۵۹ ○ ۴۷۲۳۵۱۹

۷- دو عدد مقابل را چگونه مقایسه می کنید؟ توضیح دهید.

توضیح:

۸- با توجه به شکل عددهای مربوطه را نوشته و علامت مناسب بگذارید. ($<$ $=$ $>$)



۹- عددهای زیر را با هم مقایسه کنید.

۳۷۵۸۱۹ ○ ۳۷۵۸۹۱

۷۵۱۳۸۱۲ ○ ۷۵۳۰۰۰

۱۳۵۲۹۱۶ ○ ۱۳۵۳۰۰۰

۱۳۵۵۱۳۵۹ ○ ۱۳۸۵۱۳۹۴

۱۰- مانند نمونه حاصل جمع و تفریق های زیر را به دست آورید.

$$\begin{array}{r} 382003 \\ - 3100 \\ \hline 352003 \\ - 1000 \\ \hline 351003 \end{array}$$

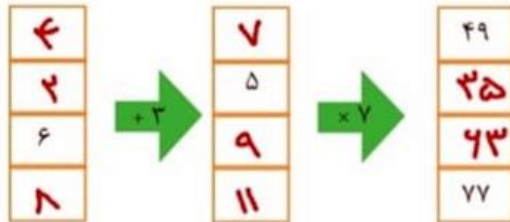
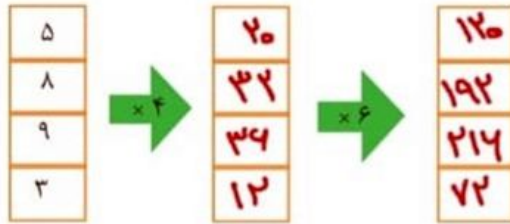
$$\begin{array}{r} 534035 \\ - 211000 \\ \hline \end{array}$$

$$\begin{array}{r} 714352 \\ + 32000 \\ \hline 744352 \\ + 2000 \\ \hline \end{array}$$

$$\begin{array}{r} 895119 \\ + 103000 \\ \hline \end{array}$$



۱- جاهای خالی را کامل کنید.

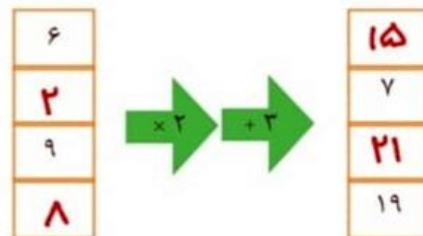
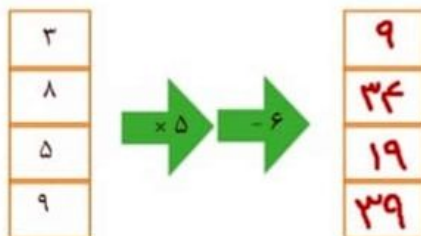


۲- جاهای خالی را کامل کنید.

طول ضلع مربع	۵	۷	۹	۱۳
محیط مربع	۲۰	۲۸	۳۶	۵۲

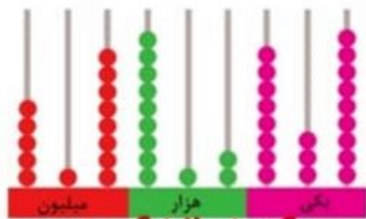
طول ضلع مثلث متساوی الاضلاع	۴	۷	۹	۵
محیط	۱۲	۲۱	۲۷	۱۵

۳- جاهای خالی را پر کنید.





۱- با توجه به هر چرتکه، عدد مربوطه را به رقم و حروف بنویسید.



رقم: ۵۸ میلیون و ۱۲۳ هزار و ۷۶۵



رقم: ۳۱۹ میلیون و ۸۰۰ هزار و ۱۸۵

حروف: صد و پنجاه و دو میلیون و شصت و شش هزار و سیصد و هشتاد و نه
 و سه هزار و نصد و بیست و یک
 و هشتصد و سی و نه

میلیون	هزار	یکی
۵۸	۱۲۳	۷۶۵

میلیون	هزار	یکی
۳۱۹	۸۰۰	۱۸۵

رقم: ۳۱۹ و ۸۰۰ و ۱۸۵ حروف: سیصد و نوزده میلیون و شصت و شش هزار و صد و هشتاد و پنج



۳- ارزش پول‌ها را به ریال و تومان بنویسید.

ریال ۱۰۰۰۰۰۰۰

تومان ۱۰۰۰۰۰۰

ریال ۹۰۰۰۰۰۰

تومان ۹۰۰۰۰۰۰

۴- عددهای داده شده به کدام عدد نزدیک‌تر است؟ آن را رنگ کنید.



۵- الگوهای عددی را ادامه دهید.

۵۰۰۰۰ و ۶۰۰۰۰ و _____ و _____ و _____
 ۹۲۰۰۰ و ۹۳۰۰۰ و ۹۴۰۰۰ و ۹۵۰۰۰ و _____ و _____ و _____
 ۹۹۴۰۰ و ۹۹۵۰۰ و ۹۹۶۰۰ و _____ و _____ و _____

۶- رقم‌های طبقه‌ی یکی (یکان، دهگان، صدگان) عددهای زیر را حذف کنید و به جای آن‌ها صفر بگذارید. سپس آن‌ها را به رقم و حروف بنویسید.

رقم: ۵۴۸۰۰۰ حروف: پانصد و چهل و هشت هزار → ۵۴۸۹۱۲

رقم: ۹۱۶۰۰۰ حروف: نصد و شانزده هزار → ۹۱۶۲۵۲

نوین گام

مرجع آموزش ابتدایی، دبیرستان و کنکور



ما توی این مسیر هواتون رو داریم

چجوری؟! اینجوری

