


نوین گام

مرجع آموزش ابتدایی، دبیرستان و کنکور



ما توی این مسیر هواتون رو داریم

چجوری؟! اینجوری



- عدد چهل و نه چند رقم دارد؟ رقم‌های آن را نام ببرید.

با رقم‌هایی که نام بردی یک عدد دو رقمی دیگر بنویس.

- عدد شصت چند رقمی می‌باشد؟ رقم‌هایش را بنویس.

- یکان عددی ۷ و دهگانش ۴ تا کمتر از یکان آن می‌باشد این عدد چند است؟

- یک عدد دو رقمی بنویس که یکانش کوچک‌ترین عدد یک رقمی و دهگانش بزرگ‌ترین عدد یک رقمی باشد.

- کوچک‌ترین عدد دو رقمی که هر دو رقم آن مثل هم باشد، چند است؟

- چند عدد دو رقمی داریم که یکان آن صفر است؟

این اعداد را بنویسید :

- با رقم‌های (۷، ۰، ۲) هر چند تا عدد دو رقمی که می‌توانید بنویسید.

*عزیزم مسئله‌های زیر را ابتدا با دقت بخوان و سپس آن‌ها را حل کن.

- زینب ۸ سال دارد. او ۹ سال دیگر چند ساله می‌شود؟


(با کمک چوب خط انجام بده)

*فاطمه ۱۸ شاخه گل دارد. ۱۳ تایی آن‌ها گل نرگس و بقیه گل محمدی می‌باشد. فاطمه چند

شاخه گل محمدی دارد؟ (با کمک شکل مسئله را حل کن)

*مغازه داری ۵ بسته ده تایی و ۲ بسته ده تایی سنجاق سر را در یک طبقه گذاشت و سپس ۴ تا یکی به آن‌ها اضافه کرد. حالا جدول را کامل کن و بگو این مغازه دار چند سنجاق سر دارد؟

دهگان	یکان



*دو دسته‌ی ۵ تایی گنجشک روی درخت نشسته بودند؛ ۴ تا گنجشک دیگر آمدند و روی همان درخت نشستند ولی ۲ تا از گنجشک‌ها از روی درخت پرواز کردند و رفتند. حالا چند تا گنجشک روی درخت می‌باشد؟

*نرگس ۴ گلدان داشت که در هر گلدان یک گل زرد، یک گل بنفش، یک گل قرمز و یک گل سفید بود. او تمام گل‌های قرمز گلدان را به مادرش داد. حالا نرگس چند گل در گلدان‌ها دارد؟

*الگوهای عددی زیر را کامل کنید.

۹ - ۱۲ - - - - -

۲۳ - ۲۱ - - - - -

۴۰ - ۳۵ - - - - -

..... - - - - - ۲۴ - ۲۸

*دختر گلم به سؤالات زیر با دقت پاسخ بده.

- عدد ۳۴ چند رقم دارد؟ رقم‌های آن را نام ببر و بنویس
با این رقم‌ها یک عدد دو رقمی دیگر بنویس

- کوچک‌ترین عدد یک رقمی چند است؟

- بزرگ‌ترین عدد یک رقمی چند است؟

- با کوچک‌ترین و بزرگ‌ترین عدد یک رقمی، چند عدد دو رقمی می‌توان نوشت؟

- با رقم‌های (۹ و ۲) هر چند تا عدد دو رقمی می‌توانید بنویسید:

- تعداد عددهای یک رقمی چند تا می‌باشد؟

- کوچک‌ترین عدد دو رقمی چند است؟

- بزرگ‌ترین عدد دو رقمی چند است؟

- رقم‌های عدد ۷۰ را بنویس.

- بزرگ‌ترین عدد دو رقمی که رقم‌های آن تکراری نباشد، چند است؟

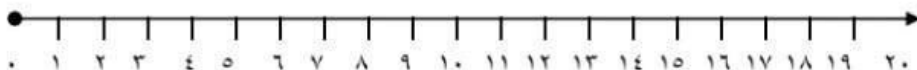
با رقم‌های (۲، ۴، ۵) هر چند تا عدد دو رقمی می‌توانید بنویسید.

*برای جشن تولد زهرا ۳۴ بادکنک صورتی و زرد استفاده شده بود. اگر ۲۲ تای آن بادکنک‌ها صورتی باشد. چند بادکنک زرد بوده است؟ (با کشیدن شکل جواب مسئله را پیدا کن)

*سارا دو بسته‌ی ۶ تایی مداد دارد. او در مجموع چند مداد دارد؟
(برای یافتن پاسخ از محور یا چوب خط استفاده کن)

*امروز دهم مهرماه است. یک هفته بعد چندم ماه مهر می‌شود؟
(روی محور نشان بده تا به جواب راحت‌تر دست پیدا کنی)

*در کلاس دوم نیلوفر سه ردیف میز چیده شده است. اگر در هر ردیف ۴ میز گذاشته شده باشد. روی هم چند میز در کلاس وجود دارد؟ (از محور استفاده کن)



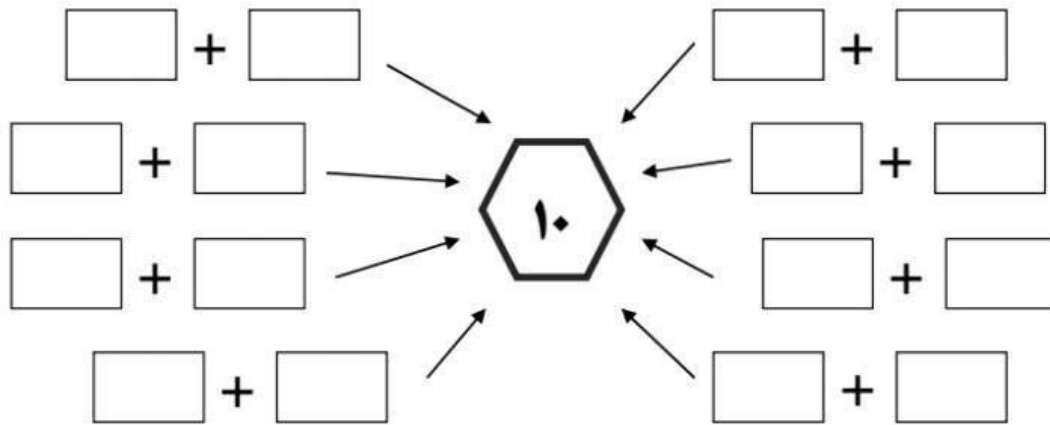
در شمارش ده تا ده تا، عدد بعد از ۶۰ چند است؟

در شمارش ۳ تا ۳ تا، عدد قبل از ۲۱، چند است؟

در شمارش ۷ تا ۷ تا، عدد بعد از ۴۹ چند است؟

در شمارش ۶ تا ۶ تا، عدد قبل از ۵۴ چند است؟

* دختر نازنینم؛ جاهای خالی را با اعدادی پر کن که حاصل جمع آن‌ها ۱۰ شود.



حاصل جمع‌های زیر را به صورت ذهنی محاسبه کنید.

$$۲۰ + ۵ + ۱۰ + ۵ + ۵ =$$

$$۳۰ + ۲۰ + ۵ + ۵ + ۱۰ + ۲۰ =$$

$$۴۰ + ۵ + ۱۰ + ۲ + ۱۰ =$$

$$۶۰ + ۲۰ + ۵ + ۵ + ۵ + ۱۰ =$$

$$۳۰ + ۱۰ + ۵ + ۲۰ + ۱۰ + ۵ + ۲۰ =$$

دختر خوشگلم جمع و تفریق‌های زیر را با روش دلخواه به دست آورید.

$8+7=$

$11-8=$

$6+6=$

$5+4=$

$15-4=$

$14-8=$

$9+6=$

$17-9=$

$6+8=$

$7+5=$

$12-6=$

$9+9=$

$8+8=$

$13-7=$

$13-4=$

$7+7=$

$14-5=$

$15-9=$

* با رقم‌های (۹ و ۰ و ۱) بدون تکرار رقم، بزرگ‌ترین عدد دو رقمی که می‌توان نوشت، چند است؟

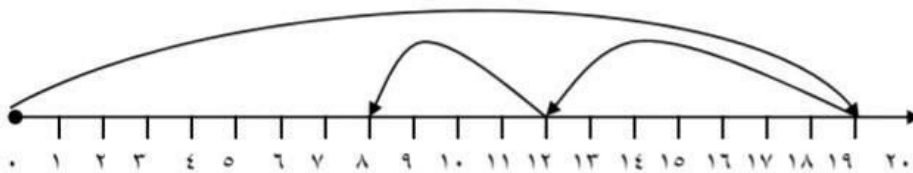
الف) ۹۰

ب) ۹۹

ج) ۱۰

د) ۹۱

* با توجه به محور داده شده، مشخص کنید کدام عبارت صحیح می‌باشد؟



الف) $8+12=$

ج) $4-7-19=$

ب) $19-12-8=$

د) $8+12+19=$

زینب ۶ کتاب علمی و ۵ کتاب داستانی داشت. پدرش ۴ کتاب تاریخی هم برای او خرید. حالا او

چند کتاب دارد؟ (جواب درست را علامت بزن)

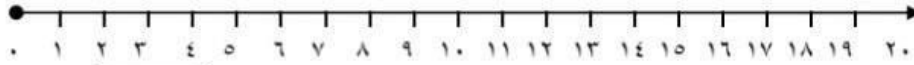
الف)

ج)

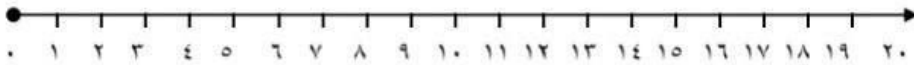
ب)

د)

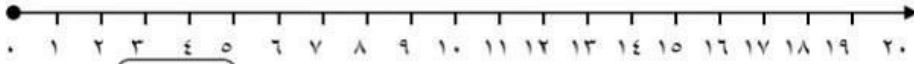
* عزیز دلم، حاصل هر عبارت را با کمک محور پیدا کن.



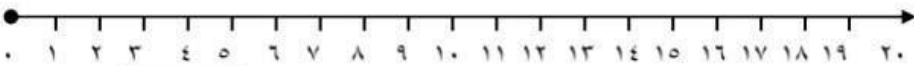
$$8 + 6 = \square$$



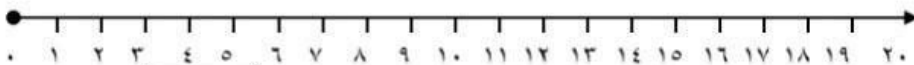
$$12 - 4 = \square$$



$$14 + 3 = \square$$



$$7 + 8 - 4 = \square$$



$$5 + 7 + 5 = \square$$

نازنین دخترم جاهای خالی را با اعداد مناسب کامل کن.

$$\bigcirc + \bigcirc = 9$$

$$\bigcirc + \bigcirc = 9$$

$$\bigcirc + \bigcirc = 9$$

$$\bigcirc + \bigcirc = 9$$

$$\bigcirc + \bigcirc = 7$$

$$\bigcirc + \bigcirc = 7$$

$$\bigcirc + \bigcirc = 7$$

$$\bigcirc + \bigcirc = 7$$

$$\bigcirc + \bigcirc = 8$$

$$\bigcirc + \bigcirc = 8$$

$$\bigcirc + \bigcirc = 8$$

$$\bigcirc + \bigcirc = 8$$

$$\bigcirc + \bigcirc = 6$$

$$\bigcirc + \bigcirc = 6$$

$$\bigcirc + \bigcirc = 6$$

$$\bigcirc + \bigcirc = 6$$

نوین گام

مرجع آموزش ابتدایی، دبیرستان و کنکور



ما توی این مسیر هواتون رو داریم

چجوری؟! اینجوری

