

نوین گام

مرجع آموزش ابتدایی، دبیرستان و کنکور





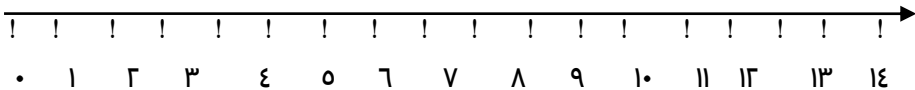



ما توی این مسیر هواتون رو داریم

چجوری؟! اینجوری




| | | |
|-------------------|--------------------------------------|---|
| نام: | «به نام دانای هستی بخش» | سال تحصیلی: |
| نام خانوادگی: | پیش دبستان و دبستان هوشمند غیر دولتی | تاریخ: |
| پایه: دوم ابتدایی | پیشگامان فردا | نوبت: سطح <input type="checkbox"/> کلاسی <input type="checkbox"/> اول <input type="checkbox"/> دوم <input type="checkbox"/> |
| نام درس: ریاضی | نام آموزگار: نرگس اکبرنژاد | زمان: ۴۵ دقیقه |

آزمون فصل اول ریاضی

| ردیف | سوال |
|------|---|
| ۱ | <p>عددهای زیر را به رقم یا حروف بنویس.</p> <p>شصت و پنج  ۴۱</p> <p>هفتاد و سه  ۸۰</p> |
| ۲ | <p>عدد ۳۲ چند رقم دارد؟</p> <p>رقم های آن را نام ببر.و.....</p> <p>با رقم های آن چند عدد دو رقمی دیگر می توانی بنویسی.</p> |
| ۳ | <p>حاصل عبارت رو به رو را با استفاده از محور به دست بیاور.</p> <p>$9 + 5 - 3 =$</p>  |
| ۴ | <p>با رقم های « ۳ و ۶ و ۰ » چند عدد دو رقمی می توانی بسازی بنویس.</p> <p>.....</p> |
| ۵ | <p>با دو کارت  و  چند عدد دو رقمی می توانی بسازی بنویس.</p> <p>.....</p> |
| ۶ | <p>عبارت های زیر را به صورت ذهنی انجام بده.</p> <p>$5 + 10 + 5 + 10 =$</p> <p>$3 + 2 + 20 + 10 + 20 =$</p> |
| ۷ | <p>عدد مربوط به هر شکل را در جدول بنویس و جای خالی را کامل کن.</p> <p>با عدد:</p> <p>با حروف:</p>  |
| ۸ | <p>الگوها را ادامه بده.</p> <p>۱۵ - ۲۰ - - - -</p> <p>۶۷ - ۷۰ - ۷۳ - - -</p> |

| | |
|----|---|
| ۹ | پدر علی ماهیگیر است . او دیروز ۲۵ ماهی و امروز ۲۰ ماهی صید کرده است . پدر علی چند ماهی صید کرده است ؟ |
| ۱۰ | مریم ۶ گل قرمز و ۹ گل زرد داشت . ۱۲ تا از گل ها را به دوستانش داد و بقیه را در گلدان گذاشت . مریم چند گل در گلدان گذاشته است ؟ « از شکل برای حل مساله استفاده کن » |

..... بازخورد آموزگار :



خسته نباشی دلبندم

نوین گام

مرجع آموزش ابتدایی، دبیرستان و کنکور



ما توی این مسیر هواتون رو داریم

چجوری؟! اینجوری

