


# نوین گام

## مرجع آموزش ابتدایی، دبیرستان و کنکور



ما توی این مسیر هواتون رو داریم

چجوری؟! اینجوری



به نام فائق تفکر و پژوهش

نام و نام خانوادگی:


تاریخ:

حرف: شناخت اعداد و ارقام (فصل اول)

دبستان پسرانه حمزه



۱- پسر گلم دسته های ده تایی را جدا کن و جای خالی را پر کن.



ده تایی	یکی

با عدد ..... با حروف .....

۲- کم ترین ترین عدد یک رقمی ..... است . بیش ترین عدد یک رقمی ..... است.

یک عدد دو رقمی بنویسید که رقم یکان آن ۳ و رقم دهگان آن ۲ تا بیش تر از رقم یکان باشد.....

۳- جمع و تفریق های زیر را با روش خواسته شده حل کن.

۸+۷-۴=

(با محور)



با رسم شکل

۱۴ - ۷ = .....

با چوب خط

۹ + ۶ = .....

۴- با توجه به الگوهای عددی جاهای خالی را کامل کنید .

..... و ..... و ۵۵ و ..... و ۴۵

..... و ..... و ۳۰ و ۳۲ و ..... و ۴ و ۸

۵- گلم ، جمع ها را کامل کن. (خواست باشد که جمع هایت تکراری نباشد)

..... + ..... = ۷	..... + ..... = ۷	..... + ..... = ۷
..... + ..... = ۷	..... + ..... = ۷	..... + ..... = ۷

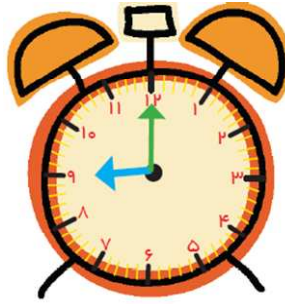
۶- با سه رقم ۸ و ۵ و ۲ هرچقدر می توانی عدد دو رقمی بساز و بنویس.

۷- ۹ نفر در یک اتوبوس بودند. در ایستگاه ۵ نفر دیگر سوار شدند ولی ۲ نفر پیاده شدند. حالا چند نفر در اتوبوس هستند؟

۸- با توجه به ساعت‌ها ، جاهای خالی را کامل کن ؟



ساعت از ..... گذشته است.



ساعت ..... است.



ساعت به ..... مانده است.

انتظارات آموزشی	یادگیری کامل	یادگیری خوب	یادگیری قابل قبول	یادگیری مجدد
در شمارش اشیاء و جدول یکان .دهگان مهارت کافی دارد.				
کوچک ترین و بزرگ ترین عدد دو رقمی را میشناسد.				
جمع و تفریق ها را با روش های خواسته شده به درستی حل کرده است.				
در الگوهای عددی مهارت دارد.				
جمع های ترکیبی را به درستی نوشته است.				
عدد های دو رقمی را بانظم منطقی ساخته است.				
مساله را به درستی حل کرده است				
ساعت ها را به درستی نوشته است.				
<b>بازخورد آموزگار:</b>				

خودسنجی:



آیا از این آزمون راضی بودم؟

به نظرم باید برای پیشرفت در درس ریاضی.....



موفق باشی پسر گلم  
آموزگار دوم ابتدایی سمیرا عموسلطانی

# نوین گام

## مرجع آموزش ابتدایی، دبیرستان و کنکور



ما توی این مسیر هواتون رو داریم

چجوری؟! اینجوری

