

نوین گام

مرجع آموزش ابتدایی، دبیرستان و کنکور




ما توی این مسیر هواتون رو داریم

چجوری؟! اینجوری



به تعداد شکل ها ، ۵ تا اضافه کن، دسته های ده تایی بساز و جاهای خالی را کامل کن.



به عدد:

وف:

با توجه به شکل ، پاسخ بده.



() عدد را با توجه به شکل بنویس.

() این عدد چند رقم دارد؟

رقم های آن را نام ببر. و و

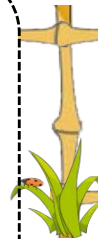
حاصل جمع و تفریق های زیر را بنویس. (با هر روشی که می خواهی پاسخ را پیدا کن).



$$۲ + ۸ =$$

$$۷ + ۶ =$$

$$۶ + ۶ + ۶ =$$



$$۱۶ - ۹ =$$

$$۱۲ - ۶ =$$



حاصل عبارت زیر را با استفاده از محور اعداد به دست بیاور.

$$۳ + ۸ - ۴ =$$



مسئله های زیر را حل کن.



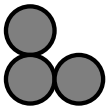
مادر ۹ بستنی خریده بود. بچه ها ۴ تا از بستنی ها را خوردند. مادر ۶ بستنی دیگر خرید. حالا مادر چند بستنی دارد؟ (با رسم شکل حل کن و جواب بده).



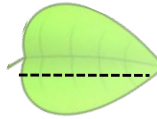
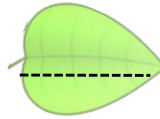
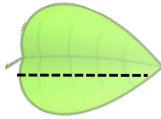
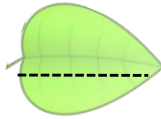
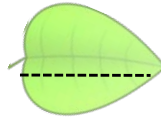
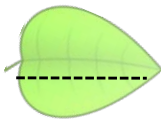

۷ مسافر نشسته بود. در ایستگاه ۹ مسافر دیگر سوار شدند ولی ۴ مسافر از اتوبوس پیاده شدند. حالا در اتوبوس چند مسافر نشسته است؟ (با رسم محور حل کن).



این الگو را با رسم شکل یک بار ادامه بده.



از عدد ۱۷، ۵ تا ۵ تا بشمار و بنویس تا به ۴۷ برسی.



عدد های زیر چند رقمی هستند؟

۵۹

۷

۳۱۲

در جاهای خالی عدد مناسب بنویس.

۵۲ یعنی ده تایی و یکی

۸۰ یعنی ده تایی و یکی

۳۱ یعنی ده تایی و یکی



نیاز به تلاش بیشتر



قابل قبول



خوب



خیلی خوب

: خورد آموزگار

نوین گام

مرجع آموزش ابتدایی، دبیرستان و کنکور



ما توی این مسیر هواتون رو داریم

چجوری؟! اینجوری

