

نوین گام

مرجع آموزش ابتدایی، دبیرستان و کنکور



ما توی این مسیر هواتون رو داریم

چجوری؟! اینجوری



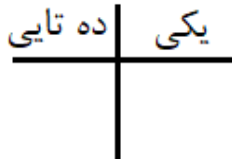
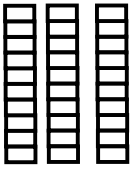
به نام خدا

طراح احمدی (پیوندگان نخبه)
تاریخ امتحان:

سنجش ماهانه مهرماه (فصل اول)
ریاضی پایه دوم

نام و نام خانوادگی:
کلاس:

(۱) به شکل زیر ۳ دسته‌ی ده‌تایی و ۴ یکی اضافه کن، چه عددی بدست می‌آید؟



به عدد:

به حروف:

(۲) گزینه‌های مناسب را به هم وصل کن.

- * نود و نه
- * ۴ ده‌تایی ۳ یکی
- * ۹ ده‌تایی ۹ یکی
- * ۴ ده‌تایی ۰ یکی
- * چهل و سه
- * چهل و یک
- * چهل

(۳) در شمارش ۳ تا ۳ تا عدد بعد از ۱۲ چه عددی است؟



۱۶ (ث)

۱۵ (پ)



۳ (ب)




۹ (الف)

(۴) جواب جمع و تفریق‌های زیر را با استفاده از روش خواسته شده پیدا کن


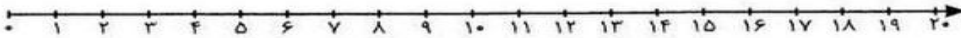
(رسم شکل) $18 - 6 = \dots\dots\dots$



(رسم چوب خط) $14 + 9 = \dots\dots\dots$



(۵) امروز روز نهم ماه است. ۸ روز بعد چه روزی است؟



(۶) با توجه به عقربه‌های ساعت، گزینه‌ی مناسب را به ساعت وصل کن.



*



*



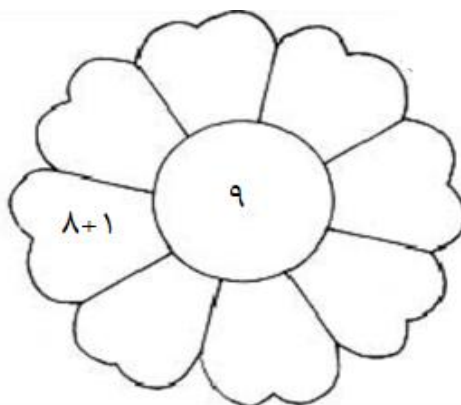
*

*
ساعت تمام

*
ساعت از گذشته

*
ساعت به ۲ مانده

۷) عزیزم گلبرگ را مانند نمونه کامل کن





۸) باهوشم در جای خالی عدد مناسب بنویس.

الف) با کارت های و می توانیم عدد دو رقمی **۴۷** را بسازیم..

ب) بزرگترین عدد دو رقمی و کوچکترین عدد یک رقمی است.

ج) حاصل جمع **$۱۰+۵+۲۰+۷+۵+۲$** ، عدد است.

۹) عزیزم، در جای خالی عدد مناسب بنویس.



۱۰) سمیه یک کتاب ۳۸ صفحه ای خرید. ۹ صفحه از آن را خواند چند صفحه را هنوز نخوانده است؟

۱۱) زهرا ۳ بسته مداد رنگی ۶ تایی به رنگ زرد، آبی، سیاه، سبز، بنفش و قرمز داشت. او رنگ های زرد و سبز هر ۳ بسته را برداشت. حالا چند مداد رنگی برایش باقی مانده است؟ (با رسم شکل)

موفق باشید.

نوین گام

مرجع آموزش ابتدایی، دبیرستان و کنکور



ما توی این مسیر هواتون رو داریم

چجوری؟! اینجوری

