


نوین گام

مرجع آموزش ابتدایی، دبیرستان و کنکور



ما توی این مسیر هواتون رو داریم

چجوری؟! اینجوری



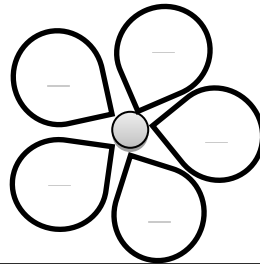
نام و نام خانوادگی :	به نام خدا	دبستان غیر دولتی قائم (عج)
تاریخ :	ارزشیابی از فصل اول ریاضی	معلم مربوطه : خانم اکبرنژاد

۱- عددهای زیر را با دقت نگاه کن و به همان ترتیبی که خواسته شد ادامه بده.

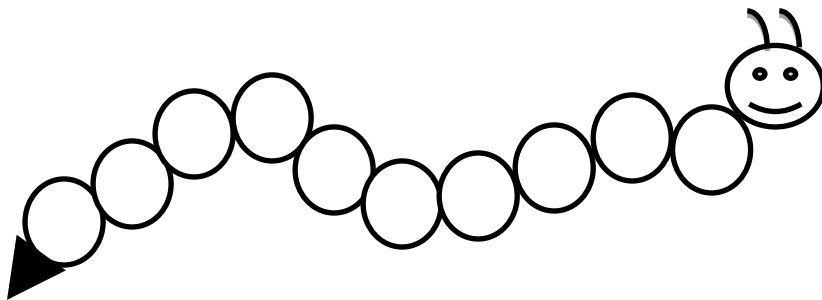
۲۸ - - - ۲۵ - ۲۴

۱۴ - ۷

۲- در گل زیر بر روی گلبرگ هایی که عددهای دورقمی که دهگان آن ها کمتر از ۱۰ می باشد را رنگ کن .



۳- در شکل زیر عددهایی که رقم یکان آن ها مثل هم هستند را یک رنگ کن.



۴- عدد مناسب بنویس.

کوچک ترین عدد دورقمی که رقم های آن مثل هم باشند.

بزرگ ترین عدد یک رقمی چند است؟

۵- عدد ۸۳ چند رقم دارد؟.....رقم های آن را نام ببر.....و.....

با این دو رقم چند عدد دو رقمی دیگر می توانی بنویسی.

.....

۶- جمع های زیر را با رسم چوب خط کامل کن.

$$7+5=$$


$$8+8=$$

۷- تفریق های زیر را روی محور انجام بده.

$$14-6=$$



$$13-7=$$



۸- مسئله ی زیر را از هر روشی که دوست داری حل کن.

مهتاب خیاط است . او هفته ی گذشته ۴ پیراهن و ۳ دامن دوخته است . این هفته هم ۵ دامن میدوزد . در آخر هفته روی هم چند پیراهن و دامن می دوزد؟

ارائه بازخورد:.....

«عزیزم موفق باشی»

نوین گام

مرجع آموزش ابتدایی، دبیرستان و کنکور



ما توی این مسیر هواتون رو داریم

چجوری؟! اینجوری

