

نوین گام

مرجع آموزش ابتدایی، دبیرستان و کنکور



ما توی این مسیر هواتون رو داریم

چجوری؟! اینجوری





تاریخ:

پایه: دوم

به نام خدا
دبستان دخترانه غیر دولتی الغریر
سال تحصیلی

فصل اول

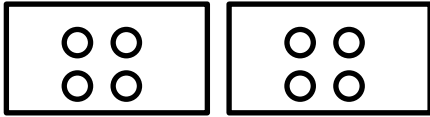
شمارش چندتا چندتا



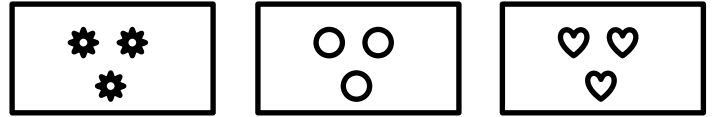
گلبرگ شماره: ۴

نام و نام خانوادگی:

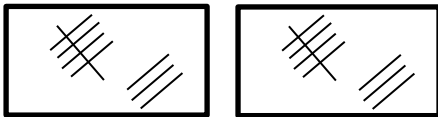
۱. برای هر یک از شکل های زیر جمع بنویس.



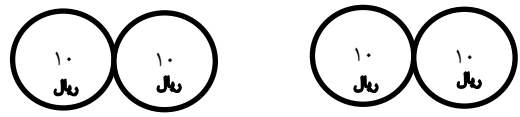
..... + =



..... + + =

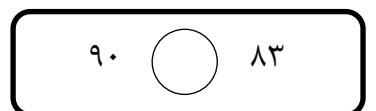
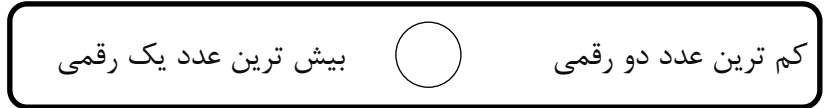
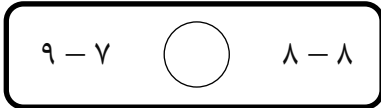
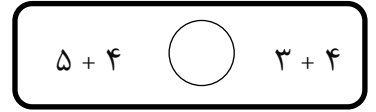
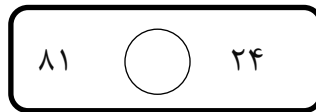
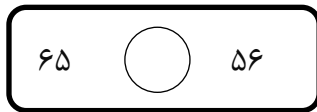


..... + =




..... + =

۲. در جاهای خالی علامت ($<$ $=$ $>$) بگذار.

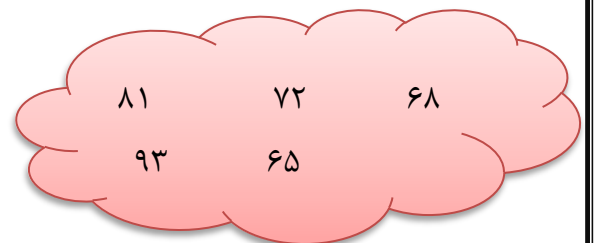


۳. در هر ردیف اعداد، دور عدد بیشتر خط بکش.

الف)	۱۹	۵۰	۹	۴۸	۹۱
ب)	۲۸	۷۰	۷۸	۸۷	۷۷
ج)	۹	۸۱	۴۵	۹۰	۰



۴. عددها را از کمتر به بیشتر روی برگ ها بنویس.




۹. الگوی عددی زیر را ادامه بده.


..... و و و و ۴۲ و ۳۲ و ۲۲





..... و و و و ۲۰ و ۱۶ و ۱۲

۱۰. حاصل جمع های زیر را به دست آور.

الف) $5 + 10 + 10 + 3 =$ 

ج) $20 + 10 + 10 + 5 + 2 =$ 

ب) $5 + 5 + 20 + 10 =$ 

د) $30 + 40 + 2 + 5 =$ 

۱۱. از ۲۰ سیبی که در سبد است، ۱۲ تا سیب سرخ و بقیه سبز است. چند سیب سبز در سبد است؟ (از راه شکل)

۱۲. با رقم های (۷ و ۰ و ۲) هر چند عدد دو رقمی که می توانی بنویس.

۱۳. از زهرا پرسیدند چند سال داری؟ گفت ۷ سال دیگر ۱۶ ساله می شوم. زهرا اکنون چند سال دارد؟

سؤال شماره داد

نوین گام

مرجع آموزش ابتدایی، دبیرستان و کنکور



ما توی این مسیر هواتون رو داریم

چجوری؟! اینجوری

