

نوین گام

مرجع آموزش ابتدایی، دبیرستان و کنکور



ما توی این مسیر هواتون رو داریم

چجوری؟! اینجوری





۱. جواب جمع و تفریق را بنویس و با مقایسه ی آن ها در جاهای خالی علامت < = > بگذار.

..... = ۳۰ + ۴۰ ۶۰ - ۱۰ =

..... = ۱۰۰ + ۴ ۳۰ + ۶۰ =

..... = ۲۰۰ + ۴۰۰ ۳۰۰ + ۳۰۰ =

..... = ۳۰ + ۴۰ ۲۰۰ + ۵۰ + ۱۰۰



۲. گسترده یا باز شده ی عددهای زیر را بنویس.

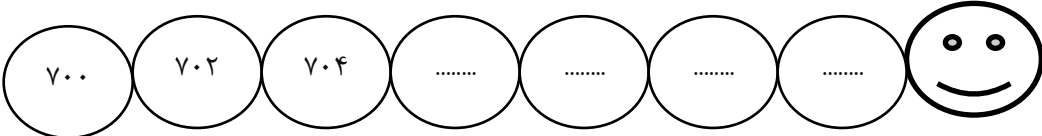
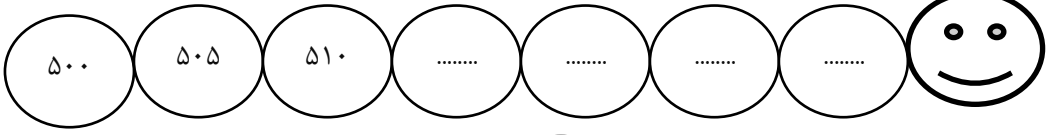
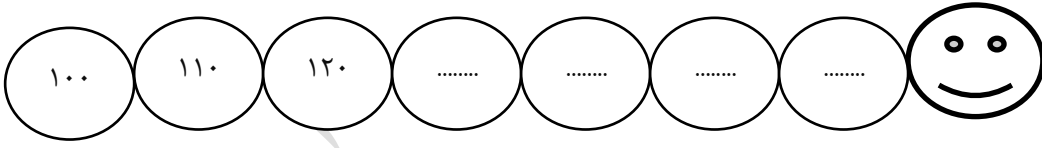
۵۳۴ = ۵۰۰ + ۳۰ + ۴

۴۹۳ =

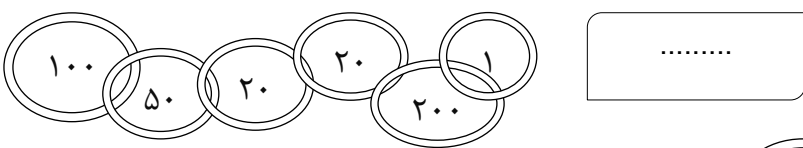
۲۷۶ =

۶۸۰ =


۳. الگوی عددی زیر را ادامه بده.



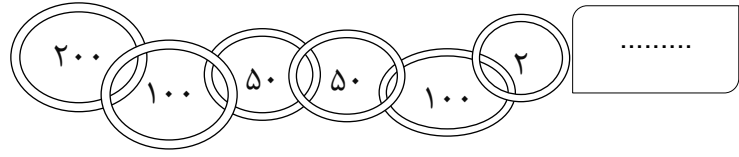
۴. ارزش پول هر قسمت را بنویس.



.....



.....



.....

۵. محور را کامل کن و به کمک آن جمع و تفریق های زیر را انجام بده .



$$\begin{array}{r} 97 \\ + 7 \\ \hline \end{array}$$

$$\begin{array}{r} 108 \\ - 4 \\ \hline \end{array}$$

$$\begin{array}{r} 100 \\ + 9 \\ \hline \end{array}$$

$$\begin{array}{r} 115 \\ - 9 \\ \hline \end{array}$$

۶. جاهای خالی را با عددهای مناسب پر کن.

۴۰۵، یکی و ده تایی و صدتایی می شود.

۸ یکی و ده تایی و ۱ صدتایی می شود:

۴۵۰، یکی و ده تایی و صدتایی می شود.


یکی و ۸ ده تایی و ۵ صدتایی می شود:

۷۸۵، یکی و ده تایی و صدتایی می شود.

۳ یکی و ۷ ده تایی و صدتایی می شود:

۹۳، یکی و ده تایی و صدتایی می شود.

۹ یکی و ۶ ده تایی و ۴ صدتایی می شود:



۷. با عدد « ۳ - ۶ - ۴ » یک عدد سه رقمی بنویس که از ۴۰۰ کم تر باشد.

و عدد بساز که بین ۳۰۰ و ۶۰۰ باشد.

۸. حاصل جمع و تفریق های زیر را از راست به دست آور.

$$\begin{array}{r} 77 \\ - 42 \\ \hline \end{array}$$

$$\begin{array}{r} 53 \\ + 32 \\ \hline \end{array}$$

$$\begin{array}{r} 74 \\ - 26 \\ \hline \end{array}$$

۹. من دو سکه ی ۲۰ ریالی دارم . خواهرم سه سکه ی ۵ ریالی و پدرم یک سکه ی ۱۰ ریالی دارد . ما با هم چند سکه داریم؟ (از راه شکل)

۱۰. تفریق های زیر را از راست به دست آور .

$$\begin{array}{r} 38 \\ - 19 \\ \hline \end{array}$$

$$\begin{array}{r} 56 \\ - 37 \\ \hline \end{array}$$

نوین گام

مرجع آموزش ابتدایی، دبیرستان و کنکور



ما توی این مسیر هواتون رو داریم

چجوری؟! اینجوری

