

# نوین گام

## مرجع آموزش ابتدایی، دبیرستان و کنکور



ما توی این مسیر هواتون رو داریم

چجوری؟! اینجوری





به نام خدا

دبستان دخترانه غیر دولتی بهار مدرسی

نام و نام خانوادگی:

پایه دوم

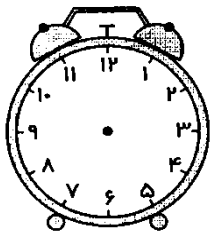
تاریخ: ۱۰/۶/۹۶

ریاضی


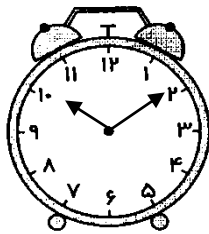
۱- به عدد و به حروف بنویسید.

- ..... ۶۹۴
- ..... ۷۰۲
- ..... ۱۱۲
- ..... ۳۵۰
- ..... نهمصد و چهل و یک
- ..... هشتصد و دو
- ..... پانصد و سیزده
- ..... ششصد و ده


۲- ساعت چند است؟



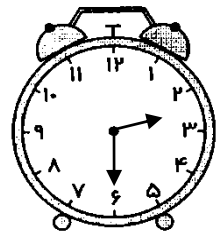
۸:۴۰



پنج و ربع



۴:۴۵



۳- الگوها را ادامه بده.

۲۷۰ - ۲۷۵ - ۲۸۰ - ..... - ..... - ..... - ..... - .....

۴۴۰ - ۴۵۰ - ۴۶۰ - ..... - ..... - ..... - ..... - .....

۶۱۱ - ۶۱۲ - ۶۱۳ - ..... - ..... - ..... - ..... - .....

۴- با کارت های زیر عددهای سه رقمی بساز.

۱ ۷ ۴

۶ ۰ ۲

۵- پاسخ جمع و تفریق ها را بویس.



۳ + ۴ =

۳۰ + ۴۰ =

۳۰۰ + ۴۰۰ =



۸ - ۲ =

۸۰ - ۲۰ =

۸۰۰ - ۲۰۰ =



۹ - ۴ =

۹۰ - ۴۰ =

۹۰۰ - ۴۰۰ =

۱)



به نام خدا

دبستان دخترانه غیر دولتی بهار مدرسی


نام و نام خانوادگی:

تاریخ: ۹۶ / ۱۰ / ۶

پایه دوم

ریاضی

۶- با استفاده از ساعت پاسخ سوال های زیر را بنویس



۲۰ دقیقه بعد از ساعت ۶:۵۰ چه ساعتی است؟ .....

۱۵ دقیقه بعد از ساعت ۷:۵ چه ساعتی است؟ .....

۱۰ دقیقه بعد از ساعت ۵:۴۵ دقیقه چه ساعتی است؟ .....

نیم ساعت بعد از ساعت ۸ چه ساعتی است؟ .....

یک ربع بعد از ساعت ۹:۱۵ چه ساعتی است؟ .....


۷- من چه عددی هستم؟ به عدد ..... به حروف .....

صدگان	دهگان	یکان

۳ دسته ی صدتایی دارم. ده تای ام ۵ تا بیشتر از صدتایی ام است.

یکی هایم برابر تعداد انگشتان دست راستم است.

۸- علامت  $< = >$  بگذار.



۱۱۰ ریال

۲۰۵ صدتایی و ۵ ده تایی

۲۳۶  $۲۰۰ + ۳۰ + ۴$

$۱۰۰ + ۱$   $۱۰۵ - ۴$

۹- سفید برفی، شاهزاده و هفت کوتوله هر کدام یک سیب خوردند. چهار سیب هم در سبد باقی ماند. قبل از این

که آن ها سیبی بخورند، چند سیب در سبد بود؟

۱۰- مریم ۷۴ کتاب نقاشی و ریاضی دارد. ۳۶ تا از کتاب ها ریاضی است. چند کتاب نقاشی دارد؟ (با راه حل)

# نوین گام

## مرجع آموزش ابتدایی، دبیرستان و کنکور



ما توی این مسیر هواتون رو داریم

چجوری؟! اینجوری

