

نوین گام

مرجع آموزش ابتدایی، دبیرستان و کنکور



ما توی این مسیر هواتون رو داریم

چجوری؟! اینجوری



ریاضی



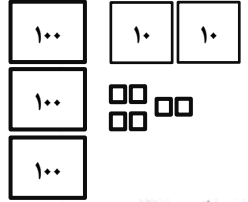
به نام خدا
دبستان دخترانه غیر دولتی الغریر
سال تحصیلی
فصل چهارم
عددهای سه رقمی



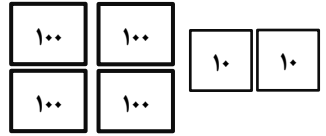
کلیبرگ شماره: ۲۳
نام و نام خانوادگی:

تاریخ:
پایه: ۴و

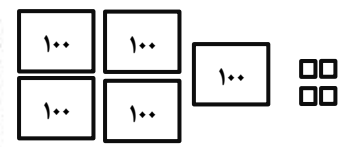
۱. با توجه به شکل عدد مناسب را در جدول قرار بده و آن را به حروف بنویس.



صدگان	دهگان	یکان



صدگان	دهگان	یکان



صدگان	دهگان	یکان

۲. اعداد را ادامه بده.

۲۸۹ - ۲۹۰ - - - - -

۳۰۶ - ۳۰۷ - - - - -

۱۹۵ - ۱۹۶ - - - - -

۳. اعداد زیر را از کمتر به بیشتر مرتب کن.



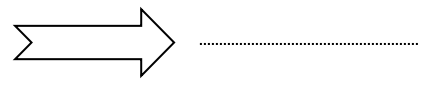
۱۳۹ - ۹۱۳ - ۳۹ - ۳۱۹ - ۳۹ - ۳۰۹ - ۹۳

..... < < < < <

۴. عددی سه رقمی بنویس که:

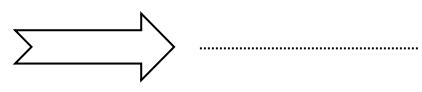
الف) یکان آن ۹ و صدگان ۵ تا کمتر از یکان باشد و بسته ی ده تایی نداشته باشد.

صدگان	دهگان	یکان



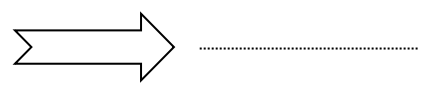
ب) صدگان آن ۶ و حاصل جمع یکان و دهگان برابر صدگان شود.

صدگان	دهگان	یکان



ج) یکان حاصل جمع صدگان و دهگان باشد. صدگان ۴ و دهگان ۳ تا کمتر از آن باشد.

صدگان	دهگان	یکان





۵ و ۹ و ۳

۲ و ۴ و ۶

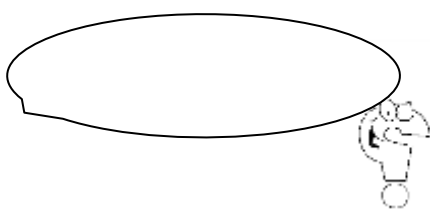
۵ و ۰ و ۸

.....
.....
.....

.....
.....
.....

.....
.....
.....

۵. با رقم های زیر عددهای سه رقمی بساز .



۶. من چه عددی هستم ؟
۷ دسته ی صدتایی و ۳ دسته ی ده تایی دارم . و یکان من بیش ترین عدد یک رقمی می باشد.



۷. الگوی عددی زیر را ادامه بده.

۱۰۰ - ۱۱۰ - ۱۲۰ - - - - - - -

۸. از ۴۰۰ تا ۹۰۰ را ۵۰ تا ۵۰ بنویس .

۴۰۰ - ۴۵۰ :
.....
.....

۹. زهره و ناهید به همراه پدرشان به باغ وحش رفته اند. فروشنده ی بلیط به آن ها گفت که بلیط بزرگ سالان ۳۰۰ ریال است و بلیط کودکان ۱۰۰ ریال ارزانتر است.
آن ها چه مقدار باید برای تهیه ی بلیط باغ وحش به فروشنده پول بدهند؟



بیش ترین عدد سه رقمی :

کم ترین عدد سه رقمی :

۱۱. مقایسه کن و علامت < = > بگذار .

۵ دسته ی صدتایی و دو یکی ۵۲۰ (ب)

۲۵۰ ریال ۱۰۰ + ۱۰۰ + ۵۰ + ۵۰ ریال (الف)

سه دسته ی صدتایی و هفت یکی ۳۷۰ (هـ)

۱۰۰ + ۱۰۰ + ۵۰ + ۵۰ ۱۰۰ + ۵۰ + ۵۰ + ۱۰۰ + ۵۰ (د)

(ج) یک سکه ی صد ریالی ۶ سکه ی ۵ ریالی و ۴ سکه ی ۱۰ ریالی

۱۲. قبل و بعد اعداد داده شده را بنویس.



.....	۳۱۹
-------	-----	-------

.....	۴۶۸
-------	-----	-------

.....	۲۰۹
-------	-----	-------

۱۳. اعداد را با حذف رقم یکان به صورت تقریبی بنویس .

۷۱۲ →(ب)

۲۶۸ → (الف)

۳۹۸ →(د)

۷۵۳ →(ج)

*۱۴. می دانیم یک پشه ۶ پا و عنکبوت ۸ پا دارند. ۲ پشه و ۳ عنکبوت روی هم به اندازه ی ۱۰ پرنده و چند گربه پا دارند؟

(ب) ۴

(الف) ۳

(د) ۱۰

(ج) ۶

سوال شماره ۱۴



نوین گام

مرجع آموزش ابتدایی، دبیرستان و کنکور



ما توی این مسیر هواتون رو داریم

چجوری؟! اینجوری

