

نوین گام

مرجع آموزش ابتدایی، دبیرستان و کنکور



ما توی این مسیر هواتون رو داریم

چجوری؟! اینجوری





۱. جاهای خالی را با عدد مناسب پر کن .

- * ۱۰ سکه ی برابر است با سکه ی ریالی
- * ۵۰ سکه ی برابر است با سکه ی ریالی
- * ۲۰ سکه ی برابر است با سکه ی ریالی
- * ۱۰۰ سکه ی برابر است با سکه ی ریالی

۲. در هر قسمت چند ریال است ؟

ریال

ریال

ریال

۳. با توجه به قیمت هر یک از وسایل، به مقدار لازم، زیر آن سکه بکش .



۲۳۰ ریال






۱۵۰ ریال



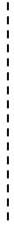
۵۶ ریال





۹۰ ریال



۴. از هر قسمت به اندازه ی مقداری که سمت چپ نوشته شده است رنگ کن .



۵. از سکه های داده شده به اندازه ی ۷۰ ریال جدا کن و رنگ بزن .







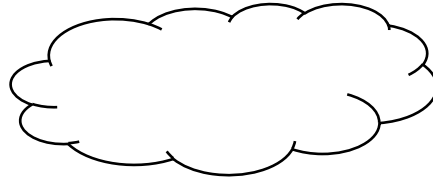
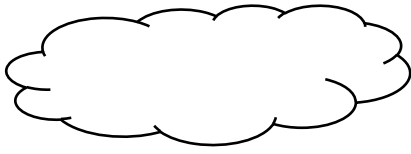
۶. در هر قسمت تعداد سکه ها را به اندازه ی مقدار خواسته شده کامل کن .



۷. در جاهای خالی علامت مناسب بگذار. (< = >)



۸. پول های برابر را به هم وصل کن.



۹. در هر ردیف دور عدد مناسب با پول ها، خط بکش .

۳۵۰ - ۵۵۰ - ۷۴۰

۴۵۰ - ۸۰۰ - ۳۷۴

۱۰. کدام قسمت برای خرید یک کیف ۷۲۰ ریالی کافی است ؟

- الف) اسکناس ۲۰۰ ریالی و یک سکه ۲۵۰ ریالی و ۱ سکه ۲۰ ریالی
- ب) ۲ سکه ۲۰۰ ریالی و ۱ سکه ۱۰۰ ریالی و ۲ سکه ۲۰ ریالی
- ج) ۲ سکه ۲۵۰ ریالی و ۱ سکه ۲۰۰ ریالی و ۱ سکه ۲۰ ریالی

۱۱. با استفاده از جمع و تفریق های یک رقمی حاصل عبارت های زیر را به دست آور.

$7 + 2 = \dots\dots\dots$

$4 + 3 = \dots\dots\dots$

$600 + 200 = \dots\dots\dots$

$70 + 20 = \dots\dots\dots$

$40 + 30 = \dots\dots\dots$

$60 + 20 = \dots\dots\dots$

$700 + 200 = \dots\dots\dots$

$400 + 300 = \dots\dots\dots$

$6 + 2 = \dots\dots\dots$

۱۲. با رقم های ۳ و ۴ و ۸ تمام عددهای سه رقمی را بساز. بیش ترین و کم ترین عدد نوشته شده را بنویس. (غیر تکراری)

*به جای علامت سوال چه عددی باید نوشت؟

ب) ۲۳

الف) ۱۶

د) ۲۹

ج) ۲۵

۸	۹	۱
۱۶	؟	۷
۸	۱۴	۶

سوال شماره ۱۲

نوین گام

مرجع آموزش ابتدایی، دبیرستان و کنکور



ما توی این مسیر هواتون رو داریم

چجوری؟! اینجوری

