

نوین گام


مرجع آموزش ابتدایی، دبیرستان و کنکور



ما توی این مسیر هواتون رو داریم

چجوری؟! اینجوری





به نام خدا
 دبستان دخترانه غیر دولتی الغریر
 سال تحصیلی ۹۶-۹۷
عددهای سه رقمی



نام و نام خانوادگی:
 کلاس شماره ۲۴

۱. عددهای زیر را به حروف و رقم بنویس .



..... ۹۰۰



..... ۳۶۵

..... هفتصد و چهل و سه



..... چهارصد و شش

۲. ارزش ریالی هر قسمت را بنویس .

۲۰۰ ریال	۲۵ ریال	۲۵ ریال	۱۰ ریال	۵ ریال
۱۰۰ ریال	۲۵ ریال	۱۰ ریال	۱۰ ریال	۲ ریال

۵۰ ریال	۱۰ ریال	۱۰ ریال	۱ ریال
۵۰ ریال	۱۰ ریال	۱۰ ریال	۱ ریال

.....

.....

۳. عددی که هر نمونه باز شده نشان می دهد را بنویس.

= ۵۰۰ + ۴ + ۴۰



= ۴۰ + ۵ + ۲۰۰

۴. به سوالات زیر با دقت پاسخ بده.

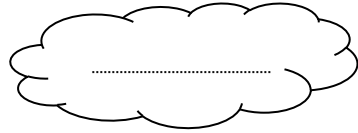
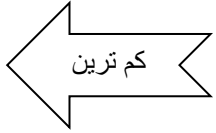
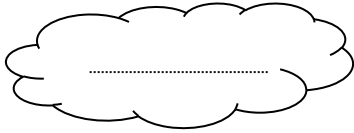


(الف) عدد ۱۲۷ به ۱۲۰ نزدیک تر است یا به ۱۳۰ ؟


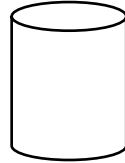


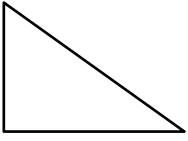
(ب) عدد ۶۳۵ با حذف رقم یکان و دهگان به صورت تقریبی چند می شود؟

(ج) وقتی می گوئیم ساعت یک ربع بعد از ۴ است ، یعنی ۴ و چند دقیقه است ؟

۵. با سه رقم ۵ و ۴ و ۳ کم ترین و بیش ترین عدد سه رقمی را بساز. (بدون تکرار)



۶. خطّ تقارن شکل های زیر را بکش.



۷. الگوهای عددی زیر را ادامه بده.

۳، ۶، ۹، ، ،

۱۵، ۲۵، ۳۵، ، ،

۹، ۱۰، ۱۲، ۱۵، ، ،

۳۰۰، ۴۰۰، ۵۰۰، ، ،

۸. حاصل جمع و تفریق زیر را با حذف رقم یکان و دهگان به دست آور.

$۶۹۳ \rightarrow \dots\dots\dots$

$۵۲۴ \rightarrow \dots\dots\dots$

$-۴۳۵ \rightarrow -\dots\dots\dots$

$+۴۱۷ \rightarrow +\dots\dots\dots$

_____ - _____
→

_____ + _____
→

۹. نام هر شکل را داخل آن بنویس. سپس تفاوت و شباهت آن ها را بنویس.



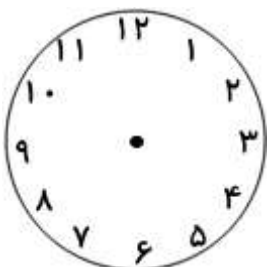
شباهت :

تفاوت :

۱۰. مراسم صبحگاه مدرسه هر روز صبح ساعت ۷ و نیم آغاز می شود.

الف) این زمان را روی ساعت نشان بده.

ب) ۲ ساعت بعد ساعت چند می شود ؟



۱۱. در قلم فاطمه ۳ سکه ی ۱۰۰ ریالی و ۵ سکه ی ۱۰ ریالی بود . او چند ریال در قلم داشت ؟ با رسم شکل به دست آور .



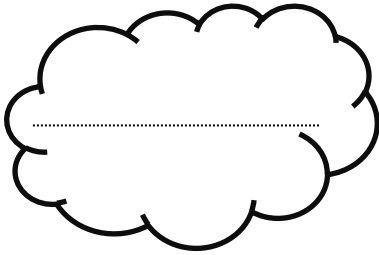
۱۲. با رقم های ۶ و ۹ و ۳ تمام عددهای سه رقمی را که می توانی بنویس . (بدون تکرار)

.....

حالا با توجه به اعداد سه رقمی که نوشته ای کدام عددها هستند که جمع رقم یکان و صدگان آن ها برابر رقم دهگان است ؟

.....

۱۳. اگر ۵۰ سکه ی یک ریالی به بانک بدهی، چند سکه ی ۱۰ ریالی می توانی بگیری ؟ (با رسم شکل)



۱۴. دانش آموزان دبستان فاطمیه ۵۴۷ نفر و دبستان الغدیر ۳۷۰ نفر هستند . با حذف رقم یکان و دهگان به طور تقریبی هر دبستان چند

دانش آموز دارد ؟ تعداد دانش آموزان کدام مدرسه بیش تر است ؟

تعدد دانش آموزان مدرسه ی بیش تر است.



نوین گام

مرجع آموزش ابتدایی، دبیرستان و کنکور



ما توی این مسیر هواتون رو داریم

چجوری؟! اینجوری

