


نوین گام

مرجع آموزش ابتدایی، دبیرستان و کنکور



ما توی این مسیر هواتون رو داریم

چجوری؟! اینجوری



۱- موقعیت جغرافیایی قاره آسیا را بنویسید.

آسیا از قطب شمال تا جنوب مدار استوا امتداد یافته است و بخش اعظم آن در نیمکره شمالی قرار دارد.

۲- اطراف قاره آسیا کدام اقیانوسها قرار دارند؟

شمال: اقیانوس منجمد شمالی - جنوب: اقیانوس هند - شرق: اقیانوس آرام

۳- قاره آسیا از طریق تنگه .. **برینگ** .. از آمریکای شمالی و از طریق کانال .. **سوئز** .. از قاره آفریقا جدا می شود.

۴- اوراسیا به کجا گفته می شود؟

در بین قاره های جهان، تنها دو قاره آسیا و اروپا به هم چسبیده اند به همین دلیل، بعضی از جغرافیدانان این دو قاره را یکی دانسته و آن را "اوراسیا" نامیده اند.

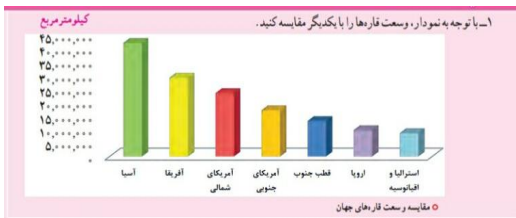
۵- رشته کوه .. **اورال** .. مرز بین دو قاره آسیا و اروپا است.

۶- وسیعترین قاره جهان .. **آسیا** .. است.

۷- با توجه به نمودار، وسعت قاره ها را با یکدیگر مقایسه کنید.

۱- آسیا ۲- آفریقا ۳- آمریکای شمالی ۴- آمریکای جنوبی

۵- قطب جنوب ۶- اروپا ۷- استرالیا و اقیانوسیه



۸- ناهمواریهای قاره آسیا را بنویسید.

۱- فلاتهای بلند و کوههای مرتفع

۲- سرزمین های پست

۳- مجمع الجزایر آتشفشانی

۹- فلاتهای آسیا را به ترتیب از غرب به شرق نام ببرید.

آناتولی، ایران، تبت و مغولستان

۱۰- بلندترین قله جهان چه نام دارد و چه لقبی به آن داده اند؟

قله اورست - بام دنیا

۱۱- رودهای پر آب آسیا چه چیزی را بوجود آورده است؟

جلگه های پهناور

۱۲- سه جلگه بزرگ آسیا را نام ببرید.

جلگه بزرگ سیبری - جلگه گنگ و سند - جلگه چین .

۱۳- جلگه سند و گنگ از آبرفت کدام رودها تشکیل شده است؟

از آبرفت رودهای گنگ و سند

۱۴- رودهای گنگ و سند از رشته کوههای .. **هیمالیا** .. سرچشمه می گیرند.

۱۵- جلگه گنگ و سند شامل کدام کشورها می شوند؟

شمال هند، کشور پاکستان و بنگلادش .

۱۶- دلتا را تعریف کنید.

از انباشته شدن آبرفت ها در مصب رودها، سرزمین های مثلث شکلی به وجود می آید که به آنها دلتا (Δ) می گویند.

۱۷- دلتاها چگونه توسعه می یابند؟

با انباشته شدن دائمی آبرفت ها، دلتاها پیوسته توسعه می یابند و در آب دریا پیش می روند.

۱۸- دلتاها چگونه سرزمین هایی هستند؟

دلتاها زمین های مناسبی برای کشاورزی بوده و جمعیت انبوهی را در خود جای داده اند.

۱۹- ساکنان دلتاها در معرض چه خطراتی هستند؟

در معرض خطراتی چون طوفان های دریایی، طغیان رود و سیلاب هستند.

۲۰- جلگه بزرگ چین از آبرفت رود .. **یانگ تسه کیانگ** .. پدید آمده است.

۲۱- مجمع الجزایر آتشفشانی آسیا در کدام قسمت این قاره قرار دارند؟

در مشرق و جنوب شرقی آسیا به ویژه در کناره های اقیانوس آرام.

۲۲- سه مجمع الجزایر آتشفشانی آسیا را نام ببرید؟

ژاپن، فلیپین و اندونزی.

۲۳- شرق و جنوب شرقی آسیا دارای ناهمواری های .. **جوان** .. هستند.

۲۴- کشورهای منطقه شرق و جنوب شرقی آسیا در معرض کدام بلایای طبیعی قرار دارند؟

زمین لرزه، سونامی و فعال شدن کوه های آتشفشانی.

۲۵- تحقیق کنید کشور فلیپین از چند جزیره تشکیل شده است.

کشور فلیپین دارای ۷۱۰۷ جزیره می باشد که از این تعداد تنها در ۱۱ جزیره بصورت عمده دارای جمعیت می باشند.

۲۶- سرزمینهای مجاور قطب شمال در سبیری چه نوع آب و هوایی دارند؟

هوا در تمام روزهای سال سرد و دارای یخبندان های طولانی است.

۲۷- کدام قسمت آسیا دارای آب و هوای قاره ای است؟

بخش های داخلی و مرکزی آسیا.

۲۸- ویژگی آب و هوای قاره ای چیست؟

زمستان ها بسیار سرد و تابستان ها بسیار گرم و خشک است.

۲۹- سرزمین های مجاور دریاها از دریای سرخ تا جزیره تایوان در شرق چین، آب و هوای .. **گرم** .. دارند.

۳۰- به طور کلی از نظر بارش، آسیا را می توان به چند بخش تقسیم کرد؟

الف) آسیای مرطوب (سبز)

ب) آسیای خشک

۳۱- به کدام قسمت از آسیا، آسیای مرطوب می گویند؟

سرزمین های مشرق، جنوب و جنوب شرقی آسیا که در معرض بادهای موسمی (مونسون) قرار دارند آسیای سبز را تشکیل می دهند.

۳۲- بادهای موسمی در چه فصل از اقیانوس ها می وزند؟

در اواخر بهار و فصل تابستان

۳۳- زندگی روستایی و کشاورزی به بارش کدام باران ها بستگی دارد؟ چرا؟

زندگی روستایی و کشاورزی به ریزش باران های موسمی بستگی دارد و در صورت بارش کم یا نامنظم، کشاورزان خسارت می بینند. البته ریزشهای شدید باران های موسمی نیز گاهی موجب طغیان رودخانه ها و بروز سیل در این منطقه می شوند.

۳۴- آسیای خشک کجاست؟

سرزمین های غربی و جنوب غربی آسیا شامل عربستان، داخل فلات آناتولی و فلات ایران و همچنین آسیای مرکزی به ویژه بیابان گبی از نواحی خشک آسیا محسوب می شوند.

با توجه به نقشه آب و هوا به پرشی ها پاسخ دهید:

۳۵- چرا هوای تبت مانند نواحی قطبی و شمال آسیا سرد است؟
چون بلندترین فلات روی زمین است.

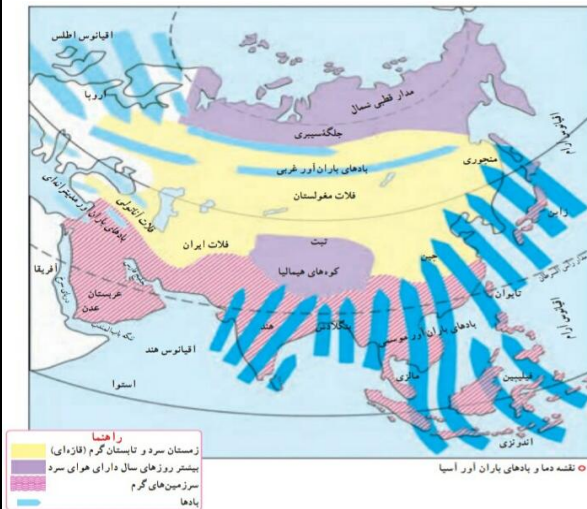
۳۶- بادهای موسمی از سمت کدام اقیانوس ها به مشرق و جنوب

شرقی آسیا می وزند؟ آرام - هند

۳۷- چرا بادهای موسمی نمی توانند به آسیای مرکزی و بیابان گبی نفوذ کنند؟ زیرا رشته کوه های هیمالیا مانع نفوذ می شود.

۳۸- چرا سرزمین های جنوب آسیا در بیشتر مواقع سال آب و هوای گرم دارند؟ زیرا این نواحی به مدار استوا نزدیکتر هستند.

۳۹- وزش کدامیک از بادهای کشور ما را تحت تأثیر قرار می دهد؟
بادهای مدیترانه ای و در زمستان.



اسفند ۹۹

@Motaleat808

نوین گام

مرجع آموزش ابتدایی، دبیرستان و کنکور



ما توی این مسیر هواتون رو داریم

چجوری؟! اینجوری

