


نوین گام

مرجع آموزش ابتدایی، دبیرستان و کنکور



ما توی این مسیر هواتون رو داریم

چجوری؟! اینجوری



نام و نام خانوادگی:

دبستان غیردولتی یاس

نام آموزگار: پریسا مرمری - سیده فاطمه علوی - سارا سپهری

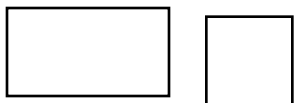
۱- باکارت های ۷ و ۵ و ۳ تمام عدد های سه رقمی را بنویسید.

بین عددهایی که نوشته شده :

الف- بزرگترین عدد را مشخص کن.

ب- کوچک ترین عدد را مشخص کن.

۲- ابتدا خط تقارن شکل ها را کشیده و سپس تفاوت و شباهت این دو شکل را بنویسید.



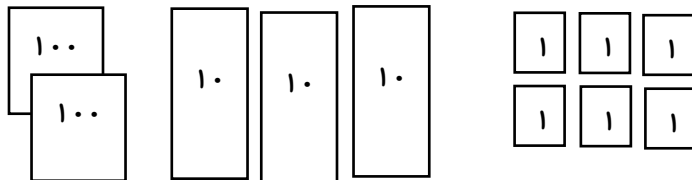
شباهت:

تفاوت:

۳- الگوها را ادامه دهید.

..... - - - - - - ۳ - ۶ - ۹ -

..... - - - - - - ۱۰۴ - ۱۰۵ - ۱۰۶ -



۴- کامل کنید.

صدگان	دهگان	یکان

حروف :

عدد :

۵- مهديس ۲۶ دقیقه به نوار قرآن گوش داد و سپس ۱۷ دقیقه روان خوانی آن آیات را تمرین کرد. مهديس چند

دقیقه برای یادگیری قرآن وقت گذاشت؟

۶- تقریب اعداد زیر را بنویسید.

۷۸ →

۴۲ →

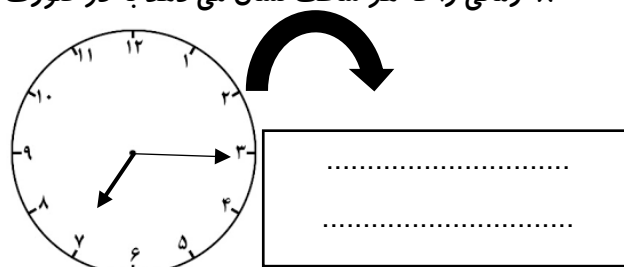
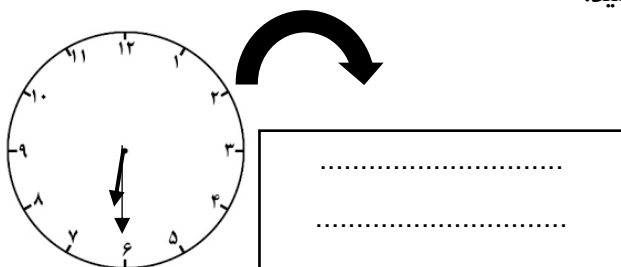
۶۵ →

۷- حاصل جمع و تفریق زیر را به روش فرآیندی به دست آورید.

$$\begin{array}{r} 47 \\ + \\ 25 \\ \hline \end{array}$$

$$\begin{array}{r} 78 \\ - \\ 59 \\ \hline \end{array}$$

۸- زمانی را که هر ساعت نشان می دهد به دو صورت بنویسید.




۹- به سوالات زیر پاسخ دهید.

یک ربع بعد از ساعت ۱۰:۲۰ چه ساعتی است؟

- ارزش سکه های زیر را بنویسید.

به عدد : به حروف :



عنوان	تسلط کامل	تسلط خوب	باید تمرین بیشتری داشته باشد
اشکال هندسی را با تفاوت و شباهت آن ها می شناسد.			
الگوها را به درستی تشخیص و ادامه می دهد			
عملیات جمع و تفریق فرآیندی را حل می کند.			
در شناخت زمان ساعت ها دقت عمل دارد.			
در انجام حل مسائلی مثل ارزش سکه ، تقریب زدن اعداد و الگویابی دقت عمل دارد.			

نظر آموزگار:

-1

357 – 375 – 537 – 573 – 753 – 735

الف) 753

ب) 357

2) شباهت : هم مستطیل و هم مربع چهار ضلع و چهار گوشه دارند.

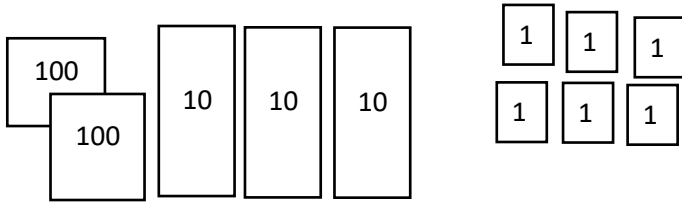
تفاوت : در شکل مربع چهار ضلع باهم برابر اند ، اما در شکل مستطیل دو ضلع روبرو باهم برابر است.

(3)

3 – 6 – 9 – 12 – 15 – 18 – 21 – 24 – 27 – 30

104 – 105 – 106 – 107 – 108 – 109 – 110 – 111 – 112

(4)



صدگان	دهگان	یکان
۲	۳	۶

به حروف : .دویست و سی و شش

به عدد : ۲۳۶

(5)

مهديس 43 دقیقه برای یادگیری قرآن وقت گذاشت.

$$\begin{array}{r}
 + 26 \\
 17 \\
 \hline
 36 \\
 + 7 \\
 \hline
 43
 \end{array}$$

-6

۷۸ →

۸۰

۴۲ →

۴۰

۶۵ →

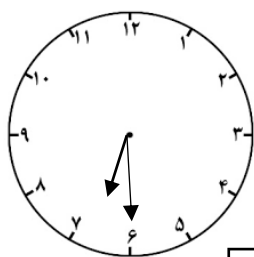
۷۰

-۷

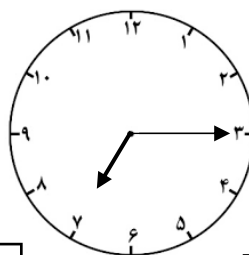
$$\begin{array}{r} 47 \\ + 25 \\ \hline 67 \\ + 5 \\ \hline 72 \end{array}$$

$$\begin{array}{r} 78 \\ - 59 \\ \hline 28 \\ - 9 \\ \hline 19 \end{array}$$

-8



6 : 30
شش و نیم



7 : 15
هفت و ربع

نوین گام

مرجع آموزش ابتدایی، دبیرستان و کنکور



ما توی این مسیر هواتون رو داریم

چجوری؟! اینجوری

