

نوین گام

مرجع آموزش ابتدایی، دبیرستان و کنکور



ما توی این مسیر هواتون رو داریم

چجوری؟! اینجوری





دبستان دخترانه غیر دولتی ترنج دانش

نام درس: ریاضی

کلاس: سوم

نام و نام خانوادگی:

تاریخ:

نام آموزگار:

۱- عددهای زیر را به حروف و رقم بنویسید.

۳۰۶ -----

پانصد و شصت -----

۸۴۸ -----

دویست و نود و شش -----

۲- الگوی عددی زیر را ادامه دهید.

۱ - ۲ - ۴ - ۷ - - - -

۳- عددهای قبل و بعد عدد های زیر را بنویسید.




۴- حاصل جمع ها را پیدا کنید.

$$۳۰ + ۲۰ + ۳ + ۵ + ۵ + ۵ + ۱۰ = \boxed{}$$

$$۲۰ + ۳۵ + ۵ + ۷ = \boxed{}$$

۵- تفاوت و شباهت دو شکل مقابل را بنویسید



شباهت: -----

تفاوت: -----

۶- حاصل جمع و تفریق های زیر را به دست آورید.

$$\begin{array}{r} ۷۸ \\ + ۱۹ \\ \hline \end{array}$$

$$\begin{array}{r} ۳۴ \\ + ۲۵ \\ \hline \end{array}$$

$$\begin{array}{r} ۵۱ \\ + ۳۰ \\ \hline \end{array}$$

$$\begin{array}{r} ۹۶ \\ - ۲۳ \\ \hline \end{array}$$

$$\begin{array}{r} ۶۴ \\ - ۳۸ \\ \hline \end{array}$$

$$\begin{array}{r} ۹۶ \\ + ۸ \\ \hline \end{array}$$

$$\begin{array}{r} ۱۰۵ \\ - ۷ \\ \hline \end{array}$$

۷- مجید ۹ سکه ۱۰ ریالی و ۵ سکه ۱ ریالی داشت. ۴ سکه ۱۰ ریالی به خواهرش داد چند ریال برایش باقی ماند؟

$$۸۰۰ - ۵۰۰ = \boxed{}$$

۸- به کمک محور تفریق زیر را انجام دهید.



دبستان دخترانه غیر دولتی ترنج دانش



نام درس: _____

کلاس: _____

نام و نام خانوادگی: _____

تاریخ: _____

نام آموزگار: _____

۹- ابتدا عددها را با حذف یکان و دهگان به صورت تقریبی بنویسید سپس عددهای تقریبی را جمع یا تفریق کنید.


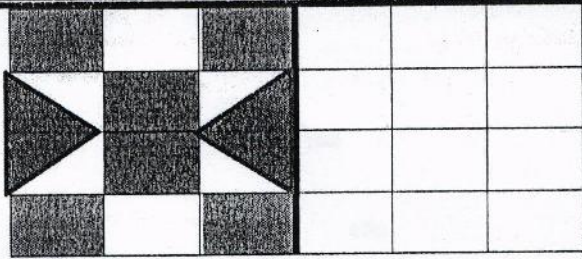
$$\begin{array}{r} 238 \\ + 321 \\ \hline \end{array}$$

$$\begin{array}{r} 425 \\ - 123 \\ \hline \end{array}$$

۱۰- عددهای زیر را با توجه به عبارت بنویسید.

الف) ۹ دسته صدتایی و ۶ دسته ده تایی و ۳ یکی می شود:

ب) ۴ دسته صدتایی و ۵ دسته ده تایی و ۷ یکی می شود:



۱۱- ساعت چند است؟

یک ربع بعد از این ساعت چه ساعتی است؟

۱۲- زهرا ۹۸ امتیاز داشت به یک سوپاسخ درست داد و ۷ امتیاز گرفت حالا او چند امتیاز دارد؟

۱۳- با سه کارت ۳، ۶، ۹ تمام عددهای سه رقمی را که می توان ساخت، بنویسید.



۱۴- باز شده ی عددهای زیر را بنویس.

$$123 = 100 + 20 + 3$$

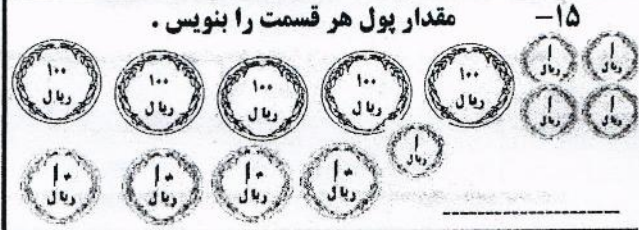

$$768 =$$

$$534 =$$

$$901 =$$

$$980 =$$

۱۵- مقدار پول هر قسمت را بنویس.



دبستان دخترانه غیر دولتی ترنج دانش



نام و نام خانوادگی: _____

کلاس: دوم

نام درس: ریاضی

نام آموزگار: _____

تاریخ: _____

۱- عددهای زیر را به حروف و رقم بنویسید.

۳۰۶ ----- سیصد و شش و ۶

۵۶۰ ----- پانصد و شصت

۸۴۸ ----- هشتصد و چهل و هشت

۲۹۶ ----- دویست و نود و شش

۲- الگوی عددی زیر را ادامه دهید.

۱ - ۲ - ۴ - ۷ - ۱۱ - ۱۴ - ۲۲ - ۲۹

۳- عددهای قبل و بعد عددهای زیر را بنویسید.

۴۵۲	۴۵۳	۴۵۴	۴۵۵	۴۵۶	۴۵۷	۴۵۸	۴۵۹	۴۶۰	۴۶۱
-----	-----	-----	-----	-----	-----	-----	-----	-----	-----

۴- حاصل جمع‌ها را پیدا کنید.

$۳۰ + ۲۰ + ۳ + ۵ + ۵ + ۵ + ۱۰ = ۷۸$

$۲۰ + ۳۵ + ۵ + ۷ = ۶۷$

۵- تفاوت و شباهت دو شکل مقابل را بنویسید



شباهت: هر دو مربع و ۴ گوشه دارند
 تفاوت: در مربع ضلع‌ها با هم برابرند ولی در مستطیل ضلع‌ها را دربرداریم با هم برابرند

۶- حاصل جمع و تفریق‌های زیر را به دست آورید.


$\begin{array}{r} ۷۸ \\ + ۱۹ \\ \hline ۹۷ \end{array}$	$\begin{array}{r} ۳۴ \\ + ۲۵ \\ \hline ۵۹ \end{array}$	$\begin{array}{r} ۵۱ \\ + ۳۰ \\ \hline ۸۱ \end{array}$	$\begin{array}{r} ۹۶ \\ - ۲۳ \\ \hline ۷۳ \end{array}$	$\begin{array}{r} ۶۴ \\ - ۳۸ \\ \hline ۲۶ \end{array}$	$\begin{array}{r} ۹۶ \\ + ۸ \\ \hline ۱۰۴ \end{array}$	$\begin{array}{r} ۱۰۵ \\ - ۷ \\ \hline ۹۸ \end{array}$
--	--	--	--	--	--	--

۷- مجید ۹ سکه ۱۰ ریالی و ۵ سکه ۱ ریالی داشت. ۲ سکه ۱۰ ریالی به خواهرش داد چند ریال برایش باقی ماند؟

$$\begin{array}{r} ۹۵ \\ - ۲۰ \\ \hline ۷۵ \end{array}$$

$۸۰۰ - ۵۰۰ = ۳۰۰$

۸- به کمک محور تفریق زیر را انجام دهید.



دبستان دخترانه غیر دولتی ترنج دانش



نام و نام خانوادگی:

کلاس:

نام درس:

نام آموزگار:

تاریخ:

۹- ابتدا عددها را با حذف یکان و دهگان به صورت تقریبی بنویسید سپس عددهای تقریبی را جمع یا تفریق کنید.



$$\begin{array}{r} 238 \\ + 321 \\ \hline \end{array} \rightarrow \begin{array}{r} 200 \\ + 300 \\ \hline 500 \end{array}$$

$$\begin{array}{r} 425 \\ - 123 \\ \hline \end{array} \rightarrow \begin{array}{r} 400 \\ - 100 \\ \hline 300 \end{array}$$

۱۰- عدد های زیر را با توجه به عبارت بنویسید.

الف) ۹ دسته صدتایی و ۶ دسته ده تایی و ۳ یکی می شود: 943

ب) ۴ دسته صدتایی و ۵ دسته ده تایی و ۷ یکی می شود: 457



۱۱- ساعت چند است؟


$6:15$

یک ربع بعد از این ساعت چه ساعتی است؟

$3:30$

۱۲- زهرا ۹۸ امتیاز داشت به یک سوپاسخ درست داد و ۷ امتیاز گرفت حالا او چند امتیاز دارد؟

$$98 + 7 = 105$$



۱۳- با سه کارت ۳، ۶، ۹ تمام عددهای سه رقمی را که می توان ساخت، بنویسید.

$$943 - 934 - 493 - 439 - 399$$

$$394$$

۱۴- باز شده ی عددهای زیر را بنویس.

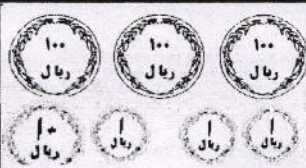
$$123 = 100 + 20 + 3$$

$$768 = 700 + 60 + 8$$

$$901 = 900 + 1$$

$$534 = 500 + 30 + 4$$

$$980 = 900 + 80$$



۱۵- مقدار پول هر قسمت را بنویس.

$$1500$$

$$323$$

$$545$$

نوین گام

مرجع آموزش ابتدایی، دبیرستان و کنکور



ما توی این مسیر هواتون رو داریم

چجوری؟! اینجوری

