

# نوین گام


## مرجع آموزش ابتدایی، دبیرستان و کنکور



ما توی این مسیر هواتون رو داریم

چجوری؟! اینجوری



نام و نام خانوادگی: _____		بسم الله الرحمن الرحيم		تاریخ: ۱۴۰۱/۱۰/۱۱	
آزمون ریاضی، فصلهای ۱-۲-۳ آموزش و پرورش استان بوشهر-شهرستان دیلم		آموزش و پرورش استان بوشهر-شهرستان دیلم		آموزگار: خانم صادقی	
پسران پرتلاشم با آرامش بنویسید		دبستان: سرای دانش (پسرانه)		موفق باشید	
۱	پسرم بارقم های ۲ و ۳ هرچقدر میتوانی عدد دورقمی بنویس.	_____			
۲	پسرکوشای من یک دایره و مربع با شابلون بکش و بعد خط تقارن آنها را مشخص کن.				
۳	گل پسرم ضلع و گوشه هر شکل را مشخص کن و بنویس. (مجموعه دروس-۵۶)			ضلع: _____ گوشه: _____ ضلع: _____ گوشه: _____	
۴	پسرم به جمع و تفریق ها با دقت نگاه کن و بعد حاصل آنها را بنویس.	$۱۰+۲۰+۲=$	$۱۰+۲۰+۱۰+۳=$	$۷+۷=$	$۹+۳=$
۵	الگوی زیر را ادامه بده و به حروف بنویس.	۱۰-۲۰-۳۰	-	-	-
۶	دلبندم نوبت به جمع و تفریق تقریبی رسیده، با دقت جواب آنها را بنویس.	$\begin{array}{r} ۷۱ \rightarrow \\ + \\ ۲۲ \rightarrow \\ \hline \end{array}$	$\begin{array}{r} ۸۱ \rightarrow \\ - \\ ۲۸ \rightarrow \\ \hline \end{array}$		
۷	پسرگلم تفاوت و شباهت شکل ها را به طور کامل بنویس.			تفاوت: _____ شباهت: _____	
۸	گل پسرم جمع و تفریق فرآیندی را بنویس.	$\begin{array}{r} ۲۳ \\ + \\ ۱۳ \\ \hline \end{array}$	$\begin{array}{r} ۳۲ \\ - \\ ۲۰ \\ \hline \end{array}$		






پسر عزیزم سوالات مربوط به ساعت را جواب بده.

۱ نمره

ده دقیقه به ساعت-----مانده است

۵۰ دقیقه از ساعت-----گذشته است



تاریخ: ۱۴۰۱/۱۰/۱۱	بسم الله الرحمن الرحيم	نام و نام خانوادگی:
آموزگار: خانم صادقی	آموزش و پرورش استان بوشهر - شهرستان دیلم	آزمون ریاضی، فصلهای ۳-۲-۱
موفق باشید	دبستان: سرای دانش (پسرانه)	پسران پرتلاشم با آرامش بنویسید
۳۳-۳۲-۲۲-۳۳		
۱ پسرم بارقم های ۲ و ۳ هرچقدر میتوانی عدد دورقمی بنویس.		
۲ پسرکوشای من یک دایره و مربع با شابلون بکش و بعد خط تقارن آنها را مشخص کن.		
۳ گل پسرم ضلع و گوشه هرشکل را مشخص کن و بنویس. (مجموعه دروس-56)		
ضلع: ۴ گوشه: ۴	ضلع: ۶ گوشه: ۶	
۴ پسرم به جمع و تفریق ها با دقت نگاه کن و بعد حاصل آنها را بنویس.	$10 + 20 + 2 = 32$	$10 + 20 + 10 + 3 = 43$
	$7 + 7 = 14$	$9 + 3 = 12$
۵ الگوی زیر را ادامه بده و به حروف بنویس.		
۹۰ نود - ۸۰ هشتاد - ۷۰ هفتاد - ۶۰ شصت - ۵۰ پنجاه - ۴۰ چهل - ۳۰ - ۲۰ - ۱۰		
۶ دلبندم نوبت به جمع و تفریق تقریبی رسیده، با دقت جواب آنها را بنویس.	$\begin{array}{r} 71 \\ + \\ 22 \\ \hline \end{array}$	$\begin{array}{r} 81 \\ - \\ 28 \\ \hline \end{array}$
	۹۰	۵۰
۷ پسرگلم تفاوت و شباهت شکل ها را به طور کامل بنویس.		
تفاوت: مربع ضلع های برابرولی مستطیل ضلع های نابرابر دارد.		
شباهت: هر دو شکل ضلع و گوشه برابر دارند.		

۸ گل پسر جمع و تفریق فرآیندی را بنویس.

$$\begin{array}{r} + \\ \hline 22 \\ 13 \\ \hline 33 \\ + \\ 3 \\ \hline 36 \end{array}$$

$$\begin{array}{r} - \\ \hline 32 \\ 20 \\ \hline 12 \\ - \\ 0 \\ \hline 12 \end{array}$$

۹ پسرعزیم سوالات مربوط به ساعت را جواب بده.

ده دقیقه به ساعت ۲:۰۰ مانده است . ۵۰ دقیقه از ساعت ۱:۰۰ گذشته است



# نوین گام

## مرجع آموزش ابتدایی، دبیرستان و کنکور



ما توی این مسیر هواتون رو داریم

چجوری؟! اینجوری

