

نوین گام

مرجع آموزش ابتدایی، دبیرستان و کنکور

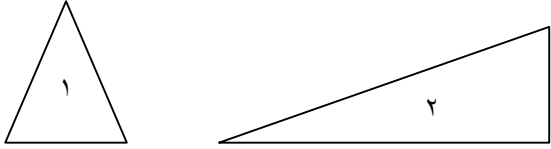



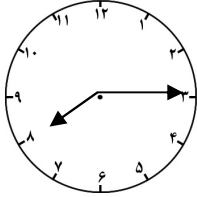
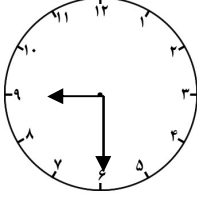
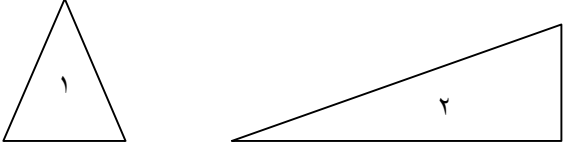
ما توی این مسیر هواتون رو داریم

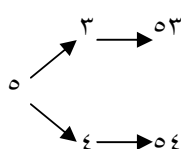
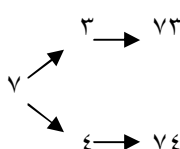
چجوری؟! اینجوری



<p>نام و نام خانوادگی</p> <p>استان کرمان شهرستان رفسنجان</p>	<p>به نام خدا</p> <p>آزمون ریاضی ترم اول سال تحصیلی</p> <p>دبستان دخترانه شهید پور جندقی</p>	<p>کلاس دوم ج</p> <p>طراح سوال : عبدالهی</p>
<p>۱</p>	<p>پاسخ صحیح را با علامت X مشخص کنید.</p> <p>نیم ساعت همان ۳۰ دقیقه است . <input type="checkbox"/> درست <input type="checkbox"/> نادرست</p> <p>عدد ۴۸ به ۴۰ نزدیک است. <input type="checkbox"/> درست <input type="checkbox"/> نادرست</p>	
<p>۲</p>	<p>گزینه ی صحیح را با علامت X مشخص کنید.</p> <p>- کدام یک از عددهای زیر ۱ صدتایی ، ۴ ده تایی و ۳ یکی دارد؟ <input type="checkbox"/> الف (۱۳۴) <input type="checkbox"/> ب (۳۴۱) <input type="checkbox"/> ج (۱۴۳) <input type="checkbox"/> د (۴۱۳)</p> <p>- ساعت کلاس ساعت ۸:۱۵ را نشان می دهد . عقربه ی دقیقه شمار روی چه عددی قرار دارد؟ <input type="checkbox"/> الف (۱) <input type="checkbox"/> ب (۶) <input type="checkbox"/> ج (۳) <input type="checkbox"/> د (۹)</p>	
<p>۳</p>	<p>در جای خالی عدد یا عبارت مناسب بنویسید.</p> <p>با کارت ۲ و ۵ عدد دو رقمی می توانیم بنویسیم . با رقم های ۲ و ۵ عدد دو رقمی می توانیم بنویسیم . ۷ دسته ی ده تایی منهای ۳ دسته ی ده تایی می شود</p>	
<p>۴</p>	<p>مقایسه کنید و علامت مناسب بگذارید (< = >)</p> <p>۲۲۶ □ ۵۶۷ ۱۰۳ □ ۳۰۱ ۹۸۰ □ ۸۹۰ ۸۰ □ ۱۰۰</p>	
<p>۵</p>	<p>به رقم بنویسید .</p> <p>..... چهارصد و نه هشتصد و هفتاد و پنج</p>	
<p>۶</p>	<p>به حروف بنویسید.</p> <p>..... ۳۴۹ ۵۰۸</p>	
<p>۷</p>	<p>سکه ی روبرو را می توان با چند سکه ی ۱۰۰ ریالی و چند سکه ی ۱۰ ریالی عوض کرد .</p> <p></p>	<p style="text-align: right;">نوین گام Novingam.com</p>
<p>۸</p>	<p>زمانی که هر ساعت نشان می دهد را به دو صورت بنویسید .</p> <p>.....</p> <p></p> <p>.....</p> <p></p>	

۹	<p>دو شکل زیر هر دو مثلث هستند چه تفاوت و شباهت هایی با هم دارند .</p> <p>تفاوت : شباهت :</p> 
۱۰	<p>جواب جمع و تفریق ها را به صورت تقریبی به دست آورید.</p> <p>۵۳ → ۶۸ → +۲۹ → -۴۱ → _____ _____</p>
۱۱	<p>حاصل جمع و تفریق زیرا از راه فرایندی (چکمه ای ، چکشی) بدست آورید . (با رسم شکل)</p> <p>۲۲ ۶۰ +۵۶ -۱۴ _____ _____</p>
۱۲	<p>همه ی عدد های دو رقمی که رقم یکان آن ۳ و ۴ و رقم دهگان آن ۵ و ۷ باشد را بنویسید.</p>
۱۳	<p>با رقم های ۷ و ۸ چند عدد دو رقمی می توان نوشت ؟ آن ها را بنویسید .</p> <p>.....</p>
۱۴	<p>الف) زهرا ۲۴ صدف از ساحل دریا جمع کرد و به برادرش علی که ۴۹ صدف جمع کرده بود داد حالا برادر زهرا چند صدف دارد؟</p> <p>ب) علی از صدف هایش ۴۵ تا را انتخاب کرد و با آن ها یک کاردستی درست کرد . حالا چند صدف برایش باقی مانده است؟</p>
۱۵	<p>الگوها رو ادامه بده .</p> <p>۵۳۱ - ۵۳۲ - - - - - - - - - - ۱۰۰ - ۲۰۰ - - - - - - - - - -</p>

پاسخنامه		به نام خدا		کلاس دوم ج	
استان کرمان شهرستان رفسنجان		آزمون ریاضی ترم اول سال تحصیلی		طراح سوال : عبدالهیی	
دبستان دخترانه شهید پور جندقی					
۱	الف (درست ب) نادرست				
۲	الف (ج ب) ج				
۳	با کارت ۲ و ۵ دو عدد دو رقمی می توان بنویسیم . با رقم های ۲ و ۵ چهار عدد دو رقمی می توانیم بنویسیم . ۷ دسته ی ده تایی منهای ۳ دسته ی ده تایی می شود ۴ دسته ی ده تایی				
۴	۵۶۷ < ۲۲۶ ۳۰۱ > ۱۰۳ ۸۹۰ < ۹۸۰ ۱۰۰ > ۸۰				
۵	۴۰۹ چهارصد و نه ۸۷۵ هشتصد و هفتاد و پنج				
۶	سیصد و چهل و نه ۳۴۹ پانصد و هشت ۵۰۸				
۷	دو سکه ۱۰۰ ریالی و ۵ سکه ۱۰ ریالی				
۸	نه و نیم ۹ : ۳۰	هشت و ربع ۸ : ۱۵		 	
۹	تفاوت : در شکل شماره ۱ ضلع ها مساوی هستند اما در شکل شماره ۲ ضلع ها مساوی نیستند شباهت : هر دو شکل ۳ گوشه و ۳ ضلع دارند				
۱۰	$\begin{array}{r} 53 \rightarrow 50 \\ +29 \rightarrow 30 \\ \hline 80 \end{array}$	$\begin{array}{r} 68 \rightarrow 70 \\ -41 \rightarrow 40 \\ \hline 30 \end{array}$			

	$\begin{array}{r} 22 \\ +56 \\ \hline +72 \\ 6 \end{array}$	$\begin{array}{r} 60 \\ -14 \\ \hline +50 \\ 4 \end{array}$	۱۱										
	<table border="1" style="display: inline-table; margin-right: 20px;"> <thead> <tr> <th>دهگان</th> <th>یکان</th> </tr> </thead> <tbody> <tr><td>۵</td><td>۳</td></tr> <tr><td>۵</td><td>۴</td></tr> <tr><td>۷</td><td>۳</td></tr> <tr><td>۷</td><td>۴</td></tr> </tbody> </table>  	دهگان	یکان	۵	۳	۵	۴	۷	۳	۷	۴		۱۲
دهگان	یکان												
۵	۳												
۵	۴												
۷	۳												
۷	۴												
	۸۷ - ۷۸ - ۸۸ - ۷۷		۱۳										
	<p>الف) حالا برادر زهرا ۶۳ صدف دارد .</p> $\begin{array}{r} 14 \\ +49 \\ \hline +54 \\ 9 \end{array}$ <p>ب) علی ۱۸ صدف برایش باقی مانده است .</p> $\begin{array}{r} 63 \\ +45 \\ \hline -23 \\ 0 \\ \hline 18 \end{array}$		۱۴										
	<p>۵۳۱-۵۳۲-۵۳۳-۵۳۴-۵۳۵-۵۳۶-۵۳۷-۵۳۸-۵۳۹-۵۴۰</p> <p>۱۰۰-۲۰۰-۳۰۰-۴۰۰-۵۰۰-۶۰۰-۷۰۰-۸۰۰-۹۰۰</p>		۱۵										

نوین گام

مرجع آموزش ابتدایی، دبیرستان و کنکور



ما توی این مسیر هواتون رو داریم

چجوری؟! اینجوری

