

نوین گام

مرجع آموزش ابتدایی، دبیرستان و کنکور



ما توی این مسیر هواتون رو داریم




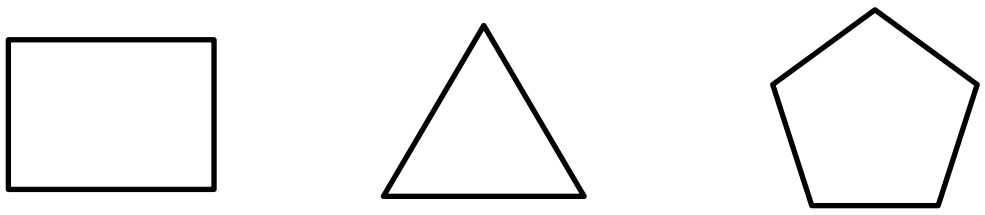
چجوری؟! اینجوری



نام و نام خانوادگی:
 پایه: دوم
 نام پدر:
 تعداد صفحه سؤال: ۲ صفحه

جمهوری اسلامی ایران
 اداره ی کل آموزش و پرورش شهر تهران
 اداره ی آموزش و پرورش شهر تهران منطقه ۴ تهران
 دبستان غیردولتی دخترانه سرای دانش واحد رسالت
 جمع بندی پایان ترم نوبت اول سال تحصیلی ۱۴۰۲ - ۱۴۰۱

نام درس: ریاضی
 نام دبیر: مریم سادات آقاحسینی
 تاریخ امتحان: ۱۷ / ۱۰ / ۱۴۰۱
 ساعت امتحان: ۰۷:۳۰ صبح / عصر
 مدت امتحان: ۹۰ دقیقه

محل مهر و امضاء مدیر	نمره به عدد:	نمره به حروف:
	نام دبیر:	تاریخ و امضاء:
نام دبیر:	نمره به عدد:	نمره به حروف:
تاریخ و امضاء:	نام دبیر:	تاریخ و امضاء:
ردیف	سؤالات	نمره
۱	<p>الگوهای زیر را ادامه دهید:</p> <p>۱۰۵-۱۱۰-.....-.....-.....-.....-.....-.....-.....-.....-.....</p> <p>۱۳-۱۶-.....-.....-.....-.....-.....-.....-.....-.....-.....</p> 	۱
۲	<p>۷ دسته ی ده تایی منهای ۴ دسته ی ده تایی می شود.....</p> <p>$۷۰ - ۴۰ =$</p> <p>..... دسته ی ده تایی به اضافه دسته ی ده تایی می شود.....</p> <p>$۳۰ + ۵۰ =$</p>	۲
۳	<p>مهرسانا ۵۴ شاخه گل داشت، او ۳۹ شاخه گل را به کارینا داد . حالا او چند شاخه گل دارد؟ (با رسم شکل)</p>	۳
۴	<p>جمع و تفریق های زیر را روی محور نشان دهید؟</p> <p>$۳۰ + ۳۰ =$</p>  <p>$۹ - ۱۸ =$</p> 	۴
۵	<p>تعداد ضلع و گوشه و خط تقارن های شکل های زیر را بنویسید و خط تقارن آن ها را رسم کنید:</p>  <p>ضلع..... گوشه..... خط تقارن.....</p> <p>ضلع..... گوشه..... خط تقارن.....</p> <p>ضلع..... گوشه..... خط تقارن.....</p>	۵

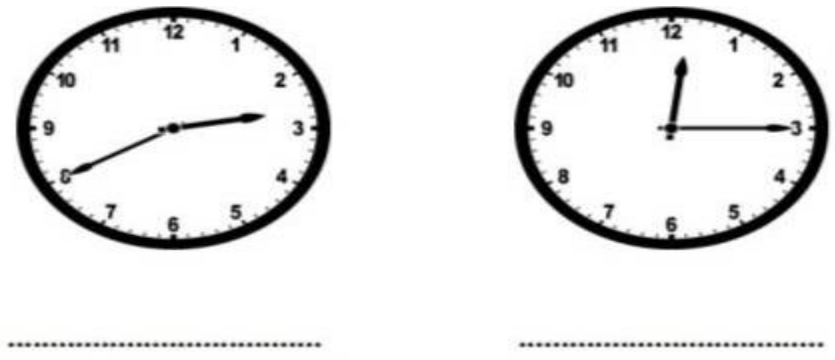
حاصل جمع و تفریق های زیر را به دست آورید: (تقریبی)

$$\begin{array}{r}
 75 \\
 - 32 \\
 \hline
 \end{array}
 \rightarrow - \underline{\hspace{2cm}}$$

$$\begin{array}{r}
 67 \\
 + 34 \\
 \hline
 \end{array}
 \rightarrow + \underline{\hspace{2cm}}$$

۶

ساعت چند است؟



۷

جواب جمع و تفریق های زیر را به دست آورید: (فرآیندی)

$$\begin{array}{r}
 57 \\
 - 36 \\
 \hline
 \end{array}$$

$$\begin{array}{r}
 63 \\
 + 16 \\
 \hline
 \end{array}$$

۸

جاهای خالی را پر کنید:

۱۰۰	۱۰	۱۰
۱۰۰	□□	□□
۱۰۰		
	صدگان	دهگان
		یکان

یکی ده تایی صدتایی

۹


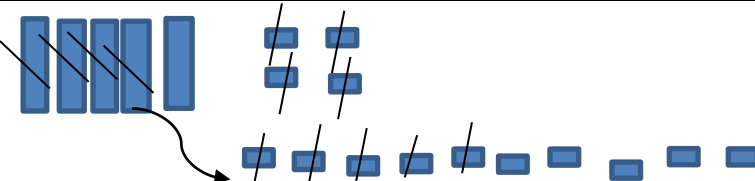


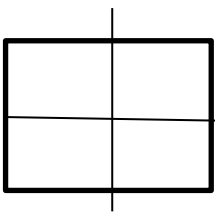
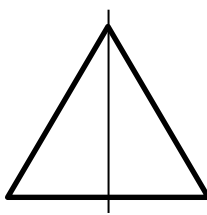
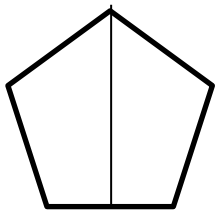
با کارت ۳ و ۹ و ۰ چند عدد دو رقمی می توان نوشت؟

۱۰



اداره ی کل آموزش و پرورش شهر تهران
 اداره ی آموزش و پرورش شهر تهران منطقه ۴ تهران
 دبستان غیر دولتی دخترانه سرای دانش واحد رسالت
کلید سؤالات جمع بندی پایان ترم نوبت اول سال تمصیلی ۱۴۰۲ - ۱۴۰۱

نام درس: ریاضی
 نام دبیر: مریم سادات آقامسینی
 تاریخ امتحان: ۱۴۰۱/۱۰/۱۷
 ساعت امتحان: ۷:۳۰ صبح / عصر
 مدت امتحان: ۹۰ دقیقه

ردیف	راهنمای تصحیح	محل مهر یا امضاء مدیر
۱		۱۰۵۱۱۰۱۱۵۱۲۰۱۲۵۱۳۰۱۳۵۱۴۰۱۴۵ ۱۶۱۳۱۰۷۴۱ 
۲	۷ دسته ی ده تایی منهای ۴ دسته ی ده تایی می شود. ۳ دسته ی ده تایی $۷۰ - ۴۰ = ۳۰$ ۵ دسته ی ده تایی به اضافه ۳ دسته ی ده تایی می شود ۸ دسته ی ده تایی $۳۰ + ۵۰ = ۸۰$	
۳		$۳۹ - ۵۴ = ۱۵$ 
۴		$۳۰ + ۳۰ = ۶۰$  $۹ - ۱۸ = ۹$ 
۵	تعداد ضلع و گوشه و خط تقارن های شکل های زیر را بنویسید و خط تقارن آن ها را رسم کنید:	<div style="display: flex; justify-content: space-around; align-items: flex-start;"> <div style="text-align: center;">  <p>.....۴..... ضلع ۴..... گوشه ۲..... خط تقارن</p> </div> <div style="text-align: center;">  <p>.....۳..... ضلع ۳..... گوشه ۱..... خط تقارن</p> </div> <div style="text-align: center;">  <p>.....۵..... ضلع ۵..... گوشه ۱..... خط تقارن</p> </div> </div>

$$\begin{array}{r} 75 \\ - 32 \\ \hline \end{array} \rightarrow \begin{array}{r} 80 \\ - 30 \\ \hline 50 \end{array}$$

$$\begin{array}{r} 67 \\ + 34 \\ \hline \end{array} \rightarrow \begin{array}{r} 70 \\ + 30 \\ \hline 100 \end{array}$$

۶



۲:۴۰



۱۲:۱۵
دوازده و ربع

۷

$$\begin{array}{r} 57 \\ - 36 \\ \hline 21 \end{array}$$

$$\begin{array}{r} 63 \\ + 16 \\ \hline 79 \end{array}$$

۸

۱۰۰	۱۰	۱۰
۱۰۰	□□	□□
۱۰۰		

صدگان	دهگان	یکان

۳۲۶

۳۲۶



ریال

یکی ده تایی صدتایی

۹

۱۹۰

۱۹۰

چهار عدد دو رقمی (۳۰-۳۹-۹۰-۹۳)

۱۰

امضاء:

نام و نام خانوادگی مصحح :

جمع بارم : ۲۰۰نمره

نوین گام

مرجع آموزش ابتدایی، دبیرستان و کنکور



ما توی این مسیر هواتون رو داریم

چجوری؟! اینجوری

