

نوین گام

مرجع آموزش ابتدایی، دبیرستان و کنکور



ما توی این مسیر هواتون رو داریم

چجوری؟! اینجوری



نام و نام خانوادگی:

* پایه دوم دبستان دخترانه گل یاس *

ارزشیابی دی ماه ۱۴۰۱

آموزگار: خانم قلعه سری

آزمون مداد و کاغذی درس: ریاضی

۴- دخترم! تفریق های زیر را انجام دهید.

$$۹۰ - ۴۰ = \dots\dots$$

$$۶۰ - ۲۰ = \dots\dots$$

۸۲

۷۶

روش فرآیندی

- ۳۶

- ۲۳

(قارچی)

۵- شباهت و تفاوت های دو شکل زیر را بنویسید.



تفاوت:

.....



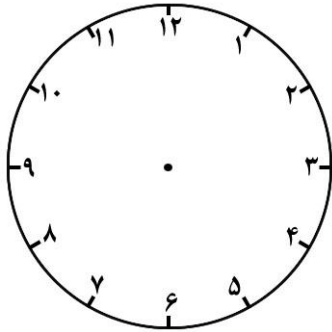
شباهت:

.....

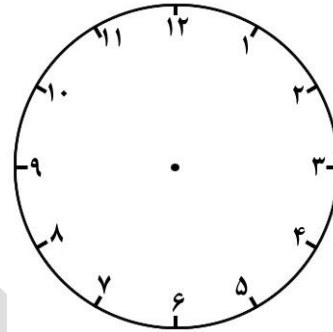
۶- نازنینم! با کارت های ۴,۰,۶ تمام عددهای سه رقمی را بسازید و بنویسید.

.....

۷- دلبندم! برای ساعت های زیر عقربه بکشید.

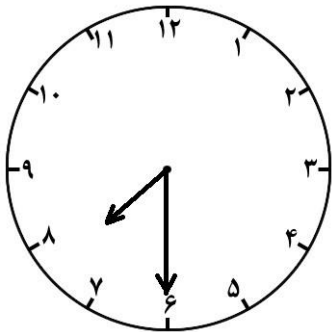


۴:۵۰



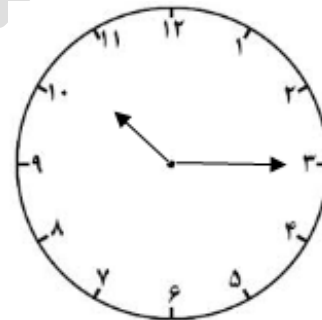
۱۲:۳۵

۸- زمانی را که ساعت های زیر نشان می دهد ، به دو صورت بنویسید.



..... :

.....



..... :

.....

۹- گلم! حاصل جمع و تفریق ها را با تقریب زدن به دست آورید.

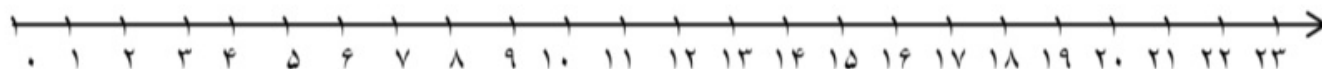
۷۳ →

۵۵ →

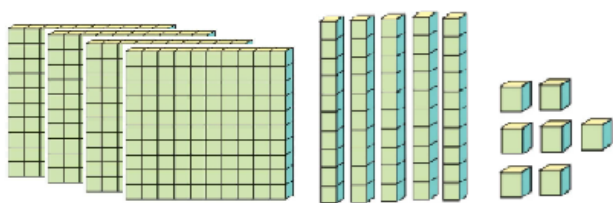
- ۴۶ → -

+ ۲۸ → +

۱۰- در یک اتوبوس ۱۴ نفر نشسته اند. در ایستگاه بعدی ۷ نفر دیگر سوار اتوبوس شدند و در ایستگاه بعد ۵ نفر از اتوبوس پیاده شدند. حالا چند نفر در اتوبوس نشسته اند؟ (به کمک محور)




۱۱- جدول را کامل کنید و به عدد و حروف بنویسید.



صدگان	دهگان	یکان

به عدد:

به حروف:



صدگان	دهگان	یکان

به عدد:

به حروف:



باز خورد معلم برای من:

" به نام خدا "

پایه دوم دبستان

<آموزش و پرورش شهرستان گلوگاه>

پاسخ سوالات

ارزشیابی دی ماه

دبستان دخترانه گل یاس

آزمون مدادو کاغذی درس: ریاضی

تاریخ: ۱۴۰۱/۱۰/۱۷

سال تحصیلی: ۱۴۰۱-۱۴۰۲

آموزگار: خانم قلعه سری

پاسخ سوال ۱ :

۳-۷-۱۱-۱۵-۱۹-۲۳-۲۷-۳۱-۳۵

۲-۵-۹-۱۴-۲۰-۲۷-۳۵-۴۴-۵۴.

پاسخ سوال ۲ :

۱۶۲	۱۶۳	۱۶۴
-----	-----	-----

سی و شش	سی و پنج	سی و چهار
---------	----------	-----------

۳۹۹	۴۰۰	۴۰۱
-----	-----	-----

چهل و نه	چهل و هشت	چهل و هفت
----------	-----------	-----------

پاسخ سوال ۳ :

$$۲۰ + ۱۰ + ۵ + ۱۰ + ۵ + ۶ + ۲۰ = ۷۶$$

$$\begin{array}{r} ۶۱ \\ + ۲۵ \\ \hline ۸۱ \\ + ۵ \\ \hline ۸۶ \end{array}$$

$$\begin{array}{r} ۵۰ \\ + ۲۸ \\ \hline ۷۰ \\ + ۸ \\ \hline ۷۸ \end{array}$$

پاسخ سوال ۴ :

$$۹۰ - ۴۰ = ۵۰$$


$$۶۰ - ۲۰ = ۴۰$$

$$\begin{array}{r} ۸۲ \\ - ۳۶ \\ \hline ۵۲ \\ - ۶ \\ \hline ۴۶ \end{array}$$

(به روش قارچی)

$$\begin{array}{r} ۷۶ \\ - ۲۳ \\ \hline ۵۶ \\ - ۲ \\ \hline ۵۳ \end{array}$$

پاسخ سوال ۵ :



تفاوت: در شکل ۲، همه ی ضلع ها با هم برابر هستند، اما در شکل ۱

ضلع های رو به رو به دو به دو با هم برابرند.

شباهت: هر دو شکل ۴ ضلع و ۴ گوشه دارند.

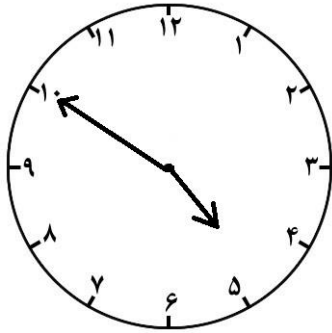
پاسخ سوال ۶ :

$$۶۴۰ - ۶۰۴ - ۴۶۰ - ۴۰۶$$

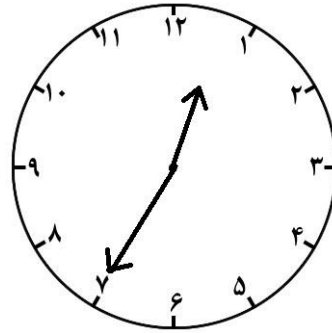
آزمون مداد و کاغذی درس: ریاضی

آموزگار: خانم قلعه سری

پاسخ سوال ۷:

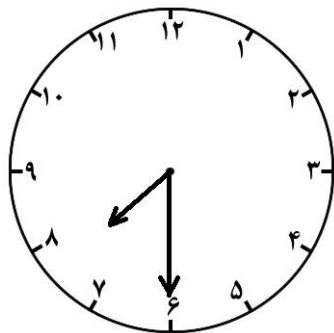


۴:۵۰



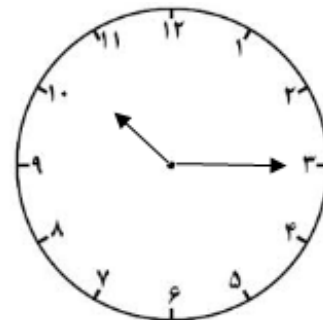
۱۲:۳۵

پاسخ سوال ۸:



۷:۳۰

ساعت هفت و نیم است.



۱۰:۱۵

ساعت ده و ربع است.

پاسخ سوال ۹:

$$\begin{array}{r} 7 \\ - 43 \\ \hline \end{array} \longrightarrow \begin{array}{r} 70 \\ - 40 \\ \hline 30 \end{array}$$

$$\begin{array}{r} 55 \\ + 28 \\ \hline \end{array} \longrightarrow \begin{array}{r} 60 \\ + 30 \\ \hline 90 \end{array}$$

آزمون مداد و کاغذی درس: ریاضی

آموزگار: خانم قلعه سری

پاسخ سوال ۱۰ :

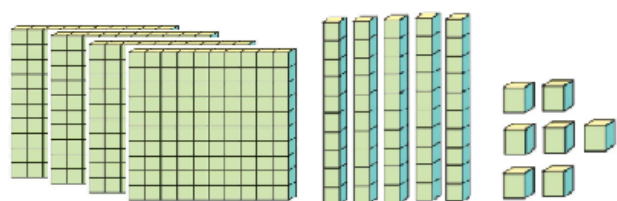
۱۶ نفر در اتوبوس نشسته اند.

$$۱۴+۷-۵=۱۶$$


پاسخ سوال ۱۱ :

به عدد: ۴۵۷

به حروف: چهارصد و پنجاه و هفت



یکان	دهگان	صدگان



یکان	دهگان	صدگان

به عدد:

به حروف:

۲۳۴

دویست و سی و چهار

نوین گام

مرجع آموزش ابتدایی، دبیرستان و کنکور



ما توی این مسیر هواتون رو داریم

چجوری؟! اینجوری

