

# نوین گام

## مرجع آموزش ابتدایی، دبیرستان و کنکور



ما توی این مسیر هواتون رو داریم

چجوری؟! اینجوری





دبستان پویندگان البرز

نام و نام خانوادگی:

ارزشیابی ریاضی دی

پایه : دوم

شهرستان البرز

تاریخ: ۱۴۰۱/۱۰/۱۷

سزبل

۱- آرش ۵۰۸ ریال پول دارد. با توجه به پوش جدول و جاهای خالی را کامل کنید.

ص	د	ی

به حروف:.....

گسترده : .....



با چینه

با سکه

۲- جمع و تفریق زیر را با شکل و راه حل ، حل کنید.

$$\begin{array}{r} 25 \\ + \\ 49 \\ \hline \end{array}$$

$$\begin{array}{r} 90 \\ = \\ 68 \\ \hline \end{array}$$

۳- در یک اتوبوس ۱۴ نفر نشسته اند. در ایستگاه بعدی ۷ نفر دیگر سوار شدند و در ایستگاه بعدی ۵ نفر از

اتوبوس پیاده شدند. حالا چند نفر در اتوبوس نشسته اند؟ (به کمک محور)

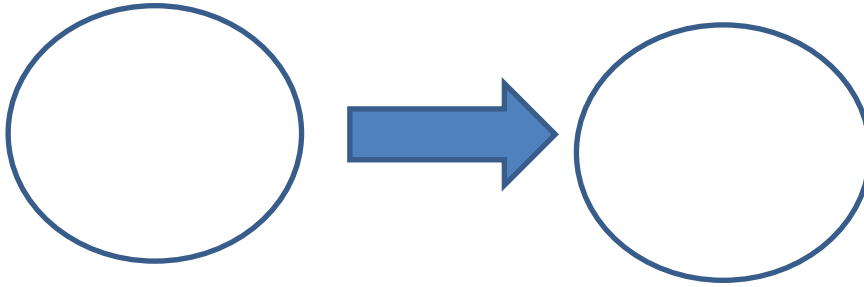
۴- شباهت و تفاوت دو شکل رو به رو را بنویس.



شباهت: .....

تفاوت: .....

۵- ارزشیابی ریاضی خواهرم ساعت ۱۰: ۸ صبح شروع می شود و یک ساعت ونیم بعد تمام می شود. ارزشیابی خواهرم چه ساعتی تمام می شود؟ (با دو ساعت نشان دهید)



۸:۱۰

بعد از یک ساعت ونیم

۶- ریاضیدان کوچک من، همه ی عدد های دورقمی که می توان با رقم های ۵ و ۳ برای یکان و، ۹ و ۶ برای دهگان نوشت را بنویسید. (با روش جدول و خوشه ای)

۷۸-۸۳-۸۸-.....-.....-.....

۷- گل پسر الگو های زیر را ادامه بده.



۹۴

۸- حاصل را با تقریب به دست آورید.

۵۵

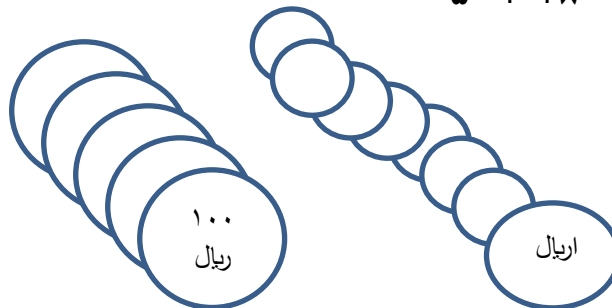
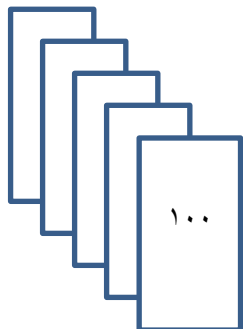
نوین گام [Novingam.com](http://Novingam.com)

پاسخنامه ارزشیابی ریاضی دی

سوال ۱- پانصد و هشت


$$500 + 0 + 0 + 8$$

ص	د	ی
۵	۰	۸




سوال ۲-

$$\begin{array}{r} 25 \\ 49 \\ \hline 65 \\ 9 \\ \hline 74 \end{array}$$



$$\begin{array}{r} 90 \\ 68 \\ \hline 30 \\ 8 \\ \hline 22 \end{array}$$





۴- شباهت: هر دو ضلع ۴ گوشه دارند

تفاوت: ضلع های مربع باهم برابر هستند اما ضلع های مستطیل با هم برابر نیستند و دوتای روبه رو با هم برابر هستند.

۵- ساعت ۹:۴۰ می شود

د	ی	
۹	۳ → ۹۳	۹
۹	۵ → ۹۵	
۶	۳ → ۶۳	۶
۶	۵ → ۶۵	

سوال ۷- الگوی اول ۵ تا ۵ تا الگوی شکلی ۳ تا ۳ تا جلو می رود.

سوال ۸- تقریب ۹۴ میشود ۹۰ و تقریب ۵۵ میشود ۶۰ و حاصل تفریق آن می شود ۳۰

# نوین گام

## مرجع آموزش ابتدایی، دبیرستان و کنکور



ما توی این مسیر هواتون رو داریم

چجوری؟! اینجوری

