

نوین گام

مرجع آموزش ابتدایی، دبیرستان و کنکور



ما توی این مسیر هواتون رو داریم

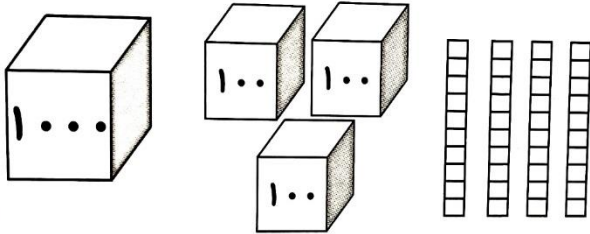
چجوری؟! اینجوری



سؤالات

رتبه

با توجه به شکل مقابل عدد را در جدول ارزش مکانی دهید و آن را به حروف بنویسید.



۱

مغازه داری یک شیشه شیر را ۲۰۰ تومان میخرد و ۲۳۰ تومان میفروشد.

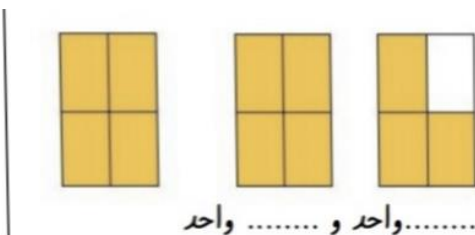
الف) سود هر شیشه شیر را حساب کنید.

ب) ۵ شیشه شیر چقدر سود دارد؟

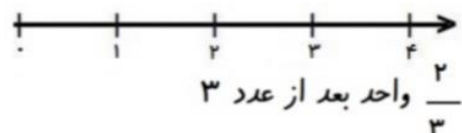
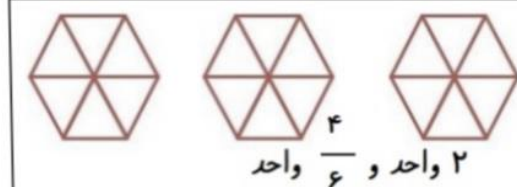
۲

| | | | | | |
|----------|--|--|--|--|--|
| شیشه شیر | | | | | |
| سود | | | | | |

جاهای خالی را با عدد مناسب و شکل ها را با رنگ کامل کنید



۳



اعداد زیر را به صورت گسترده بنویسید.

$2149 = \dots\dots\dots$

$9083 = \dots\dots\dots$

۴

جای خالی را کامل کنید.

۵

* ۳۵۶ سانتی متر یعنی متر و سانتی متر.

* ۷ کیلومتر یعنی متر.

* یک ربع ساعت ساعت است.


* ۹ متر و ۱۵ سانتی متر یعنی سانتی متر.

* ۶۹۰۰ گرم برابر است با کیلوگرم و گرم.

نوین گام Novingam.com

با کامل کردن شکل نشان دهید که $\frac{2}{5} = \frac{4}{10}$ است.

۶



مقایسه کنید < = >

1 $\frac{7}{7}$

۴ واحد و $\frac{1}{2}$ واحد ۵ واحد و $\frac{1}{5}$ واحد

۷

ثلث خمس

$\frac{2}{5}$ $\frac{2}{7}$

$\frac{3}{10}$ $\frac{6}{10}$

زاویه و خط تقارن شکل زیر را مشخص کنید. و بنویسید زاویه مربع چه نوع زاویه ای است؟



۹

۳ دلار کشوری معادل ۳۰۰ تومان است، ۵ دلار چند تومان ارزش دارد؟

۱۰

| | | | | | |
|-------|--|--|--|--|--|
| دلار | | | | | |
| تومان | | | | | |



اداره ی کل آموزش و پرورش شهر تهران
 اداره ی آموزش و پرورش شهر تهران منطقه ۷ تهران
 دبستان غیر دولتی پسرانه سرای دانش واحد شریعتی
کلید سؤالات ترم نوبت اول سال تحصیلی ۱۴۰۲-۱۴۰۱

نام درس: ریاضی
 نام دبیر:
 تاریخ امتحان: ۱۷ / ۱۰ / ۱۴۰۱
 ساعت امتحان: صبح / عصر
 مدت امتحان: دقیقه

محل مهر یا امضاء مدیر

راهنمای تصحیح

ردیف

| | | | |
|---------|-------|-------|------|
| هزارگان | صدگان | دهگان | یکان |
| ۱ | ۳ | ۴ | ۰ |

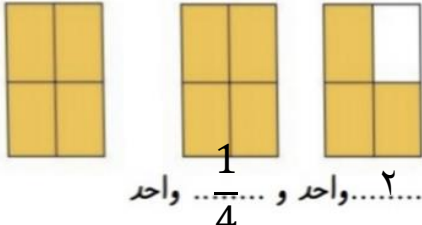
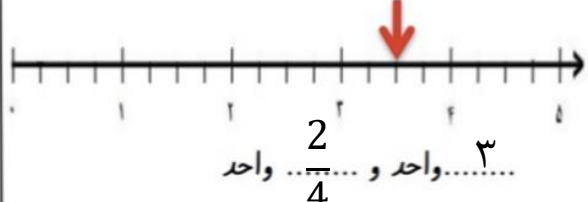

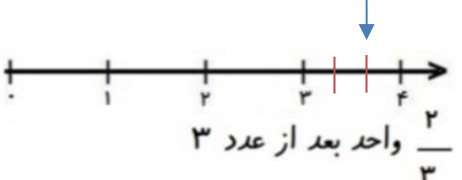
۱

هزار و سیصد و چهل

| | | | | | |
|----------|----|----|----|-----|-----|
| شیشه شیر | ۱ | ۲ | ۳ | ۴ | ۵ |
| سود | ۳۰ | ۶۰ | ۹۰ | ۱۲۰ | ۱۵۰ |

۲

سود هر بسته ۳۰ تومن است

| | |
|---|--|
|  |  |
|  |  |

۳

$$2149 = 2000 + 100 + 40 + 9$$

$$9083 = 9000 + 80 + 3$$

۴

❖ ۳ متر و ۵۶ سانتی متر

❖ ۷۰۰۰ متر

❖ $\frac{1}{4}$ ساعت

۵

❖ ۹۱۵ سانتی متر
❖ ۶ کیلوگرم و ۹۰۰ گرم

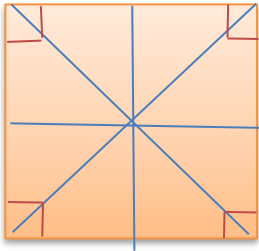


۶

$$\frac{2}{5} > \frac{2}{7} \quad \frac{3}{10} < \frac{6}{10} \quad 1 = \frac{7}{7}$$

7

۴ واحد و $\frac{1}{2}$ واحد > ۵ واحد و $\frac{1}{5}$ واحد > ثلث < خمس



مربع ۴ زاویه راست دارد و ۴ خط تقارن

8

| | | | | | |
|-------|-----|-----|-----|-----|-----|
| دلار | 1 | 2 | 3 | 4 | 5 |
| تومان | 100 | 200 | 300 | 400 | 500 |

9

با توجه به اینکه ۳ دلار کشوری ۳۰۰ تومان ارزش دارد پس ۱ دلار آن ۱۰۰ تومان است، در نتیجه ۵ دلار آن ۵۰۰ تومان ارزش دارد

امضاء:

نام و نام خانوادگی مصحح :

نوین گام

مرجع آموزش ابتدایی، دبیرستان و کنکور



ما توی این مسیر هواتون رو داریم

چجوری؟! اینجوری

