

نوین گام

مرجع آموزش ابتدایی، دبیرستان و کنکور



ما توی این مسیر هواتون رو داریم

چجوری؟! اینجوری





نام درس: ریاضی

کلاس: سوم

نام و نام خانوادگی:

تاریخ:

نام آموزگار:

۱- جاهای خالی را با کلمات مناسب کامل کنید.

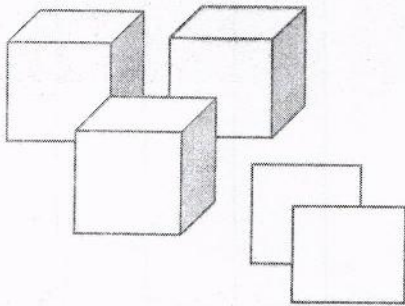
۳ کیلوگرم و ۱۳۰ گرم یعنی ----- گرم

۱۰۶۸ متر یعنی ----- کیلومتر و ----- متر

۸۰ میلی متر یعنی ----- سانتی متر

۷ متر و ۶۵ سانتی متر یعنی ----- سانتی متر

۲- با توجه به شکل رو به رو، جاهای خالی را کامل کنید.




یکان	دهگان	صدگان	هزارگان

به عدد: -----

به حروف: -----

۳- برای شکل های زیر کسر بنویسید.



۴- کسرهای زیر را روی محور نشان دهید.



(الف) واحد بعد از عدد ۲



(ب) واحد مانده به عدد ۴

۵- مریم یک سوم پول خود و زهرا دو سوم پول خود را صدقه دادند. با رسم شکل نشان دهید کدام یک پول بیش تری صدقه داده است؟


۶- گلناز برای جشن یلدا، ۵ بسته شکلات که در هر بسته ۴ شکلات بود، به خانه ی مادر بزرگ برد. با کشیدن شکل و کشیدن محور و با استفاده از روش محور، حساب کنید در این ۵ بسته روی هم، چند شکلات قرار دارد؟



۷- امروز جمعه، دومیین روز از ماه دی است. تا پایان این ماه جمعه ها چه روز هایی از ماه هستند؟ (با روش الگویابی حل شود.)



۸- به چند حالت می توان با سکه های ۵۰ ریالی و ۱۰۰ ریالی، ۲۰۰۰ ریال ساخت؟

۹- کسر شکل های زیر را بنویسید.




----- واحد کامل و ----- واحد.

۱۰- کسرهای زیر را روی محور نشان دهید.



۱۱- نازنین دو سوم پیتزا و نوید دو چهارم پیتزا رو خورده اند. با رسم شکل نشان دهید کدام یک پیتزای بیش تری خورده اند.



۱۲- خیاطی به ۴ عدد مانته می خواد دکمه بدوزد. اگر او به هر مانته ۵ دکمه بدوزد با کشیدن شکل ساده و نوشتن عبارت ضرب، تعداد کل دکمه ها را پیدا کنید.



نام درس: د

کلاس:

نام و نام خانوادگی:

تاریخ:

نام آموزگار:

۱- جاهای خالی را با کلمات مناسب کامل کنید.

۳ کیلوگرم و ۱۳۰ گرم یعنی 3130 گرم
۸۰ میلی متر یعنی 8 سانتی متر

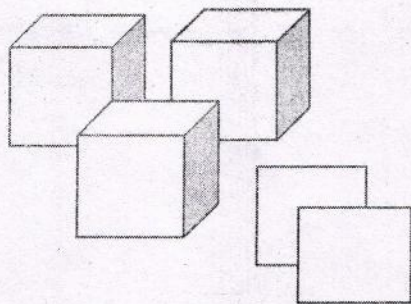
۱۰۶۸ متر یعنی 1 کیلومتر و 68 متر
۷ متر و ۶۵ سانتی متر یعنی 765 سانتی متر

۲- با توجه به شکل رو به رو، جاهای خالی را کامل کنید.

هزارگان	صدگان	دهگان	یکان
۳	۲	۰	۳

به عدد: 323

به حروف: سه هزار و دو و سه



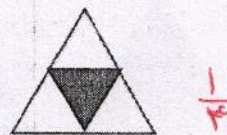
(ب)



۲ واحد مابین $\frac{3}{4}$ واحد

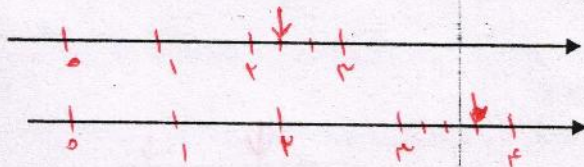
۳- برای شکل های زیر کسر بنویسید.

(الف)



$\frac{1}{4}$


۴- کسرهای زیر را روی محور نشان دهید.



(الف) $\frac{1}{4}$ واحد بعد از عدد ۲

(ب) $\frac{3}{4}$ واحد مانده به عدد ۴

۵- مریم یک سوم پول خود و زهرا دو سوم پول خود را صدقه دادند. با رسم شکل نشان دهید کدام یک پول بیش تری صدقه داده است؟ زهرا




$\frac{1}{3} < \frac{2}{3}$

۶- گلناز برای جشن یلدا، ۵ بسته شکلات که در هر بسته ۴ شکلات بود، به خانه ی مادر بزرگ برد. با کشیدن شکل و کشیدن محور و با استفاده از روش محور، حساب کنید در این ۵ بسته روی هم، چند شکلات قرار دارد؟ 20




$5 \times 4 = 20$

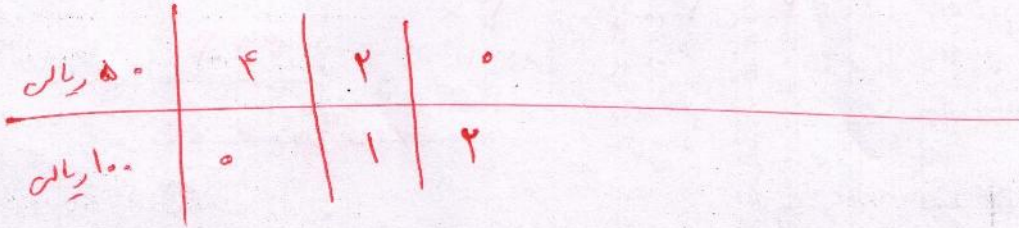




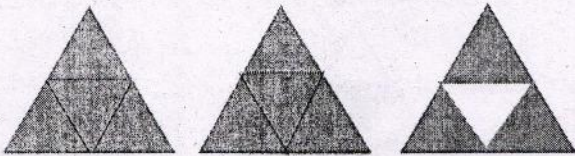
۷- امروز جمعه، دومین روز از ماه دی است. تا پایان این ماه جمعه ها چه روز هایی از ماه هستند؟ (با روش الگویابی حل شود.)



۸- به چند حالت می توان با سکه های ۵۰ ریالی و ۱۰۰ ریالی، ۲۰۰۰ ریال ساخت؟ **۳ حالت**




۹- کسر شکل های زیر را بنویسید.

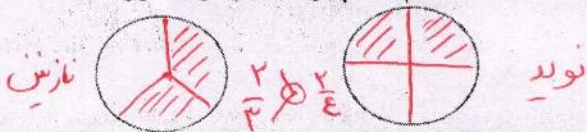


۲ واحد کامل و $\frac{3}{4}$ واحد

۱۰- کسرهای زیر را روی محور نشان دهید.

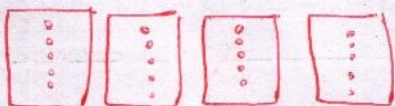


۱۱- نازنین دو سوم پیتزا و نوید دو چهارم پیتزا رو خورده اند. با رسم شکل نشان دهید کدام یک پیتزای بیش تری خورده اند.



نازنین پیتزای بیش تری خورده است.

۱۲- خیاطی به ۴ عدد مانتو می خواد دکمه بدوزد. اگر او به هر مانتو ۵ دکمه بدوزد با کشیدن شکل ساده و نوشتن عبارت ضرب، تعداد کل دکمه ها را پیدا کنید. **۲۰ دکمه باید بدوزد.**



$4 \times 5 = 20$

نوین گام

مرجع آموزش ابتدایی، دبیرستان و کنکور



ما توی این مسیر هواتون رو داریم

چجوری؟! اینجوری

