

# نوین گام

## مرجع آموزش ابتدایی، دبیرستان و کنکور



ما توی این مسیر هواتون رو داریم

چجوری؟! اینجوری





بسمه تعالی

واحد درسی : چگونه احساساتمان را بیان کنیم؟

موضوع : ارزشیابی دی ماه (مداد و کاغذی)

تاریخ : دی ماه

پایه : سوم

شماره :

عدد سه هزار و چهارصد و نود و دو را نوشته و در جدول ارزش مکانی قرار دهید و برای آن شکل بکشید .

عدد: \_\_\_\_\_

هزارگان	صدگان	دهگان	یکان

۱

کسر های زیر را روی محور نشان دهید

الف)  $\frac{4}{5}$

۲



ب)  $\frac{3}{4}$  بعد از عدد ۲



کوچکترین و بزرگترین عدد چهاررقمی که با رقم های ۲, ۰, ۴, ۸ ساخته می شود را بنویسید .

۳

۲۰ ریال ایران برابر ۱۰۰۰ لیره ی کشوری است .

الف) ۶۰ ریال چند لیره است ؟

(حتما جدول رسم کنید)

۴

علامت مناسب بگذارید .

۲۳۴۰ ریال  ۲۳۴ تومان

۳ کیلوگرم  ۲۰۰۰ گرم ۵

۲۳۰ + ۷۴۵  ۴۸۵۰

۳۴۵ متر  ۲ متر و ۴۵ سانتی متر

برای اندازه گیری یک جعبه آن را در یک کفه ی ترازو و در کفه ی دیگر یک وزنه ی ۲ کیلو گرمی و یک وزنه ی ۵۰۰ گرمی و دو وزنه ی ۱۰۰ گرمی قرار دادیم جرم این جعبه چند کیلو گرم و گرم است ؟ ۶

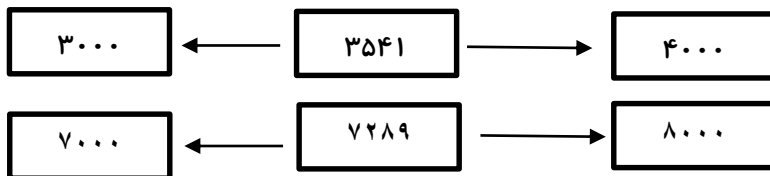
جاهای خالی را پر کنید .

۳۴۵۲ برابر است با \_\_\_\_\_ ده تایی و \_\_\_\_\_ صد تایی و \_\_\_\_\_ هزار تایی و \_\_\_\_\_ یکی ۷

۳۴۲ سانتی متر برابر است با \_\_\_\_\_ متر و \_\_\_\_\_ متر

۲۲ میلی متر برابر است با \_\_\_\_\_ سانتی متر و \_\_\_\_\_ سانتی متر

هر کدام از اعداد زیر به کدامیک نزدیک تر است آن را رنگ کنید.



زمین کشاورزی داریم اگر نصف آن را پیاز کاشته باشیم و نصف دیگر آن را سه قسمت کرده باشیم و در یک قسمت آن سیب زمینی کاشته باشیم ۹

الف) چه کسری پیاز کاشته شده است؟

ب) چه کسری سیب زمینی کاشته شده است؟

ج) چه کسری چیزی کاشته نشده است؟




۱۰. دایره ای به شعاع ۳ سانتی متر رسم کنید  
الف) به چهار قسمت مساوی آن را تقسیم کنید و سه قسمت آن را رنگ کنید  
ب) چه کسری از دایره رنگ شده است؟  
ج) چه کسری از دایره رنگ نشده است؟

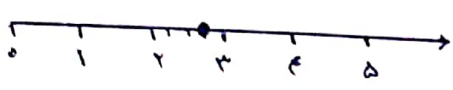
دستان خودشنده سینه مهدوی / ریاضی سوم دبستان

یکان	دهگان	صدهگان	میانگان
۲	۹	۴	۳

۱- عدد: ۳۴۹۲



۲- الف)  $\frac{4}{5}$



ب)  $\frac{3}{4}$  بعد از عدد ۲

۳- کوچکترین: ۲۰۴۸ / بزرگترین: ۸۴۲۰

الف) 

۲۰	۱۰۰۰
۶۰	?

 $\frac{۲۰}{۶۰} = \frac{۱۰۰۰}{?}$


۵-  $۳ \text{ کیلوگرم} < ۲۰۰۰ \text{ گرم}$   $۲۳۴۰ \text{ کیلوگرم} = ۲۳۴۰۰۰۰ \text{ گرم}$

$۶۸۵ \cdot \square = \frac{۷۴۵ + ۲۳۰}{۹۷۵}$   $۲ \text{ متر و } ۳۵ \text{ سانتی متر} < ۲۳۵ \text{ متر}$

۶-  $۲ \text{ کیلو و } ۵۰۰ \text{ گرم} = ۲۰۰۰ + ۵۰۰ + (۲ \times ۱۰۰۰) = ۲۷۰۰ \text{ گرم}$   $۲ \text{ کیلو و } ۵۰۰ \text{ گرم}$

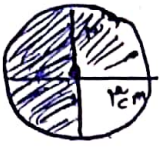
- ۷- ۱- ۵ تا ده تایی - ۴ تا صد تایی - ۳ تا هزار تایی - ۲ تا بیلی  
 ۲- ۳ متر - ۲ سانتی متر  
 ۳- ۲ سانتی متر و ۲۰ سانتی متر ← ۲۲ سانتی متر

- ۸- ۱- ۳۳۶ به ... نزدیک تر است  
 ۲- ۷۲۸۹ به ... نزدیک تر است



۹- الف)  $\frac{1}{3}$  ب)  $\frac{1}{6}$  ج)  $\frac{2}{6} = \frac{1}{3}$

۱- الف



↓  
۳/۲

# نوین گام

## مرجع آموزش ابتدایی، دبیرستان و کنکور



ما توی این مسیر هواتون رو داریم

چجوری؟! اینجوری

