


نوین گام

مرجع آموزش ابتدایی، دبیرستان و کنکور



ما توی این مسیر هواتون رو داریم

چجوری؟! اینجوری



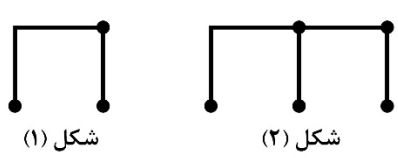
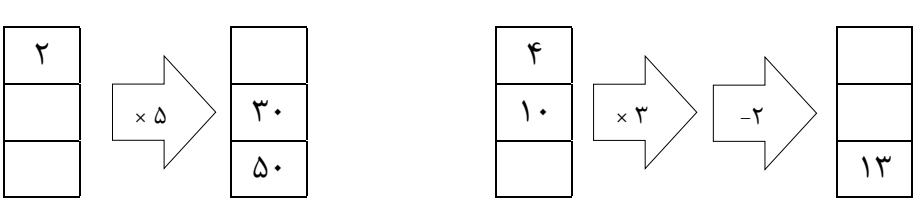
به نام خدا

دبستان : دخترانه گل یاس
ریاضی پایه چهارم

ارزشیابی سه ماهه اول (دی ماه)

تاریخ : ۱۴۰۰/۱۰/۲۵

نام و نام خانوادگی :

بارم	دخترای گلم به سوالات زیر پاسخ دهید.	ردیف
	<p>الگوهای زیر را پیدا کنید. الف) شکل (۶) را پیدا کنید.</p>  <p>شکل (۱) شکل (۲)</p> <p>ب) <input type="text" value="۱۱۰"/> <input type="text" value="۱۲۰"/> <input type="text" value="۱۳۰"/></p>	۱
	<p>جاهای خالی ماشین ورودی - خروجی را پر کنید.</p> 	۲
	<p>۱۰ نیمکت در یک کلاس، ۱۱۰ کلاس در یک مدرسه و ۱۰ مدرسه در یک محله جا می شود. در مدرسه چند نیمکت جا می شود. در محله چند نیمکت جا می شود.</p>	۳
	<p>حاصل جمع و تفریق های زیر را بنویسید.</p> $\frac{3}{7} + \frac{3}{7} = \underline{\hspace{2cm}}$ $\frac{7}{7} - \frac{6}{7} = \underline{\hspace{2cm}}$ $\frac{3}{8} + \frac{5}{8} = \underline{\hspace{2cm}}$ $\frac{7}{8} - \frac{2}{8} = \underline{\hspace{2cm}}$	۴
	<p>حاصل ضرب های زیر را بدست آورید.</p> $\begin{array}{r} 75 \\ \times 500 \\ \hline \end{array}$ $\begin{array}{r} 625 \\ \times 800 \\ \hline \end{array}$ $\begin{array}{r} 1392 \\ \times 70 \\ \hline \end{array}$ $\begin{array}{r} 375 \\ \times 502 \\ \hline \end{array}$	۵
	<p>تقسیم های زیر را انجام دهید.</p> $231 \overline{) 65}$ $570 \overline{) 28}$ $7533 \overline{) 31}$	۶

به نام خدا

پاسخنامه درس ریاضی پایه چهارم سه ماهه اول (دی ماه) تاریخ: ۱۴۰۰/۱۰/۲۵

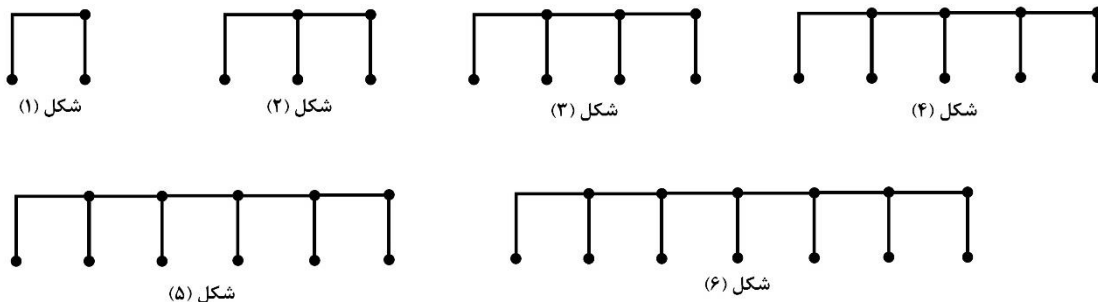
دبستان: دخترانه گل یاس

شرح پاسخنامه

ردیف

(الف)

۱

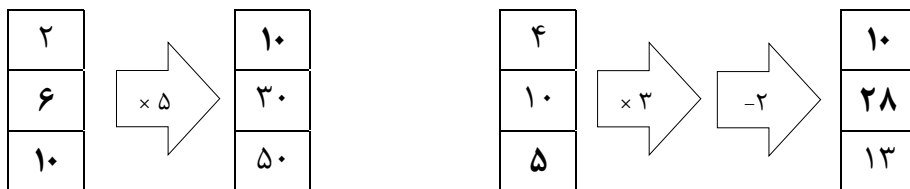


در شکل (۶): ۱۳ چوب کبریت قرار گرفته است.

۱۳۰ ۱۴۰ ۱۵۰ ۱۶۰ ۱۷۰ ۱۸۰ ۱۹۰ ۲۰۰ ۱۲۰ ۱۱۰

(ب)

۲



نیمکت در مدرسه $10 \times 10 = 100$

نیمکت در محله $10 \times 100 = 1000$

۳

۴ حاصل جمع و تفریق های زیر را بنویسید.

$$\frac{3}{7} + \frac{3}{7} = \frac{6}{7}$$

$$\frac{7}{7} - \frac{6}{7} = \frac{1}{7}$$

$$\frac{3}{8} + \frac{5}{8} = \frac{8}{8}$$

$$\frac{7}{8} - \frac{2}{8} = \frac{5}{8}$$

۴

۵ حاصل ضرب های زیر را بدست آورید.

$$\begin{array}{r} 75 \\ \times 500 \\ \hline 37,500 \end{array}$$

$$\begin{array}{r} 625 \\ \times 800 \\ \hline 500,000 \end{array}$$

$$\begin{array}{r} 1392 \\ \times 70 \\ \hline 97,440 \end{array}$$

$$\begin{array}{r} 375 \\ \times 502 \\ \hline 188,250 \end{array}$$

۵

۶ تقسیم های زیر را انجام دهید.

$$\begin{array}{r} 231 \overline{) 65} \\ - 195 \quad 3 \\ \hline 036 \end{array}$$

$$\begin{array}{r} 570 \overline{) 28} \\ - 560 \quad 20 \\ \hline 010 \end{array}$$

$$\begin{array}{r} 7533 \overline{) 31} \\ - 6200 \quad 243 \\ \hline 1333 \\ - 1240 \\ \hline 0093 \\ - 93 \\ \hline 00 \end{array}$$

۶

نوین گام

مرجع آموزش ابتدایی، دبیرستان و کنکور



ما توی این مسیر هواتون رو داریم

چجوری؟! اینجوری

