


# نوین گام

## مرجع آموزش ابتدایی، دبیرستان و کنکور



ما توی این مسیر هواتون رو داریم

چجوری؟! اینجوری



نام :

وزارت آموزش و پرورش

تاریخ آزمون:

نام خانوادگی:

اداره کل آموزش و پرورش استان خوزستان

پایه: پنجم ابتدایی

نام آموزگار: مهرانگیز رحیمی رضائی

اداره آموزش و پرورش ناحیه ۲ اهواز

زمان: ۵۰ دقیقه

دبستان: شاهد لاله های امام ارزشیابی مداد- کاغذی درس مطالعات اجتماعی نیمه اول سال تحصیلی ۱۴۰۱-۱۴۰۲ تعداد صفحات: ۳

### الف- فرزندم! درست و نادرست بودن جمله ها را مشخص کن.

درست نادرست

۱- در قانون اساسی، روش اداره ی کشور مشخص شده است.

۲- شادی احساسی است که فقط دیگران درما به وجود می آورند.

۳- اغلب تصادفات بر اثر سرعت غیرمجاز رخ می دهند.

۴- نمایندگان مجلس شورای اسلامی هر چهار سال یک بار با رای مردم انتخاب می شوند.

### ب- دلبندم! گزینه ی مناسب را انتخاب کن.

۱- مهم ترین راه ارتباط انسان ها با یکدیگر کدام است؟

الف- همدلی  ب- گفت و گو  ج- مشورت  د- شنونده

۲- کدام مورد از وظایف قوه ی مقننه است؟

الف- اجرای قوانین  ب- ساختن جاده و پل

ج- قانون گذاری  د- نظارت بر اجرای درست قوانین

۳- مهم ترین منبع آب شیرین کدام است؟

الف- قنات  ب- چشمه  ج- رودها  د- چاه

۴- به خرید و فروش در داخل یک کشور یا با کشورهای دیگر چه می گویند؟

الف- واردات  ب- صادرات  ج- حمل و نقل  د- بازرگانی

### پ- دلبندم! جمله ها را با کلمات مناسب کامل کن.

۱- ترس های به جا از انسان ..... می کنند.

۲- به مجموعه افرادی که در یک جا زندگی می کنند..... می گویند.

۳- به گروهی که برای انجام دادن کاری با یکدیگر مشورت می کنند ..... می گویند.

۴- میزان تبخیر و آلودگی آب ..... کمتر است.

### ت - فرزندانم! واردات و صادرات ایران را وصل کن.

|        |        |            |
|--------|--------|------------|
| خشکبار | صادرات | مس         |
| دارو   |        | وسایل برقی |
| کاغذ   | واردات | پتروشیمی   |

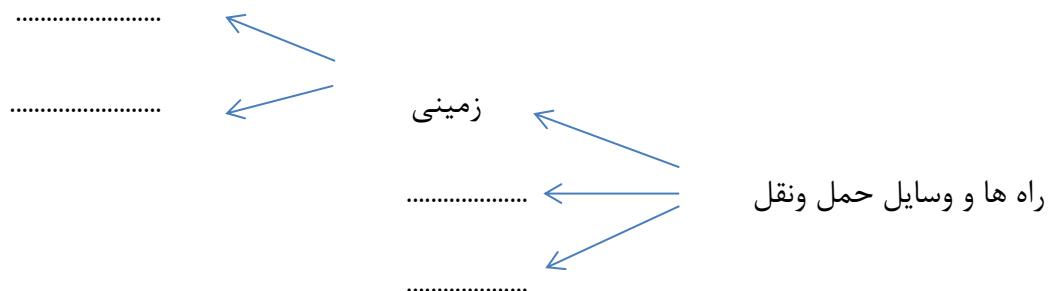
### ث - نازنینم! مفاهیم را تعریف کن.

الف - گروه:

ب - همدلی:

ج - صنایع مصرفی:

### و - فرزندانم! نمودار را کامل کن.



### ه - دلبندم! پاسخ پرسش های زیر را کامل بنویس.

۱ - دو مورد از ترس های به جا را بنویس.

۲ - برای برطرف کردن احساس غم چه راه هایی وجود دارد؟ (۳ مورد)

۳ - عوامل جذب کننده ی جمعیت را بنویس. (۴ مورد)

۴ - دو نمونه از مصرف نادرست آب در زندگی روزانه را بنویس.

۵- نام موسسه های زیر را بنویس . وظیفه ی یکی را به دلخواه بنویس.



۶- با توجه به نقشه پاسخ پرسش هارا بنویس.

۱- دریای در شمال ایران:

۲- دریای در جنوب ایران:

۳- رودی که به خلیج فارس می ریزد.

۴- یکی از رودهایی که به دریاچه ی ارومیه می ریزد.



| انتظارات   | خ خ | خ | ق ق | ن |
|--|-----|---|-----|---|
| راه برقراری ارتباط را می داند.                         |     |   |     |   |
| احساسات و راه های غلبه بر آن را می شناسد.              |     |   |     |   |
| به سوالات مربوط به آب ها و رودها به درستی پاسخ می دهد. |     |   |     |   |
| مفهوم همدلی و گروه را می داند.                         |     |   |     |   |
| عوامل جذب کننده ی جمعیت را می شناسد.                   |     |   |     |   |
| صنایع مصرفی را تعریف می کند.                           |     |   |     |   |
| با انواع راه ها آشنایی دارد.                           |     |   |     |   |
| صادرات و واردات ایران را تشخیص می دهد.                 |     |   |     |   |
| موسسه ها و وظایف آن ها را می شناسد.                    |     |   |     |   |
| وظیفه ی قوای سه گانه را می داند.                       |     |   |     |   |
| به سوالات نقشه پاسخ می دهد.                            |     |   |     |   |

بازخورد آموزگار: .....

## الف- فرزندم! درست و نادرست بودن جمله ها را مشخص کن.

درست نادرست

|                                     |                                     |
|-------------------------------------|-------------------------------------|
| <input type="checkbox"/>            | <input checked="" type="checkbox"/> |
| <input checked="" type="checkbox"/> | <input type="checkbox"/>            |
| <input type="checkbox"/>            | <input checked="" type="checkbox"/> |
| <input type="checkbox"/>            | <input checked="" type="checkbox"/> |

- ۱- در قانون اساسی، روش اداره ی کشور مشخص شده است.
- ۲- شادی احساسی است که فقط دیگران درما به وجود می آورند.
- ۳- اغلب تصادفات بر اثر سرعت غیرمجاز رخ می دهند.
- ۴- نمایندگان مجلس شورای اسلامی هر چهار سال یک بار با رای مردم انتخاب می شوند.

## ب- دلبندم! گزینه ی مناسب را انتخاب کن.

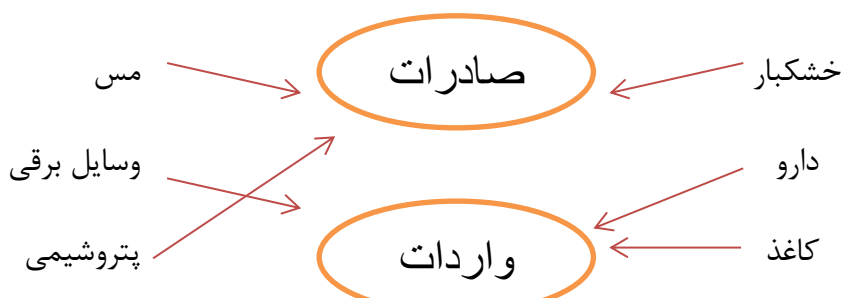
- ۱- مهم ترین راه ارتباط انسان ها با یکدیگر کدام است؟  
الف- همدلی  ب- گفت وگو  ج- مشورت  د- شنونده
- ۲- کدام مورد از وظایف قوه ی مقننه است؟  
الف- اجرای قوانین  ب- ساختن جاده وپل   
ج- قانون گذاری  د- نظارت بر اجرای درست قوانین
- ۳- مهم ترین منبع آب شیرین کدام است؟  
الف- قنات  ب- چشمه  ج- رودها  د- چاه
- ۴- به خرید و فروش در داخل یک کشور یا با کشورهای دیگر چه می گویند؟  
الف- واردات  ب- صادرات  ج- حمل و نقل  د- بازرگانی

## پ- دلبندم! جمله ها را با کلمات مناسب کامل کن.

نوبین گام [Novingam.com](http://Novingam.com)

- ۵- ترس های به جا از انسان ..... **محافظت** ..... می کنند.
- ۶- به مجموعه افرادی که در یک جا زندگی می کنند..... **جمعیت** ..... می گویند.
- ۷- به گروهی که برای انجام دادن کاری با یکدیگر مشورت می کنند .... **شورا** ..... می گویند.
- ۸- میزان تبخیر و آلودگی آب ..... **قنات** ..... کمتر است.

## ت- فرزندم! واردات و صادرات ایران را وصل کن.



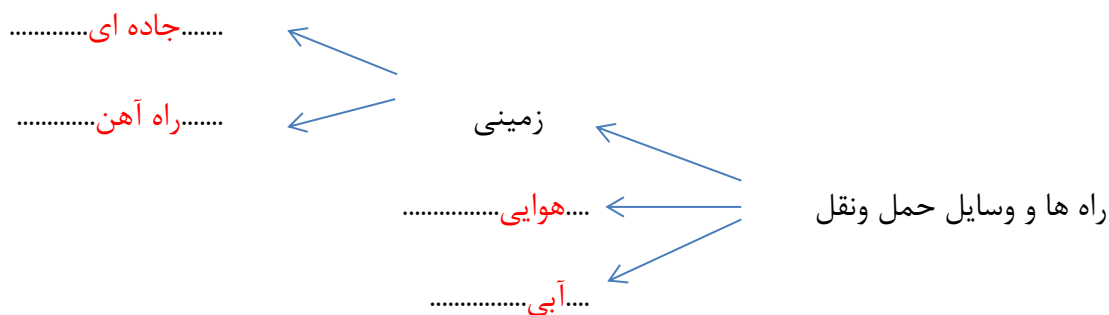
## ث - نازنینم! مفاهیم را تعریف کن.

الف- گروه: گروه از تعدادی افراد تشکیل می شود که فعالیت های مشترکی دارند و برای رسیدن به هدفی مشترک با هم ارتباط برقرار می کنند.

ب- همدلی: یعنی اینکه فرد بتواند احساسات، رفتار و شرایط دیگری را درک کند و خودش را به جای او بگذارد.

ج- صنایع مصرفی: صنایع مصرفی کالاهایی تولید می کنند که مردم آنها را می خرند و به طور مستقیم مصرف می کنند یا مورد استفاده قرار می دهند.

## و - فرزندم! نمودار را کامل کن.



## ه - دلبندم! پاسخ پرسش های زیر را کامل بنویس.

- ۵- دو مورد از ترس های به جا را بنویس. ترس از حیوانات درنده، ترس از بلندی و ترس از صداهای وحشتناک و مهیب.
- ۶- برای برطرف کردن احساس غم چه راه هایی وجود دارد؟ (۳ مورد)
- دعا کردن و از خداوند بزرگ کمک خواستن - درباره ی احساس اندوه خود نوشتن یا نقاشی کشیدن، کمک از بزرگ ترها و مشورت با آن ها.
- ۷- عوامل جذب کننده ی جمعیت را بنویس. (۳ مورد) دانشگاه- بیمارستان مجهز- فروشگاه های بیشتر
- ۸- دو نمونه از مصرف نادرست آب در زندگی روزانه را بنویس.  
شستن حیاط و اتومبیل - باز گذاشتن شیرآب هنگام مسواک زدن.
- ۵- نام موسسه های زیر را بنویس. وظیفه ی یکی را به دلخواه بنویس.  
سازمان انتقال خون ایران وظیفه ی گرفتن خون از داوطلبان و انتقال آن به درمانگاه ها و بیمارستان ها را برعهده دارد.



۹- با توجه به نقشه پاسخ پرسش هارابنویس.

۵- دریایی در شمال ایران: **دریای خزر**

۶- دریایی در جنوب ایران: **دریای عمان**

۷- رودی که به خلیج فارس می ریزد. **اروند رود**

۸- یکی از رودهایی که به دریاچه ی ارومیه می ریزد. **تلخه رود- زرینه رود- سیمینه رود (یک مورد)**

# نوین گام

## مرجع آموزش ابتدایی، دبیرستان و کنکور



ما توی این مسیر هواتون رو داریم

چجوری؟! اینجوری

