


نوین گام

مرجع آموزش ابتدایی، دبیرستان و کنکور



ما توی این مسیر هواتون رو داریم

چجوری؟! اینجوری



سوالات آزمون: مطالعات اجتماعی
 پایه: نهم
 نام دبیر: هادی
 نام و نام خانوادگی:
 کلاس:

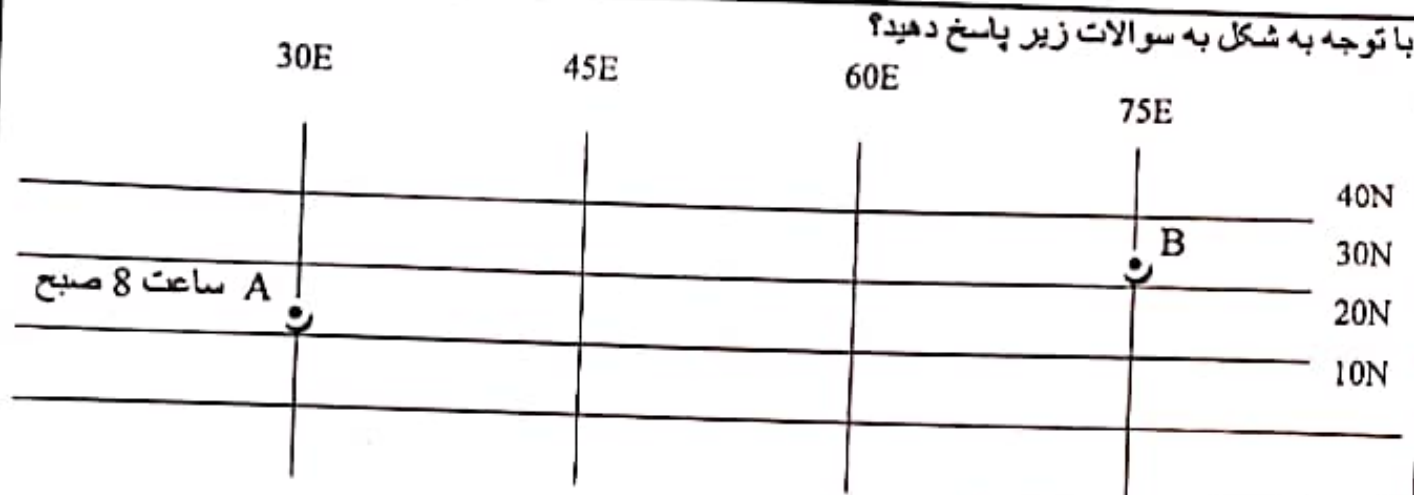
پسته نعلی
 وزارت آموزش و پرورش
 مدیریت آموزش و پرورش شهرستان اهر
 دبیرستان غیرانتفاعی کوثران (دوره اول)

تاریخ آزمون: 1401/10/17
 مدت آزمون: 60 دقیقه
 تعداد صفحه: 4
 نمره با عدد:
 نمره با حروف:
 شروع آزمون: 11 صبح

سال " تولید دانش بنیان، اشتغال آفرین را گرامی می داریم.

دخترم با یاد خدا آغاز کن و خودت را باور کن

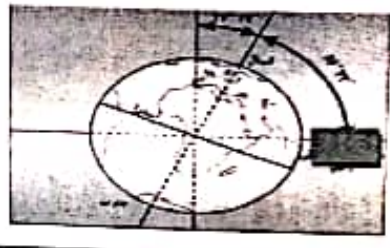
فصل اول



- با توجه به شکل به سوالات زیر پاسخ دهید؟
- در شهر B ساعت چند است؟
 - در کدام شهر اذان زودتر پخش می شود؟
 - طول شهر B چقدر است؟
 - عرض شهر A چقدر است؟

فرض کنید در استرالیا بسر می برید در همان زمان که خورشید در مدار راس السرطان عمود می تابد در استرالیا چه فصلی است؟ () در ایران چه فصلی است؟ ()

برای این تصویر عنوان مناسب نوشته و بگویند باعث چه می شود؟



زهره در روز 30 اسفند متولد شده است آیا او هر سال می تواند در این روز جشن تولد بگیرد؟ چرا؟

در جملات زیر غلط علمی را بیابید و صحیح آنرا بنویسید؟
 الف) نتیجه حرکت انتقالی زمین، پدید آمدن شب و روز و اختلاف ساعت است.
 ب) مدارها نیم دایره های فرضی هستند که به موازات استوا رسم شده اند

فصل دوم

1	<p>هر کدام از موارد زیر مربوط به تاثیر کدام یک از عوامل موثر بر ناهمواریها می باشد؟ (طبیعی-انسانی)</p> <p>(الف) چین خوردگی (ب) خانه های روستایی کندوان (ج) ساخت سد (د) گسل</p>	6
1	<p>این جملات مربوط به کدامیک از عوامل موثر بر آب و هوای جهان می باشد؟</p> <p>(الف) خشکی ها زودتر از آنها گرم می شوند و سریعتر گرمای خود را از دست می دهند. (ب) سرزمینهای نزدیک استوا اشعه عمودی خورشید را دریافت می کند.</p>	7
1	<p>کوهی با ارتفاع 7200 متر از سطح دریا قرار دارد که در قله آن دمای هوا منفی 21 درجه در دامنه این کوه دمای هوا چند خواهد بود؟ دامنه این کوه از سطح دریا 3700 متر است.</p> <p style="text-align: center;">-21</p>	8
		
0/5	<p>به سوالات زیر جواب کوتاه دهید.</p> <p>(الف) محل برخورد دو جریان دریایی سرد لابرادر و گرم گلف استریم از مهمترین مناطق برای چه کاری بحساب می آید؟ (ب) کدام مناطق در دریاها و اقیانوسها از نظر وجود منابع سرشار نفت و گاز و جزایر ماهیگیری اهمیت دارند؟</p>	9

فصل سوم

1	<p>هر کدام از حیوانات و گیاهان زیر به کدام زیست بوم مربوط می شود؟</p>	10
		
<p>درختان باتوباب عقاب کاکل سفید درختان بامبو مارمولک خردار استرالیایی</p>		
0/5	<p>بیابان گبی در مغولستان و لوت در ایران چه تفاوتی باهم دارند؟</p>	11
1	<p>دو دیدگاه متفاوت در مورد آمازون :</p> <p>1- آمازون متعلق به همه ساکنان زمین است و باید جلوی قطع درختان گرفته شود؟ 2- جلوگیری از قطع درختان برای کشورهایی که اقتصادشان وابسته به این جنگلها است زیانناهی دارد و موجب بیکاری می شود. نظر شما چیست؟ چه باید کرد؟</p>	12
 <p style="text-align: center;">قطع درختان</p>		

فصل چهارم

کدام مهاجرت با بقیه متفاوت است؟

- الف) مهاجرت مربی پررقالی به ایران جهت مربیگری ب) مهاجرت مهندس نفت ژاپنی به سلویه
 ج) مهاجرت خانواده افغانی به ایران در دهه 60 د) مهاجرت دانشجو برای تحصیل به کانادا

در مورد مهاجرت به سوالات زیر جواب دهید.

- الف- علل مهاجر پذیر بودن شهری مانند تبریز (دومورد)
 ب- در مورد علل مهاجر فرست بودن شهری مانند اهر (دو مورد)

این تصویر به کدام یک از ملاکهای توسعه انسانی مربوط می شود نام برده آنرا تعریف کنید؟



کدام مورد به عوامل خارجی و کدام مورد به عوامل داخلی نابرابری جهانی مربوط است؟

- الف) کم اهمیت انگاشتن کار و تلاش ب) جلوگیری از استقلال سیاسی و اقتصادی کشورها
 ج) مستعمره کردن کشورها در گذشته د) نبودن وحدت و مشارکت بین مردم

فصل پنجم (حال رسیدیم به درس شیرین تاریخ)

18 من کیستم؟

- الف) در دوره صفوی مقام من بعد از مقام شاه قرار داشت و مسئول امور اداری و مالی کشور بودم. ()
 ب) پادشاهی بودم که توانستم حکومت صفوی را تثبیت کنم و تحکیم ببخشم. ()

19 فرض کنید شما دختر یک بازرگان ایرانی در دوره صفویه بودید که در اصفهان زندگی می کردید شهری که دارای بناهای زیبا و هنرمندان و دانشمندان زیادی بود و مراسم و جشنهای باستانی و اعیاد اسلامی در شهر برگزار می شد و جهانگردان وارد شهر می شدند با توجه به متن به سوالات پاسخ دهید؟

الف) هنرمندان این شهر در چه رشته هایی شهرت زیاد داشتند (دو مورد)

ب) چه جشنها و اعیاد اسلامی گرامی داشته می شد (دو مورد)

ج) به جز شغل پدر شما چه اشخاص دیگری با چه شغلهای دیگری در این شهر سکونت داشتند (دو مورد)

0/5	20	صحيح يا غلط بودن جملات را مشخص كنيد. الف) شاه اسماعيل براي تقويت حكومت مركزي ولايت ها را از قزلباشها گرفت؟ ب) شاه عباس براي خارج كردن انگليسي ها از ايران از نيروي دريائي پرتغالي ها استفاده كردند. ص <input type="checkbox"/> غ <input type="checkbox"/> ص <input type="checkbox"/> غ <input type="checkbox"/>
0/5	21	چه عاملی باعث شد بعد از مرگ شاه عباس اول صفویه تقریباً از داشتن پادشاهی لایق و توانمند محروم بماند؟
فصل ششم		
1	22	هر کدام از موارد سمت چپ به کدام پادشاه مربوط می باشد با خط وصل کنید یک گزینه اضافی است. الف) آقا محمد خان قاجار ب) نادر شاه افشار ج) کریم خان زند د) ناصرالدین شاه نهضت تنباکو دوران آسایش و آرامش گذرا لشکر کشی به هندوستان نفوذ و دخالت روسها و انگلیسی ها در ایران قتل عام مردم کرمان
0/5	23	حکم شرعی..... باعث لغو امتیاز تنباکو گردید. (میرزا حسن رشدیه- میرزا حسن شیرازی) به موجب این قرارداد ایران از داشتن کشتی جنگی در دریای مازندران محروم گردید. (گلستان- ترکمانچای)
1	24	کدام اقدام امیر کبیر در جهت تکمیل اقدام عباس میرزا (فرستادن افرادی به انگلستان برای فراگیری علوم و فنون جدید) انجام گرفت نام برده در مورد علت این اقدام امیر کبیر چند جمله توضیح دهید.
0/5	25	به نظر شما هدف انگلستان در دوره قاجار از جدایی افغانستان و قسمت شرقی سیستان و بلوچستان از ایران چه بود؟

شاد باشید-هادی

سوالات

3

فصل اول

1	الف) 11 صبح ب) شهر B ج) 75E د) 20N	1
0/5	(استرالیا - زمستان) (ایران - تابستان)	2
1	مایل بودن محور قطب ها زاویه تابش خورشید در طول سال تغییر می کند درازی شب و روز نامساوی می شود و فصلهای مختلف بوجود می آید.	3
0/5	نه خیر- زیرا در سال کبیسه متولد شده است و این سال هر 4 سال یکبار اتفاق می افتد.	4
0/5	الف) انتقالی (وضعی) ب) نیم دایره - دایره	5

فصل دوم

1	الف- طبیعی ب- انسانی ج- انسانی د- طبیعی	6
1	الف) (دوری و نزدیکی به دریا) ب) (عرض جغرافیایی)	7
1	$7200 - 3700 = 3500$ $\begin{array}{r l} 1000 & 3500 \\ +6 & +21 - 21 = 0 \end{array}$	8
0/5	الف) صید ماهی ب) فلات قاره یا ایوان خشکی	9

فصل سوم

1	   	10
0/5	سوان نابگ جنگلهای استوایی بیابان	
0/5	گی بیابان سرد- لوت بیابان گرم	11
1	بستگی به نظر دانش آموز	12

1	13	1- باید بین استفاده اقتصادی از جنگلها و فرصت بازسازی آنها تعادل بوجود بیاید 2- کشاورزی و دامپروری با روشهای علمی و جدید که کمترین آسیب را به محیط زیست می رسانند به کشاورزان منطقه آموزش دهند. 3- ایجاد پارکهای وحش برای مراقبت از گونه های جانوری و گیاهی
فصل چهارم		
	14	ج
1	15	الف-بودن امکانات پزشکی رفاهی تحصیلی اشتغال ب- نبودن امکانات پزشکی-رفاهی-تحصیلی-نظرات شخصی دانش آموزان مورد احترام است.
1	16	امید به زندگی یا متوسط طول عمر تعداد سالهایی که انتظار می رود کودکی که در آن کشور بدنیا آمده است عمر کند و زنده بماند.
1	17	الف) داخلی ب) خارجی ج) خارجی د) داخلی
فصل پنجم (حال رسیدیم به درس شیرین تاریخ)		
0/5	18	الف) وزیر بزرگ (اعتماد الدوله) ب) شاه تهماسب اول
1/5	19	الف) معماری- نقاشی- خوشنویسی-کتاب آرای- خاتم کاری ب) نوروز- قربان- فطر- غدیر ج) مقام های حکومتی- نظامیان- روحانیون-بازرگانان- پیشه وران- صنعتگران
0/5	20	الف) غ ب) غ
0/5	21	1- سیاست کشتن و کور کردن شاهزادگان 2- جلوگیری از حکومت آنها بر ولایتها
فصل ششم		
1	22	الف) اقا محمد خان قاجار (قتل عام مردم کرمان) ب) نادرشاه افشار (لشکر کشی به هندوستان) ج) کریم خان زند (دوران آسایش و آرامش گذرا) د) ناصرالدین شاه (نهضت تنباکو)
0/5	23	(میرزا حسن شیرازی) (ترکمانچای)
1	24	تاسیس مدرسه دالنفون : او فرستادن دانشجو به اروپا را کافی نمی دانست تصمیم گرفت مدرسه ای به سبک مدرسه های جدید در ایران تاسیس کند تا عده بیشتری از ایرانیان علوم و فنون جدید را بیاموزند.
0/5	25	برای حفظ هندوستان

نوین گام

مرجع آموزش ابتدایی، دبیرستان و کنکور



ما توی این مسیر هواتون رو داریم

چجوری؟! اینجوری

