

نوین گام

مرجع آموزش ابتدایی، دبیرستان و کنکور



ما توی این مسیر هواتون رو داریم

چجوری؟! اینجوری



نام و نام خانوادگی :

تکلیف مهارتی درس پنجم - ۱۳۹۷

۱- جدول زیر را علامت بزن.

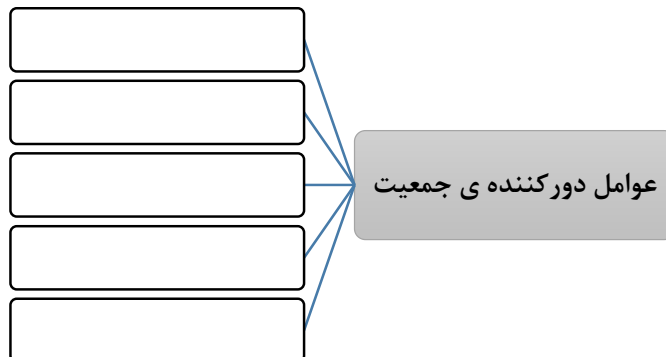
پراکندگی جمعیت ایران		جمعیت زیاد	پرجمعیت	شهرها و روستاها پرجمعیت	جمعیت کم یا خالی از جمعیت
نواحی جمعیت ایران					
ناحیه ی کوهپایه ای البرز و زاگرس					
ناحیه ی تهران و اطراف آن					
ناحیه ی داخلی					
ناحیه ی کناره ی دریای خزر					

۲- بر روی نقشه ی پراکندگی جمعیت در ایران، هر ناحیه ی جمعیتی را با یک رنگ نشان بده و معرفی کن.



۱.
۲.
۳.
۴.

۳- چه عواملی موجب می شود جمعیت یک منطقه کم شود؟



۴- واژه های زیر را تعریف کن.

جمعیت:

مهاجرت:

۵- جاهای خالی را با کلمه های مناسب پر کن.

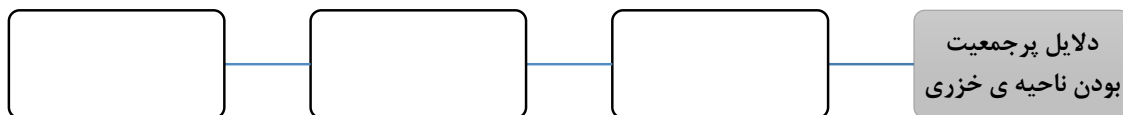
- اگر تعداد افرادی که متولد می شوند از تعداد افرادی که می میرند، بیشتر باشند؛ جمعیت می یابد.
- در نواحی داخلی ایران بارندگی است.
- ناحیه ی و اطراف آن پرجمعیت ترین جای کشور است.
- ناحیه ی وسعت کمی دارد، اما پرجمعیت است.
- نواحی کوهپایه ای به دلیل آب و هوای و خاک آبرفتی پرجمعیت است.
- جمعیت ایران در همه جای آن به طور یکسان پراکنده

۶- برای پرسش های زیر پاسخ کوتاه بنویس.

- دو دلیل پرجمعیت بودن تهران را نام ببر.
- کدام ناحیه ی ایران جمعیت کم تری در خود جای داده است؟
- وقتی مردم برای زندگی یا کار به جایی بروند، چه کرده اند؟

۷- برای پرسش های زیر پاسخ کامل بنویس.

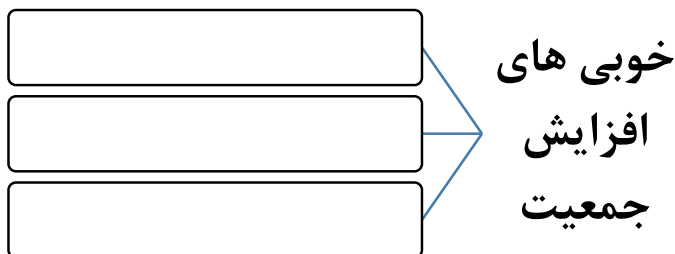
- نمودار را کامل کن.



- چرا هرچه به طرف نواحی داخلی ایران برویم، جمعیت کم تر می شود؟

- دلایل پرجمعیت بودن شهرها و روستاهای نواحی کوهپایه ای را نام ببر.

۸- نمودار را کامل کن.



۹- عبارت های زیر را در محل خود بنویس.

جمعیت زیاد ، آب و هوای مساعد ، وجود معدن های مختلف ، بسیار کم جمعیت یا خالی از جمعیت ، وجود پایتخت ، شهرها و روستاهای پرجمعیت ، خاک آبرفتی ، کمبود بارندگی ، وجود دانشگاه ، وجود اداره و کارخانه ، زمین های شور ، خاک نامساعد ، خاک مناسب برای کشاورزی ، باران کافی ، آب و هوای معتدل

ناحیه ی کوهپایه ای البرز و زاگرس	ناحیه ی داخلی	ناحیه ی تهران و اطراف آن	ناحیه ی کناره ی دریای خزر

جدول

جدول زیر را حل کن.

۱. در ناحیه ی کوهپایه ای البرز و زاگرس شهر و پرجمعیت است.
۲. به مجموعه افرادی که در یک جا زندگی می کنند، می گویند.
۳. در نواحی کوهپایه ای به دلیل آب و هوای معتدل جمعیت شهر و روستا زیاد است.
- ۴- شهر به دلیل پایتخت بودن جمعیت زیادی را به خود جذب کرده است.
- ۵- اگر تعداد افرادی که می شوند بیشتر از افرادی باشد که می میرند جمعیت افزایش می یابد.
- ۶- کوهپایه های البرز و زاگرس به دلیل آب و هوای پرجمعیت هستند.
- ۷- ناحیه ی کناره ی دریای خزر آب و هوای و باران کافی دارد.
- ۸- جمعیت در همه جای ایران به طور پراکنده نشده است.
- ۹- نواحی ایران به دلیل بارندگی کم بسیار کم جمعیت یا خالی از جمعیت است.
- ۱۰- یکی از عوامل دورکننده ی جمعیت آب است.

					۱
					۲
					۳
					۴
					۵
					۶
					۷
					۸
					۹
					۱۰

موفق باشید - عزیزی

نوین گام

مرجع آموزش ابتدایی، دبیرستان و کنکور



ما توی این مسیر هواتون رو داریم

چجوری؟! اینجوری

