

نوین گام

مرجع آموزش ابتدایی، دبیرستان و کنکور



ما توی این مسیر هواتون رو داریم

چجوری؟! اینجوری



۱- برای مصرف درست در هر یک از موارد زیر چه پیشنهادی داری؟

الف. دانش آموز آب بطری باقی مانده را روی زمین می ریزد، در حالی که چند گلدان در کنار آن قرار دارد!

ب. دانش آموز لیوان آب را از شیر پر کرده و می خورد. شیر آب باز است.


۲- رودها را به سرچشمه ی آن ها وصل کن.



کوه‌های آذربایجان



رشته کوه زاگرس



رشته کوه البرز

کرج ، کر ، زاینده رود، کارون، سیمینه رود، تلخه رود، چالوس، جاجرود، کرخه، کرج، زربینه رود، گرگان

۳- به گفت و گوی بچه ها در مورد علت کم آبی در ایران، دقت کن.

- آرمان: مسیر رودهای ایران به کشورهای همسایه سرازیر می شود.

- آرش: میزان متوسط بارندگی سالانه در کشور ایران کم تر از ۲۵۰ میلی متر است.

نظر شما درباره ی علت کم آبی ایران چیست؟

وظیفه ی ما در مقابل کم آبی چیست؟

۴- واژه های زیر را تعریف کن.

رودهای فصلی:

رودهای شور:

سد:

۵- هر یک از رودها به کدام آب ها سرازیر می شوند؟ شماره ی آن ها را روبه روی هر رود بنویس.

۱- دریاچه نمک	۲- دریاچه ارومیه
۳- دریای خزر	۴- خلیج فارس
۵- دریاچه بختگان	۶- باتلاق گاوخونی

زرینه رود: کرج: گرگان: تلخه رود: رودکر: جاجرود:
زاینده رود: چالوس: سفیدرود: سیمینه رود: اترک: ارس: اروندرود:

۶- عبارت های ستون (۱) را به کلمه های مربوط به آن در ستون (۲) وصل کن.

چشمه

اولین بار ایرانیان آن را درست کردند.

آب زیرزمینی که خود به خود به سطح زمین راه پیدا کند.

تونل زیرزمینی است.

تبخیر و آلودگی کمی دارد.

قنات

از مناطق پرآب به مناطق کم آب می رود.

۷- در نقشه ی ایران فعالیت های زیر را انجام بده.



الف. آب ها را آبی رنگ بزن.

ب. نام رودهایی که شماره مشخص شده بنویس.

- | | | | | |
|----|----|----|----|-----|
| ۱. | ۲. | ۳. | ۴. | ۵. |
| ۶. | ۷. | ۸. | ۹. | ۱۰. |

ب. جاهای خالی را با کلمه های مناسب پر کن.

۶- از به هم پیوستن رودهای دجله و فرات و کارون به وجود می آید.

۷- رود کُر به می ریزد.

۸- مردم برای استفاده از آب های زیرزمینی چاه یا حفر می کنند.

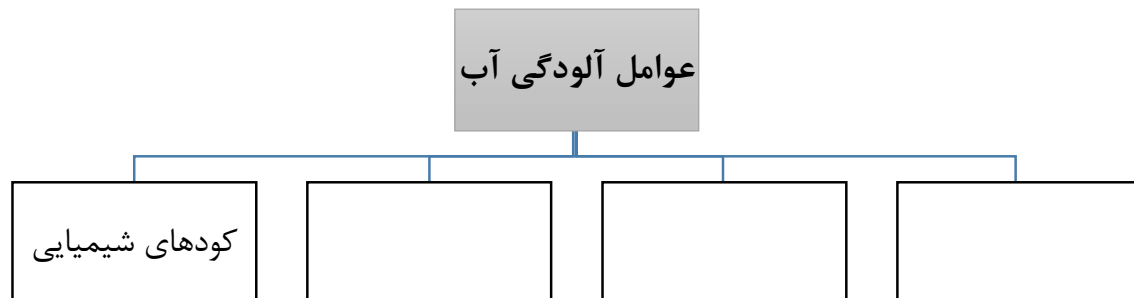
۹- از به هم پیوستن جویبارها تشکیل می شود.

۱۰- آب قنات از زیرزمین عبور می کند، بنابراین میزان و آلودگی آن بسیار کم است.

۱۱- بیشتر رودهای ایران هستند.

۱۲- از آب رودهایی که از عبور می کنند، نمی توان استفاده کرد.

۲۵- نمودار را کامل کن.



*** جدول زیر را حل کن و برای کلمه ی رمز یک جمله بنویس.**

۱. دریاچه ای در نزدیکی شهر شیراز که رود کُر به آن می ریزد.

۲- دهانه ی زاینده رود است.

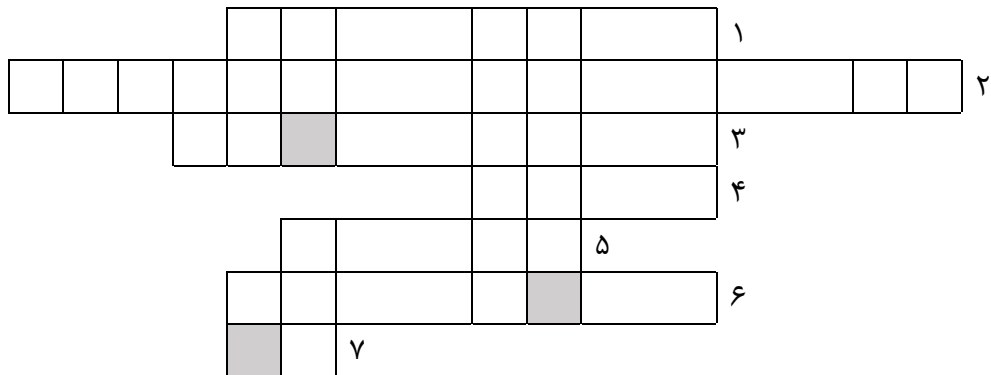
۳- این رود از به هم پیوستن دو رود قزل اوزن و شاهرود به وجود می آید و به دریای خزر می ریزد.

۴- یکی از رودهایی که آب مصرفی شهر تهران را تأمین می کند.

۵- این نوع رودها در تابستان یا شروع گرما خشک می شوند.

۶- آب شیرین مورد نیاز انسان از منابع برق و ... به دست می آید.

۷- یکی از راه های ذخیره ی آب است.



(کلمه ی رمز را می توانی در خانه های پیدا کنی () کلمه ی رمز:

جمله:

موفق باشید - عزیزی

نوین گام

مرجع آموزش ابتدایی، دبیرستان و کنکور



ما توی این مسیر هواتون رو داریم

چجوری؟! اینجوری

