


نوین گام

مرجع آموزش ابتدایی، دبیرستان و کنکور




ما توی این مسیر هواتون رو داریم


چجوری؟! اینجوری



نام خانوادگی :	باسمه تعالی	نوبت امتحانی:
نام درس: ریاضی.....	اداره کل آموزش و پرورش استان فارس	پایه: ششم
	کارشناسی سنجش و ارزشیابی تحصیلی	تاریخ امتحان:
	اداره آموزش و پرورش شهرستان گراش	مدرس: جهانگیری راد
	دبستان شهیدرامیارپور	

ردیف	سؤالات	بارم
	چند گزینه ای	
۱	نسبت اندازه ی اضلاع یک لوزی به اندازه ی محیط آن کدام است؟ الف) ۱ به ۲ ب) ۱ به ۴ ج) ۱ به ۸ د) ۱ به ۱۶	
۲	اگر قیمت یک مداد از ۶۰ ریال به ۷۵ ریال افزایش یابد، درصد افزایش قیمت چه قدر خواهد بود؟ ۱) ۱۵% ۲) ۲۰% ۳) ۲۵% ۴) ۳۵%	
۳	مساحت قسمت رنگ شده چه کسری از مساحت کل شکل است؟  ۱) $\frac{3}{5}$ ۲) $\frac{2}{3}$ ۳) $\frac{1}{3}$ ۴) $\frac{1}{2}$	
۴	برای بیان مساحت یک اتاق کدام واحد سطح مناسب تر است؟ الف) سانتی متر مربع ب) دسی متر مربع ج) متر مربع د) هکتار	
۵	اگر ۸ لباس روی یک طناب در ۴ ساعت خشک شوند، ۱۲ لباس در همان شرایط چندساعته خشک می شوند؟ ۱) ۴ ۲) ۵ ۳) $5\frac{1}{2}$ ۴) ۶	
	تشریحی	

نام خانوادگی :	باسمه تعالی	نوبت امتحانی:
نام درس:	اداره کل آموزش و پرورش استان فارس	پایه: ششم
	کارشناسی سنجش و ارزشیابی تحصیلی	تاریخ امتحان:
	اداره آموزش و پرورش شهرستان گراش	مدرس: جهانگیری راد
	دبستان شهیدرامیارپور	

۶	برای تهیه ی نوعی رنگ سبز هر ۲۰۰ کیلوگرم رنگ آبی را با ۱۲۰ کیلوگرم زرد مخلوط می کنیم. اگر ۹۰ کیلوگرم رنگ زرد داشته باشیم، به چند کیلوگرم رنگ آبی نیاز داریم؟
۷	نسبت پول علی به احمد ۳ به ۵ است. اگر اختلاف پول آن ها ۷۰۰ تومان باشد، مقدار پول هر کدام را حساب کنید.
۸	کسری مساوی $\frac{2}{9}$ بنویسید که اختلاف صورت و مخرج آن ۶۳ باشد.
۹	مساحت هریک از شکل های زیر را بر حسب مترمربع بنویسید. (اندازه های هر شکل فرضی است). 
۱۰	مأمور سرشماری جمعیت در خانه ی مردی را زد و از او پرسید: « چند فرزند داری؟ » او جواب داد: « ۳ فرزند » مأمور پرسید: « سن ، آن ها چه قدر است؟ » آن مرد که کمی شوخ طبع بودو به ریاضی علاقه ی زیادی داشت، به مأمور سرشماری گفت: « اگر اطلاعات بیشتری می خواهی، این معتمرا حل کن: حاصل ضرب سن فرزندان من ۱۲ سال است و دو فرزند بزرگتر من یک سال اختلاف سن دارند.» شما برای کمک به مأمور سرشماری ، سن فرزندان آن مرد را حساب کنید. (سوال ویژه)

نوین گام

مرجع آموزش ابتدایی، دبیرستان و کنکور



ما توی این مسیر هواتون رو داریم

چجوری؟! اینجوری

