

نوین گام

مرجع آموزش ابتدایی، دبیرستان و کنکور




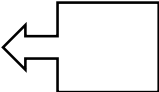

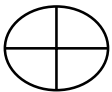
ما توی این مسیر هواتون رو داریم

چجوری؟! اینجوری



نام و نام خانوادگی:

طراح: سریری

۳	<p>۳۴۸۹۰۷۱۲۵۷۶۱</p> <p>عدد زیر را به حروف بنویسید و به سوالات زیر جواب دهید.</p> <p>الف) بیشترین رقم در کدام طبقه و مرتبه قرار دارد؟ ب) بزرگ ترین ارزش مکانی برای کدام رقم می باشد؟ در چه مرتبه و طبقه ای؟</p>						
۲	<p>الگوهای زیر را ادامه دهید.</p> <p>۱-۳-۶-۱۰-.....-.....-.....</p> <p>۱-۴-۹-۱۶-.....-.....-.....</p>						
۳	<p>جمع و تفریق کنید.</p> <table style="width: 100%; border-collapse: collapse;"> <tr> <td style="text-align: right; padding-right: 20px;">۵ ۱۵ ۳۵</td> <td style="text-align: right; padding-right: 20px;">۱۹ ۲۰ ۳۰</td> </tr> <tr> <td style="text-align: right; padding-right: 20px;">+ ۶ ۵۵ ۴۰</td> <td style="text-align: right; padding-right: 20px;">- ۶ ۳۵ ۴۰</td> </tr> <tr> <td style="text-align: right; padding-right: 20px;"><hr style="width: 100%;"/></td> <td style="text-align: right; padding-right: 20px;"><hr style="width: 100%;"/></td> </tr> </table>	۵ ۱۵ ۳۵	۱۹ ۲۰ ۳۰	+ ۶ ۵۵ ۴۰	- ۶ ۳۵ ۴۰	<hr style="width: 100%;"/>	<hr style="width: 100%;"/>
۵ ۱۵ ۳۵	۱۹ ۲۰ ۳۰						
+ ۶ ۵۵ ۴۰	- ۶ ۳۵ ۴۰						
<hr style="width: 100%;"/>	<hr style="width: 100%;"/>						
۵	<p>جمع و تفریق و ضرب و تقسیم های زیر را انجام دهید و برای هر کدام روش خواسته شده را بنویسید.</p> <p>$3\frac{1}{3} + 1\frac{1}{3} =$ (محور)</p> <p>$2\frac{1}{3} - 1\frac{2}{4} =$ (شکل)</p> <p>$2\frac{3}{4} \times 1\frac{1}{3} =$ (روش مساحتی)</p> <p>$\frac{4}{5} \div \frac{2}{3} =$ (روش محاسباتی)</p>						
۲	<p>نسبت سن پدری به فرزندش ۱۲ به ۲ است. اگر دختر ۶ ساله باشد، اختلاف سن این پدر و دختر چند سال است؟</p>						
۳	<p>کتابی را با ۲۰ درصد تخفیف به مبلغ ۴۶۰۰۰ تومان خریدیم. قیمت اولیه کتاب چند بوده است؟</p>						
۲	<p>تقارن شکل های زیر را رسم کنید.</p> <div style="display: flex; justify-content: space-around; align-items: center;">     </div>						

نوین گام

مرجع آموزش ابتدایی، دبیرستان و کنکور



ما توی این مسیر هواتون رو داریم

چجوری؟! اینجوری

