

نوین گام

مرجع آموزش ابتدایی، دبیرستان و کنکور



ما توی این مسیر هواتون رو داریم

چجوری؟! اینجوری



نام و نام خانوادگی :

پایه پنجم ابتدایی

ارزشیابی ریاضی / ۸

۱- دو معلم ۱۵۰ ورقه امتحانی را تصحیح می کنند . اگر نسبت تعداد برگه های معلم اول به معلم دوم ۲ به ۳ باشد هر کدام از معلم ها چند ورقه را تصحیح کرده اند ؟

۲- نسبت پول رضا به برادرش ۳ به ۷ است . اگر مجموع پول آن ها ۶۰۰ ریال باشد، پول هر یک را حساب کنید ؟

۳- نسبتی مساوی $\frac{9}{15}$ بنویسید که :

الف) صورت آن ۲۴ باشد .

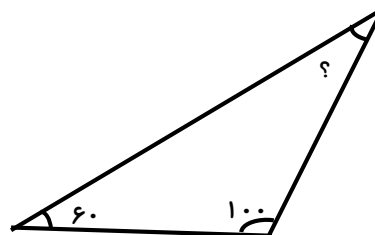
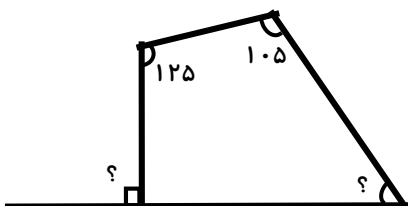
ب) مخرج آن ۶۵ باشد .

۴- کالایی را که ۲۴۰۰ تومان قیمت داشت با ۱۱٪ تخفیف خریده ایم .

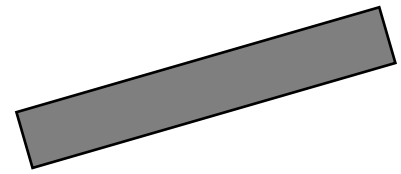

الف) چقدر پول به فروشنده داده ایم ؟

ب) چقدر تخفیف گرفته ایم ؟

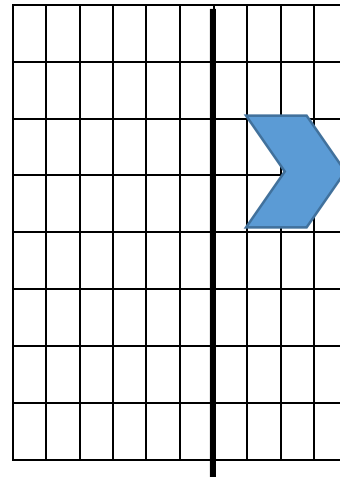
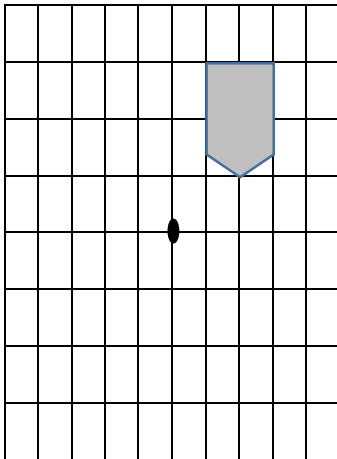
۵- زاویه های خواسته شده را حساب کنید.



۶- خط تقارن هر شکل را بکشید .



۷- در مورد هر شکل قرینه شکل داده شده را رسم کنید .



۸- یک لوزی رسم کنید که قطر آن ۲ و ۵ سانتی متر باشد .

نوین گام

مرجع آموزش ابتدایی، دبیرستان و کنکور



ما توی این مسیر هواتون رو داریم

چجوری؟! اینجوری

