

نوین گام

مرجع آموزش ابتدایی، دبیرستان و کنکور



ما توی این مسیر هواتون رو داریم

چجوری؟! اینجوری



نام و نام خانوادگی :

آزمون ریاضی - بهمن ۹۵
فصل ۳ و ۴

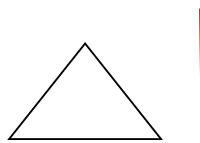
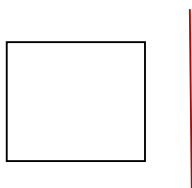
۱) نیمساز زاویه های زیر را رسم کنید.





۲) یک مثلث بکش و به دلخواه برای زاویه های آن یک عدد مناسب بنویس.

۳) نیم خطی که زاویه را نصف می کند،.....نامیده می شود.

۴) قرینه ی شکل های زیر را نسبت به خط تقارن رسم کنید.



۶) خط تقارن شکل های زیر را رسم کن.



۷) رونالدو در ۶۰۰ بازی که در کل شرکت کرده است، ۴۱۴ گل به ثمر رسانده است. درصد گل زدن رونالدو در هر بازی چه قدر بوده است؟

۸) از یک کیلوگرم ماست، ۸۰ گرم کره به دست می آید. برای به دست آوردن ۴۰۰ گرم کره، باید چند کیلوگرم ماست بخریم؟

۹) حمید ۲۸۰۰ تومان بیشتر از رضا دارد. اگر پول حمید سه برابر پول رضا باشد، پول هر کدام را به دست آورید.

۱۰) در یک اتوبوس ۲۰ نفر مسافر بودند. در اولین ایستگاه، یک چهارم مسافران اتوبوس، پیاده شدند. چند نفر پیاده شدند؟

اکنون چند نفر در این اتوبوس هستند؟

۱۱) چهار نسبت بنویسید که با نسبت سه به هفت مساوی باشد.

موفق باشید . عزیزى

نوین گام

مرجع آموزش ابتدایی، دبیرستان و کنکور



ما توی این مسیر هواتون رو داریم

چجوری؟! اینجوری

